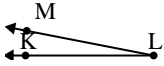




Löse jede Aufgabe.

Antworten

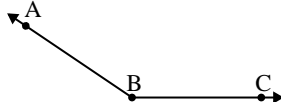
1)



Durch welche
Möglichkeit wird
 $\angle KLM$ dargestellt?

- A. 87°
- B. 11°
- C. 62°
- D. 176°

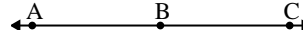
2)



Durch welche
Möglichkeit wird
 $\angle ABC$ dargestellt?

- A. 146°
- B. 99°
- C. 45°
- D. 16°

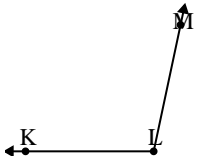
3)



Durch welche
Möglichkeit wird
 $\angle ABC$ dargestellt?

- A. 29°
- B. 103°
- C. 69°
- D. 180°

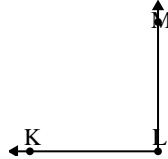
4)



Durch welche
Möglichkeit wird
 $\angle KLM$ dargestellt?

- A. 41°
- B. 102°
- C. 139°
- D. 76°

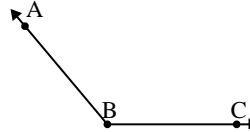
5)



Durch welche
Möglichkeit wird
 $\angle KLM$ dargestellt?

- A. 68°
- B. 90°
- C. 142°
- D. 35°

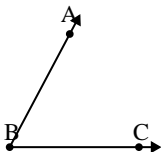
6)



Durch welche
Möglichkeit wird
 $\angle ABC$ dargestellt?

- A. 130°
- B. 52°
- C. 167°
- D. 11°

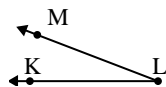
7)



Durch welche
Möglichkeit wird
 $\angle ABC$ dargestellt?

- A. 62°
- B. 120°
- C. 169°
- D. 4°

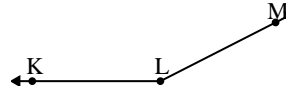
8)



Durch welche
Möglichkeit wird
 $\angle KLM$ dargestellt?

- A. 179°
- B. 105°
- C. 64°
- D. 21°

9)



Durch welche
Möglichkeit wird
 $\angle KLM$ dargestellt?

- A. 69°
- B. 131°
- C. 14°
- D. 153°

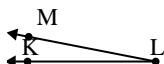
1. _____
2. _____
3. _____
4. _____
5. _____
6. _____
7. _____
8. _____
9. _____



Löse jede Aufgabe.

Antworten

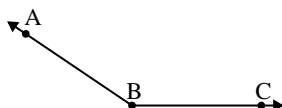
1)



Durch welche
Möglichkeit wird
 $\angle KLM$ dargestellt?

- A. 87°
- B. 11°
- C. 62°
- D. 176°

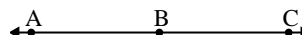
2)



Durch welche
Möglichkeit wird
 $\angle ABC$ dargestellt?

- A. 146°
- B. 99°
- C. 45°
- D. 16°

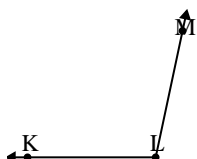
3)



Durch welche
Möglichkeit wird
 $\angle ABC$ dargestellt?

- A. 29°
- B. 103°
- C. 69°
- D. 180°

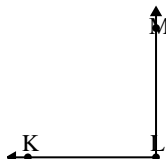
4)



Durch welche
Möglichkeit wird
 $\angle KLM$ dargestellt?

- A. 41°
- B. 102°
- C. 139°
- D. 76°

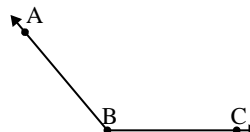
5)



Durch welche
Möglichkeit wird
 $\angle KLM$ dargestellt?

- A. 68°
- B. 90°
- C. 142°
- D. 35°

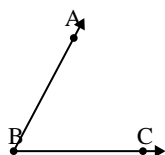
6)



Durch welche
Möglichkeit wird
 $\angle ABC$ dargestellt?

- A. 130°
- B. 52°
- C. 167°
- D. 11°

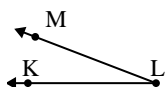
7)



Durch welche
Möglichkeit wird
 $\angle ABC$ dargestellt?

- A. 62°
- B. 120°
- C. 169°
- D. 4°

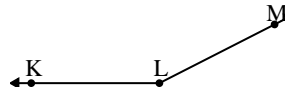
8)



Durch welche
Möglichkeit wird
 $\angle KLM$ dargestellt?

- A. 179°
- B. 105°
- C. 64°
- D. 21°

9)



Durch welche
Möglichkeit wird
 $\angle KLM$ dargestellt?

- A. 69°
- B. 131°
- C. 14°
- D. 153°

1. **B**
2. **A**
3. **D**
4. **B**
5. **B**
6. **A**
7. **A**
8. **D**
9. **D**