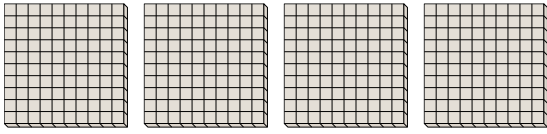




Schaue dir die Gruppen an um jede Frage zu beantworten.

Antworten

- 1) a. Wie viele Gruppen von 100 gibt es?
 b. Wie viele kleine Blöcke gibt es insgesamt?

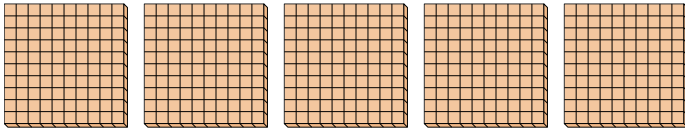


1. ____ ____

2. ____ ____

3. ____ ____

- 2) a. Wie viele Gruppen von 100 gibt es?
 b. Wie viele kleine Blöcke gibt es insgesamt?

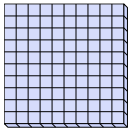


4. ____ ____

5. ____ ____


6. ____ ____

- 3) a. Wie viele Gruppen von 100 gibt es?
 b. Wie viele kleine Blöcke gibt es insgesamt?

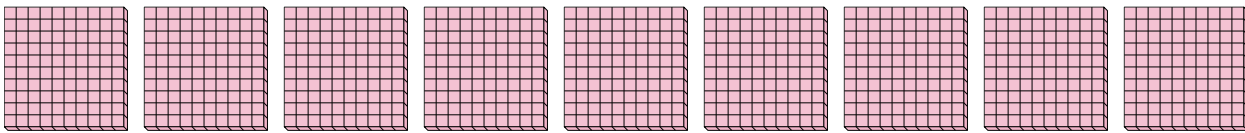


7. ____ ____

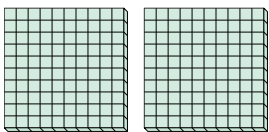
- 4) a. Wie viele Gruppen von 100 gibt es?
 b. Wie viele kleine Blöcke gibt es insgesamt?



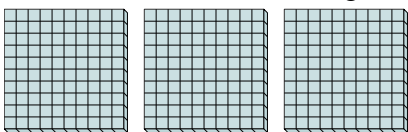
- 5) a. Wie viele Gruppen von 100 gibt es?
 b. Wie viele kleine Blöcke gibt es insgesamt?



- 6) a. Wie viele Gruppen von 100 gibt es?
 b. Wie viele kleine Blöcke gibt es insgesamt?



- 7) a. Wie viele Gruppen von 100 gibt es?
 b. Wie viele kleine Blöcke gibt es insgesamt?

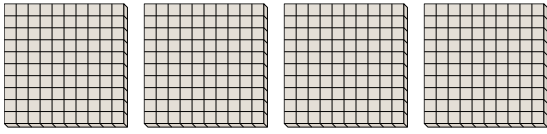




Schaue dir die Gruppen an um jede Frage zu beantworten.

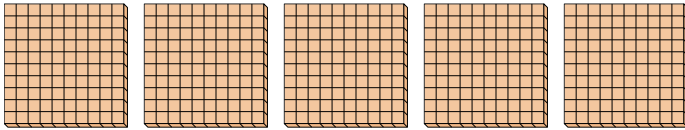
Antworten

- 1) a. Wie viele Gruppen von 100 gibt es?
b. Wie viele kleine Blöcke gibt es insgesamt?



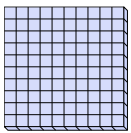
1. **4** **400**

- 2) a. Wie viele Gruppen von 100 gibt es?
b. Wie viele kleine Blöcke gibt es insgesamt?




2. **5** **500**

- 3) a. Wie viele Gruppen von 100 gibt es?
b. Wie viele kleine Blöcke gibt es insgesamt?



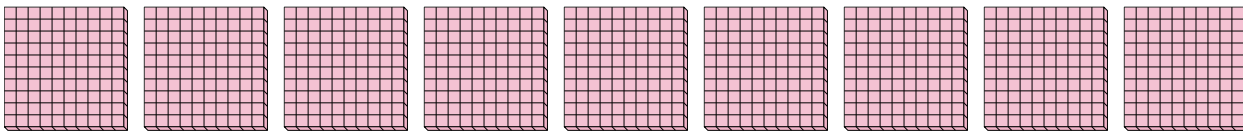
3. **1** **100**

- 4) a. Wie viele Gruppen von 100 gibt es?
b. Wie viele kleine Blöcke gibt es insgesamt?



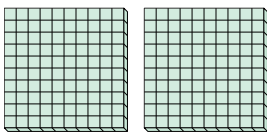
4. **8** **800**

- 5) a. Wie viele Gruppen von 100 gibt es?
b. Wie viele kleine Blöcke gibt es insgesamt?



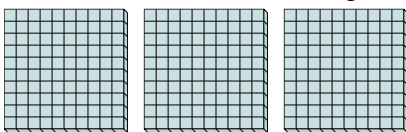
5. **9** **900**

- 6) a. Wie viele Gruppen von 100 gibt es?
b. Wie viele kleine Blöcke gibt es insgesamt?



6. **2** **200**

- 7) a. Wie viele Gruppen von 100 gibt es?
b. Wie viele kleine Blöcke gibt es insgesamt?



7. **3** **300**