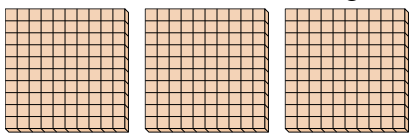




Schaue dir die Gruppen an um jede Frage zu beantworten.

**Antworten**

- 1) a. Wie viele Gruppen von 100 gibt es?  
 b. Wie viele kleine Blöcke gibt es insgesamt?




1. \_\_\_\_

2. \_\_\_\_

3. \_\_\_\_

- 2) a. Wie viele Gruppen von 100 gibt es?  
 b. Wie viele kleine Blöcke gibt es insgesamt?

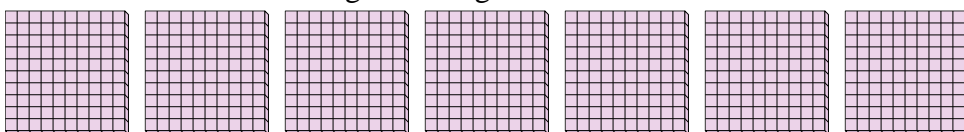


4. \_\_\_\_

5. \_\_\_\_

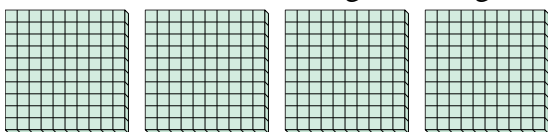
6. \_\_\_\_

- 3) a. Wie viele Gruppen von 100 gibt es?  
 b. Wie viele kleine Blöcke gibt es insgesamt?




7. \_\_\_\_


- 4) a. Wie viele Gruppen von 100 gibt es?  
 b. Wie viele kleine Blöcke gibt es insgesamt?



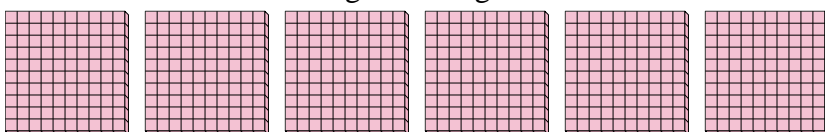
- 5) a. Wie viele Gruppen von 100 gibt es?  
 b. Wie viele kleine Blöcke gibt es insgesamt?



- 6) a. Wie viele Gruppen von 100 gibt es?  
 b. Wie viele kleine Blöcke gibt es insgesamt?



- 7) a. Wie viele Gruppen von 100 gibt es?  
 b. Wie viele kleine Blöcke gibt es insgesamt?

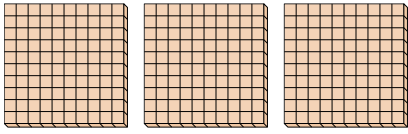




Schaue dir die Gruppen an um jede Frage zu beantworten.

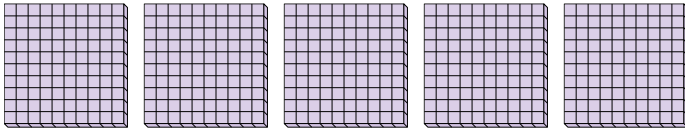
**Antworten**

- 1) a. Wie viele Gruppen von 100 gibt es?  
b. Wie viele kleine Blöcke gibt es insgesamt?



1. 3 300

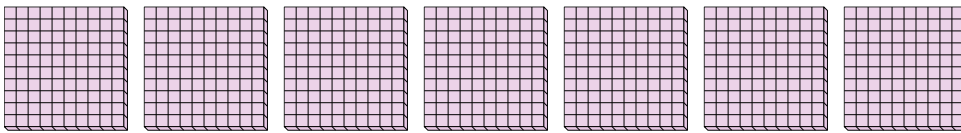
- 2) a. Wie viele Gruppen von 100 gibt es?  
b. Wie viele kleine Blöcke gibt es insgesamt?



2. 5 500

3. 7 700

- 3) a. Wie viele Gruppen von 100 gibt es?  
b. Wie viele kleine Blöcke gibt es insgesamt?

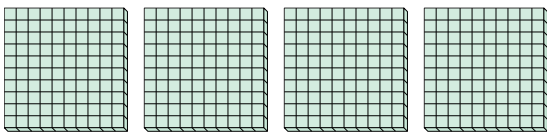


4. 4 400

5. 9 900


6. 2 200

- 4) a. Wie viele Gruppen von 100 gibt es?  
b. Wie viele kleine Blöcke gibt es insgesamt?




7. 6 600

- 5) a. Wie viele Gruppen von 100 gibt es?  
b. Wie viele kleine Blöcke gibt es insgesamt?



- 6) a. Wie viele Gruppen von 100 gibt es?  
b. Wie viele kleine Blöcke gibt es insgesamt?



- 7) a. Wie viele Gruppen von 100 gibt es?  
b. Wie viele kleine Blöcke gibt es insgesamt?

