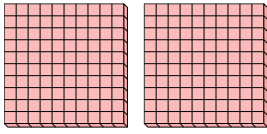




Schaue dir die Gruppen an um jede Frage zu beantworten.

Antworten

- 1) a. Wie viele Gruppen von 100 gibt es?
- b. Wie viele kleine Blöcke gibt es insgesamt?




1. ____

2. ____

3. ____

- 2) a. Wie viele Gruppen von 100 gibt es?
- b. Wie viele kleine Blöcke gibt es insgesamt?

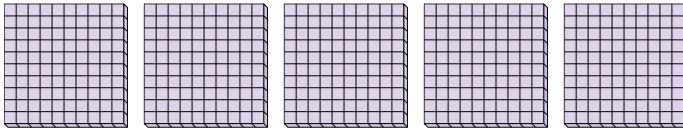


4. ____

5. ____

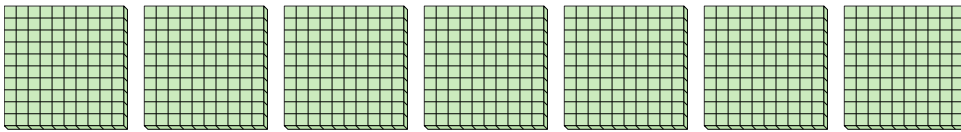
6. ____

- 3) a. Wie viele Gruppen von 100 gibt es?
- b. Wie viele kleine Blöcke gibt es insgesamt?




7. ____

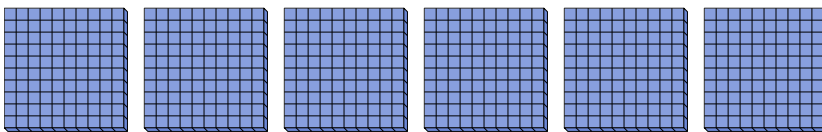
- 4) a. Wie viele Gruppen von 100 gibt es?
- b. Wie viele kleine Blöcke gibt es insgesamt?



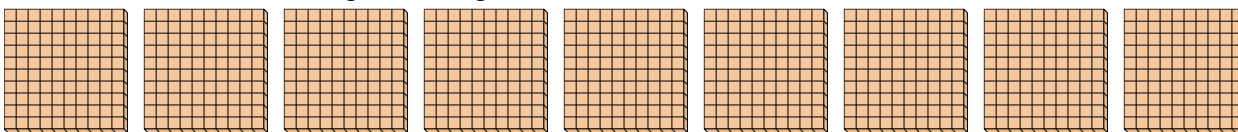
- 5) a. Wie viele Gruppen von 100 gibt es?
- b. Wie viele kleine Blöcke gibt es insgesamt?



- 6) a. Wie viele Gruppen von 100 gibt es?
- b. Wie viele kleine Blöcke gibt es insgesamt?



- 7) a. Wie viele Gruppen von 100 gibt es?
- b. Wie viele kleine Blöcke gibt es insgesamt?

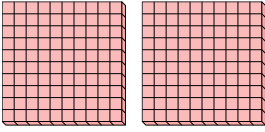




Schaue dir die Gruppen an um jede Frage zu beantworten.


Antworten

- 1) a. Wie viele Gruppen von 100 gibt es?
b. Wie viele kleine Blöcke gibt es insgesamt?



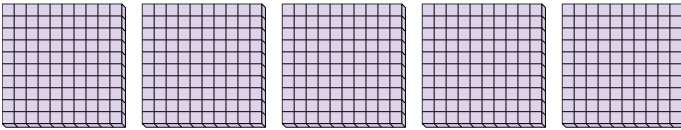
1. 2 200

- 2) a. Wie viele Gruppen von 100 gibt es?
b. Wie viele kleine Blöcke gibt es insgesamt?



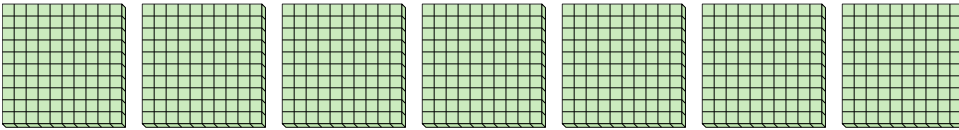
2. 3 300

- 3) a. Wie viele Gruppen von 100 gibt es?
b. Wie viele kleine Blöcke gibt es insgesamt?




3. 5 500

- 4) a. Wie viele Gruppen von 100 gibt es?
b. Wie viele kleine Blöcke gibt es insgesamt?



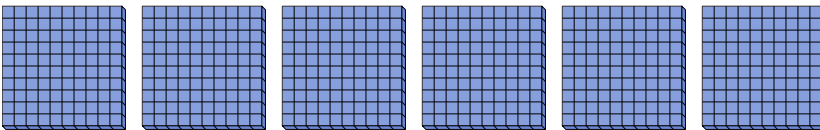
4. 7 700

- 5) a. Wie viele Gruppen von 100 gibt es?
b. Wie viele kleine Blöcke gibt es insgesamt?



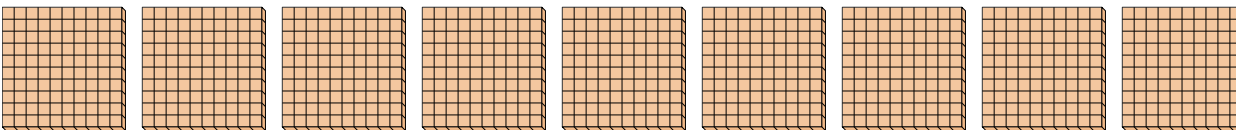
5. 8 800

- 6) a. Wie viele Gruppen von 100 gibt es?
b. Wie viele kleine Blöcke gibt es insgesamt?



6. 6 600

- 7) a. Wie viele Gruppen von 100 gibt es?
b. Wie viele kleine Blöcke gibt es insgesamt?



7. 9 900