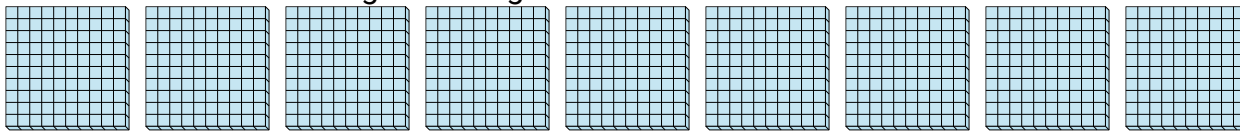


**Schaue dir die Gruppen an um jede Frage zu beantworten.****Antworten**

- 1) a. Wie viele Gruppen zu 100 gibt es?
b. Wie viele kleine Blöcke gibt es insgesamt?




1. ____

2. ____

3. ____

- 2) a. Wie viele Gruppen zu 100 gibt es?
b. Wie viele kleine Blöcke gibt es insgesamt?




4. ____

5. ____


6. ____

- 3) a. Wie viele Gruppen zu 100 gibt es?
b. Wie viele kleine Blöcke gibt es insgesamt?




7. ____


- 4) a. Wie viele Gruppen zu 100 gibt es?
b. Wie viele kleine Blöcke gibt es insgesamt?




- 5) a. Wie viele Gruppen zu 100 gibt es?
b. Wie viele kleine Blöcke gibt es insgesamt?



- 6) a. Wie viele Gruppen zu 100 gibt es?
b. Wie viele kleine Blöcke gibt es insgesamt?



- 7) a. Wie viele Gruppen zu 100 gibt es?
b. Wie viele kleine Blöcke gibt es insgesamt?

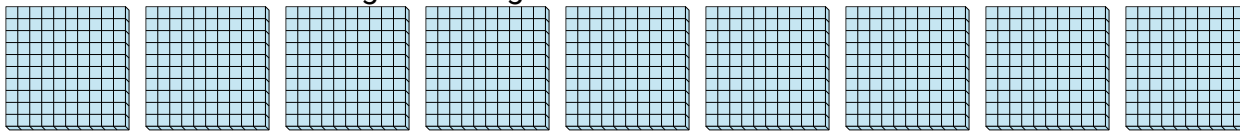





Schaue dir die Gruppen an um jede Frage zu beantworten.

Antworten


- 1) a. Wie viele Gruppen zu 100 gibt es?
b. Wie viele kleine Blöcke gibt es insgesamt?

1. 9 9002. 9 9003. 9 900


- 2) a. Wie viele Gruppen zu 100 gibt es?
b. Wie viele kleine Blöcke gibt es insgesamt?

4. 9 9005. 9 900


- 3) a. Wie viele Gruppen zu 100 gibt es?
b. Wie viele kleine Blöcke gibt es insgesamt?

6. 9 9007. 9 900


- 4) a. Wie viele Gruppen zu 100 gibt es?
b. Wie viele kleine Blöcke gibt es insgesamt?



- 5) a. Wie viele Gruppen zu 100 gibt es?
b. Wie viele kleine Blöcke gibt es insgesamt?



- 6) a. Wie viele Gruppen zu 100 gibt es?
b. Wie viele kleine Blöcke gibt es insgesamt?



- 7) a. Wie viele Gruppen zu 100 gibt es?
b. Wie viele kleine Blöcke gibt es insgesamt?

