






Vergleiche die Anzahl der Formen.

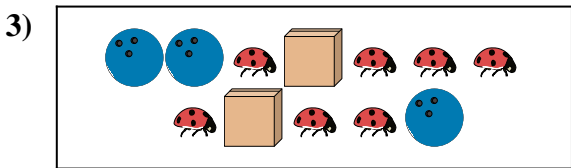
Antworten




Gibt es mehr oder mehr ?




Gibt es mehr oder mehr ?



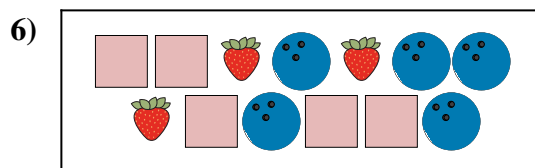
Gibt es weniger oder weniger ?



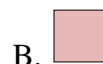
Gibt es mehr oder mehr ?



Gibt es weniger oder weniger ?



Gibt es mehr oder mehr ?




1. \_\_\_\_\_
2. \_\_\_\_\_
3. \_\_\_\_\_
4. \_\_\_\_\_
5. \_\_\_\_\_
6. \_\_\_\_\_





Vergleiche die Anzahl der Formen.


Antworten




Gibt es mehr oder mehr ?




Gibt es mehr oder mehr ?



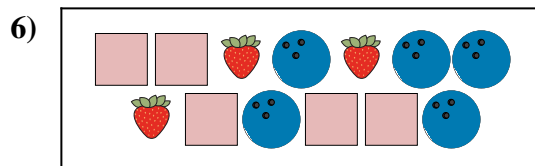
Gibt es weniger oder weniger ?



Gibt es mehr oder mehr ?



Gibt es weniger oder weniger ?



Gibt es mehr oder mehr ?



1. **A**
2. **B**
3. **B**
4. **B**
5. **A**
6. **B**