




Vergleiche die Anzahl der Formen.

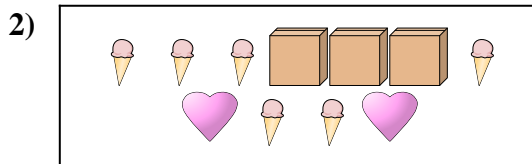
Antworten



Gibt es mehr oder mehr ?

A.


B.



Gibt es mehr oder mehr ?

A.


B.



Gibt es weniger oder weniger ?

A.

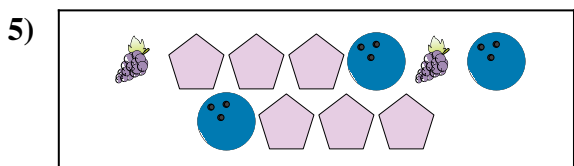
B.



Gibt es weniger oder weniger ?

A.


B.



Gibt es weniger oder weniger ?

A.

B.



Gibt es weniger oder weniger ?

A.


B.

- 1. _____
- 2. _____
- 3. _____
- 4. _____
- 5. _____
- 6. _____




Vergleiche die Anzahl der Formen.

Antworten




Gibt es mehr oder mehr ?

- A.
- B.




Gibt es mehr oder mehr ?

- A.
- B.



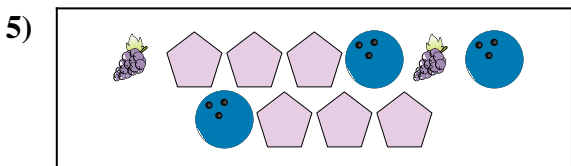
Gibt es weniger oder weniger ?

- A.
- B.




Gibt es weniger oder weniger ?

- A.
- B.



Gibt es weniger oder weniger ?

- A.
- B.



Gibt es weniger oder weniger ?

- A.
- B.

- 1. **B**
- 2. **B**
- 3. **A**
- 4. **A**
- 5. **B**
- 6. **B**