




Vergleiche die Anzahl der Formen.


Antworten

1)




Gibt es weniger  oder weniger .

A. 

B. 

2)



Gibt es weniger  oder weniger .

A. 

B. 

1. _____

2. _____

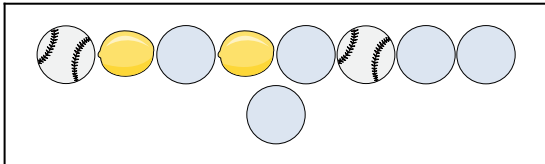
3. _____

4. _____

5. _____


6. _____

3)




Gibt es weniger  oder weniger .

A. 

B. 

4)

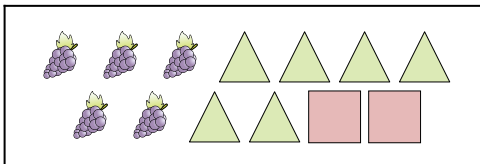




Gibt es mehr  oder mehr .

A. 


B. 

5)

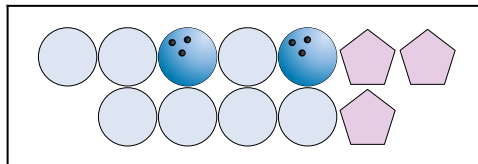




Gibt es mehr  oder mehr .

A. 


B. 

6)



Gibt es mehr  oder mehr .


A. 

B. 




Vergleiche die Anzahl der Formen.

1)




Gibt es weniger  oder weniger .

A. 

B. 

2)

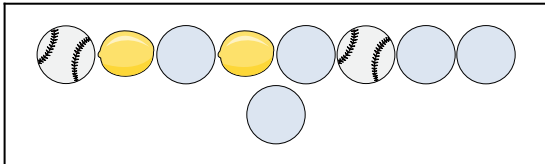




Gibt es weniger  oder weniger .

A. 


B. 

3)




Gibt es weniger  oder weniger .

A. 

B. 

4)

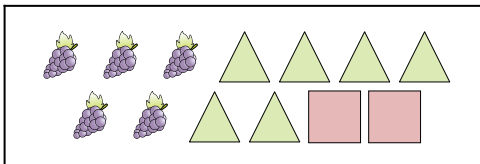


Gibt es mehr  oder mehr .

A. 


B. 

5)

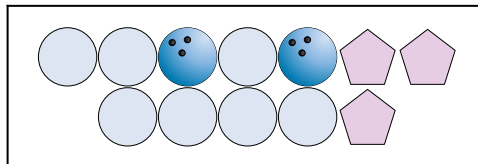




Gibt es mehr  oder mehr .

A. 

B. 

6)



Gibt es mehr  oder mehr .

A. 

B. 

Antworten

1. **B**

2. **A**

3. **B**

4. **B**

5. **A**

6. **B**