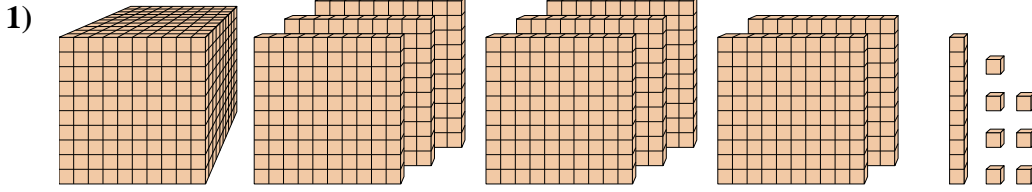




Löse jede Aufgabe.

**Antworten**

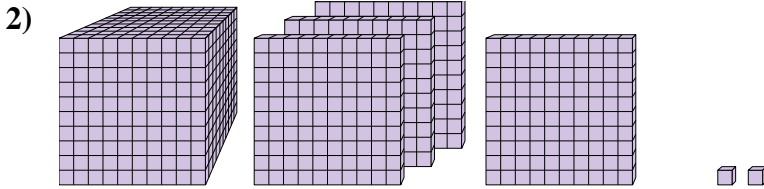


Welche Ziffer ist in der zehnern-Stelle in der obigen Zahl?

1. \_\_\_\_\_

2. \_\_\_\_\_

3. \_\_\_\_\_

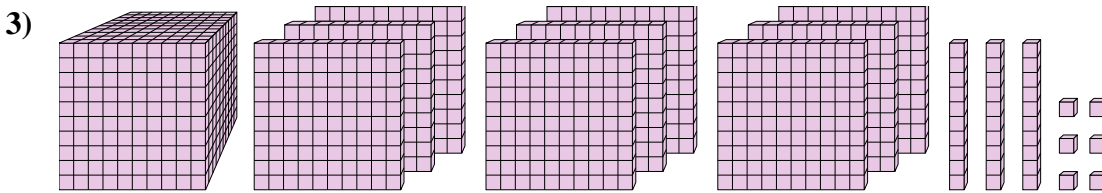


Welche Ziffer ist in der hundertn-Stelle in der obigen Zahl?

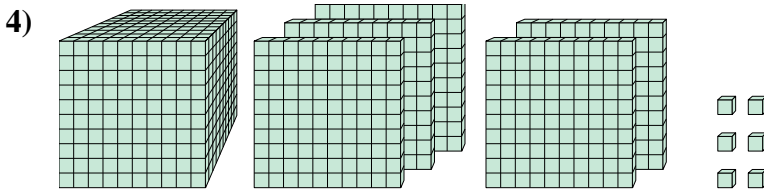
4. \_\_\_\_\_

5. \_\_\_\_\_

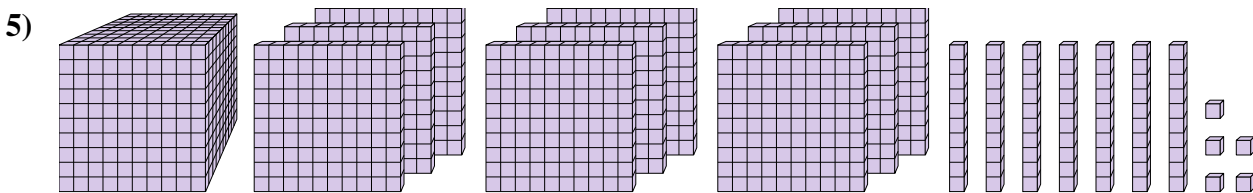
6. \_\_\_\_\_



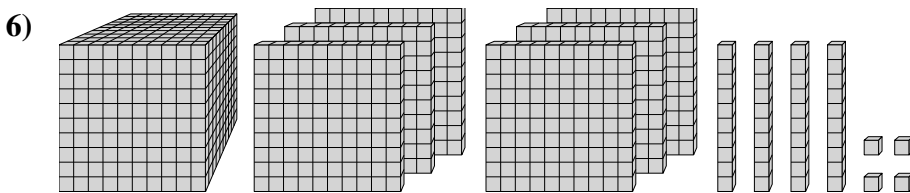
Welche Ziffer ist in der hundertn-Stelle in der obigen Zahl?



Welche Ziffer ist in der hundertn-Stelle in der obigen Zahl?



Welche Ziffer ist in der billions-Stelle in der obigen Zahl?

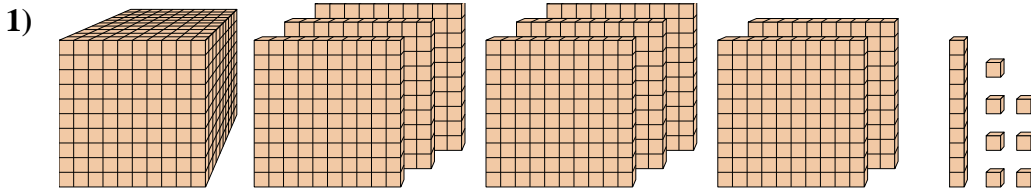


Welche Ziffer ist in der einern-Stelle in der obigen Zahl?



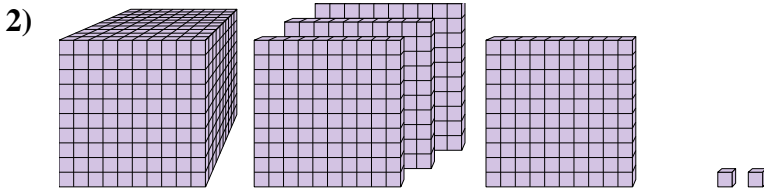
Löse jede Aufgabe.

**Antworten**



Welche Ziffer ist in der zehnern-Stelle in der obigen Zahl?

1. 1



Welche Ziffer ist in der hundertn-Stelle in der obigen Zahl?

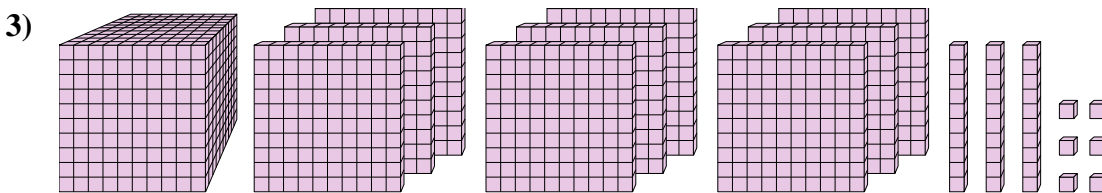
2. 1

3. 1

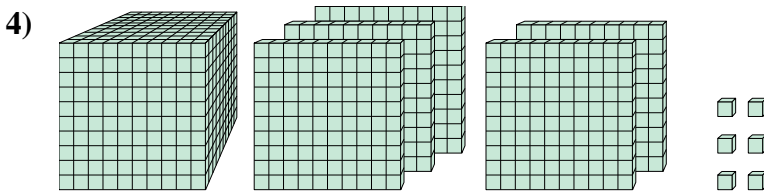
4. 1

5. 9

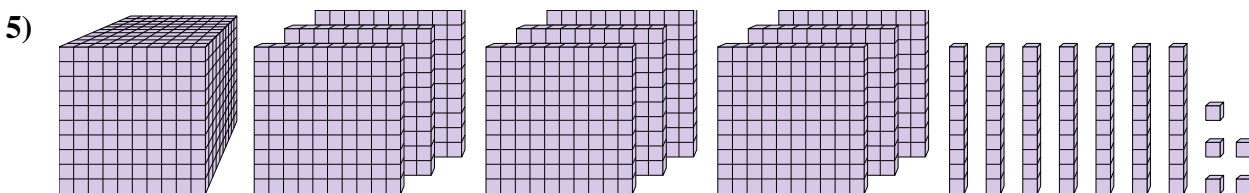
6. 4



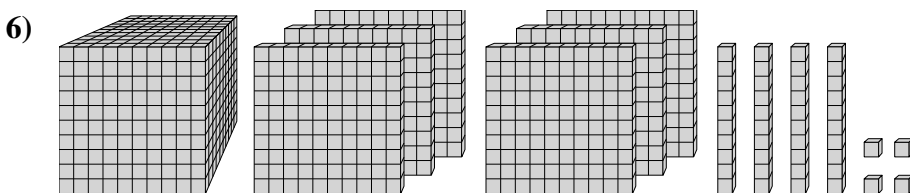
Welche Ziffer ist in der hundertn-Stelle in der obigen Zahl?



Welche Ziffer ist in der hundertn-Stelle in der obigen Zahl?



Welche Ziffer ist in der billions-Stelle in der obigen Zahl?



Welche Ziffer ist in der einern-Stelle in der obigen Zahl?