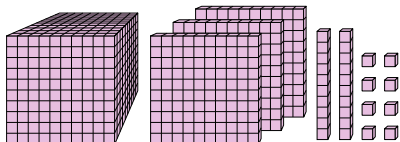


**Löse jede Aufgabe.****Antworten**

1)



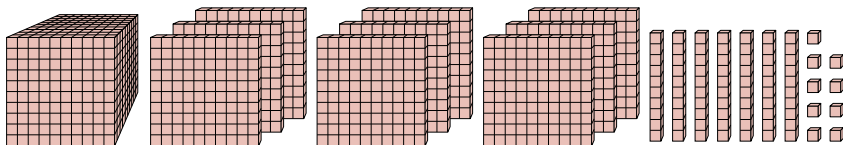
Welche Ziffer steht an der hundertten-Stelle in der Zahl oben?

1. _____

2. _____

3. _____

2)



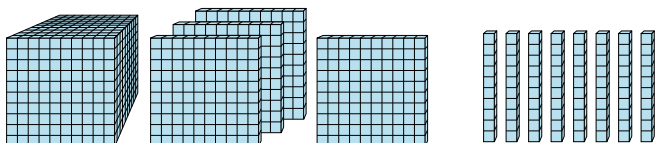
Welche Ziffer steht an der billions-Stelle in der Zahl oben?

4. _____

5. _____

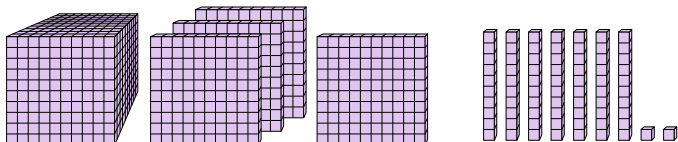
6. _____

3)



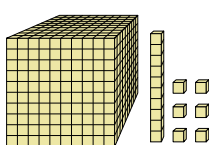
Welche Ziffer steht an der zehnern-Stelle in der Zahl oben?

4)



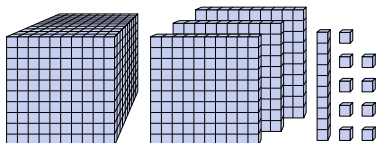
Welche Ziffer steht an der hundertten-Stelle in der Zahl oben?

5)



Welche Ziffer steht an der hundertten-Stelle in der Zahl oben?

6)



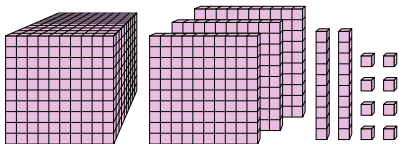
Welche Ziffer steht an der einern-Stelle in der Zahl oben?



Löse jede Aufgabe.

Antworten

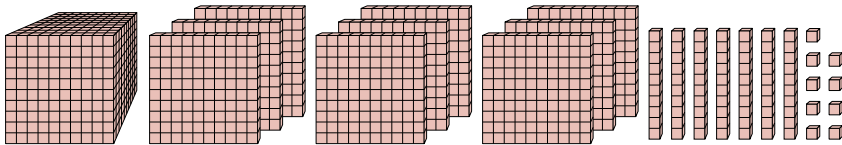
1)



Welche Ziffer steht an der hundertten-Stelle in der Zahl oben?

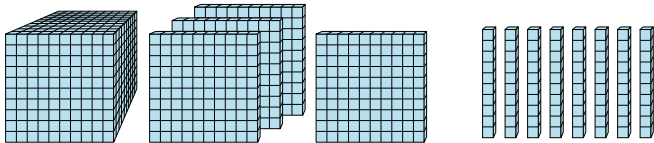
1. 12. 93. 84. 15. 16. 9

2)



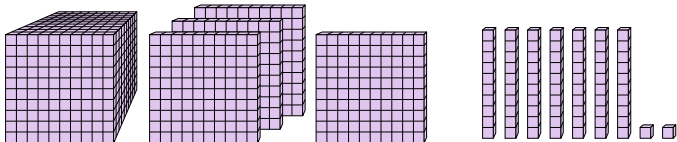
Welche Ziffer steht an der billions-Stelle in der Zahl oben?

3)



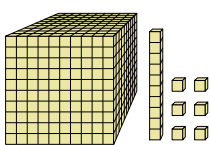
Welche Ziffer steht an der zehnern-Stelle in der Zahl oben?

4)



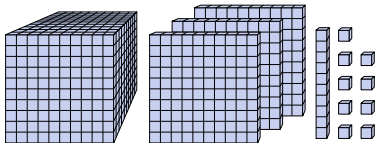
Welche Ziffer steht an der hundertten-Stelle in der Zahl oben?

5)



Welche Ziffer steht an der hundertten-Stelle in der Zahl oben?

6)



Welche Ziffer steht an der einern-Stelle in der Zahl oben?