

**Löse jede Aufgabe.****Antworten**

1) Beginn: _____

Elapsed: 1 Std. und 40 Min.

Ende: 3:55



1. _____

2) Beginn: _____

Elapsed: 2 Std. und 45 Min.

Ende: 4:55

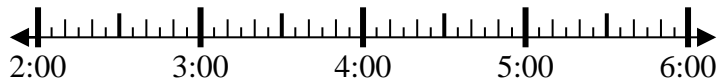


2. _____

3) Beginn: _____

Elapsed: 2 Std. und 10 Min.

Ende: 4:55



3. _____

4) Beginn: _____

Elapsed: 1 Std. und 20 Min.

Ende: 3:40



4. _____

5) Beginn: _____

Elapsed: 2 Std. und 25 Min.

Ende: 1:30



5. _____

6) Beginn: _____

Elapsed: 2 Std. und 20 Min.

Ende: 1:25

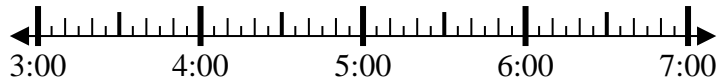


6. _____

7) Beginn: _____

Elapsed: 2 Std. und 20 Min.

Ende: 6:05



7. _____

8) Beginn: _____

Elapsed: 1 Std. und 30 Min.

Ende: 7:50



8. _____



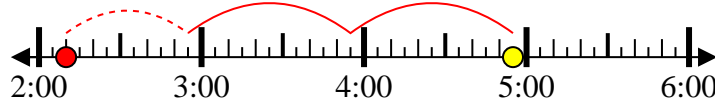
Löse jede Aufgabe.

Antworten

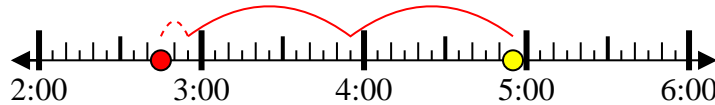
- 1) Beginn: 2:15
 Elapsed: 1 Std. und 40 Min.
 Ende: 3:55

1. 2:15

- 2) Beginn: 2:10
 Elapsed: 2 Std. und 45 Min.
 Ende: 4:55

2. 2:10

- 3) Beginn: 2:45
 Elapsed: 2 Std. und 10 Min.
 Ende: 4:55

3. 2:45

- 4) Beginn: 2:20
 Elapsed: 1 Std. und 20 Min.
 Ende: 3:40

4. 2:20

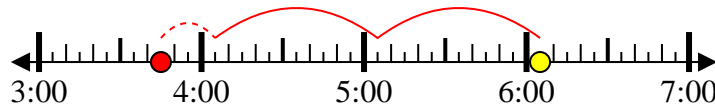
- 5) Beginn: 11:05
 Elapsed: 2 Std. und 25 Min.
 Ende: 1:30

5. 11:05

- 6) Beginn: 11:05
 Elapsed: 2 Std. und 20 Min.
 Ende: 1:25

6. 11:05

- 7) Beginn: 3:45
 Elapsed: 2 Std. und 20 Min.
 Ende: 6:05

7. 3:45

- 8) Beginn: 6:20
 Elapsed: 1 Std. und 30 Min.
 Ende: 7:50

8. 6:20