

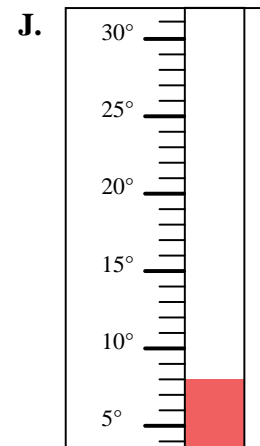
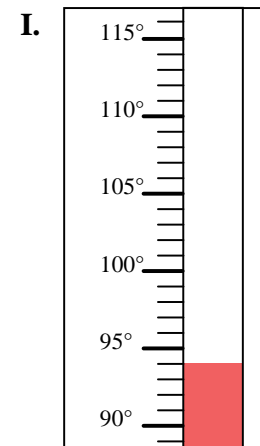
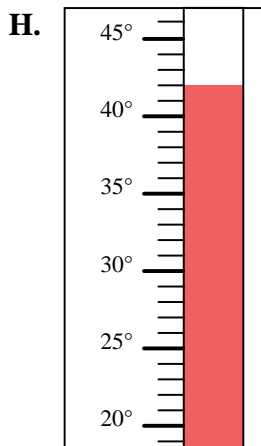
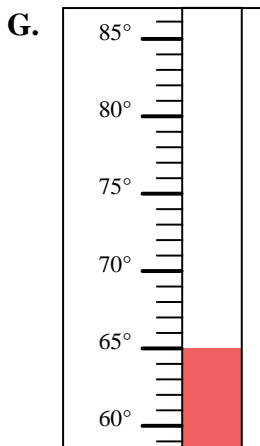
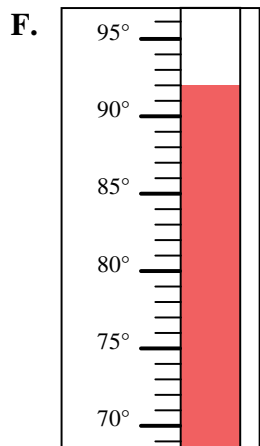
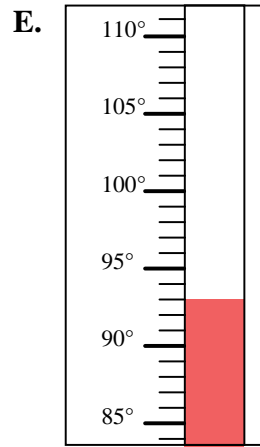
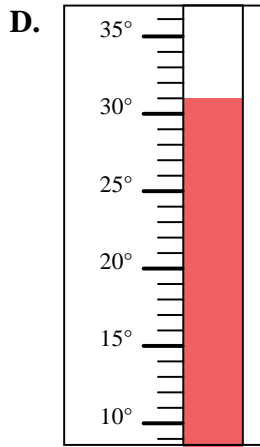
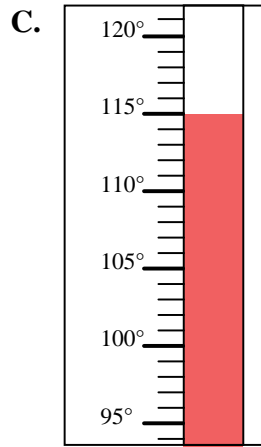
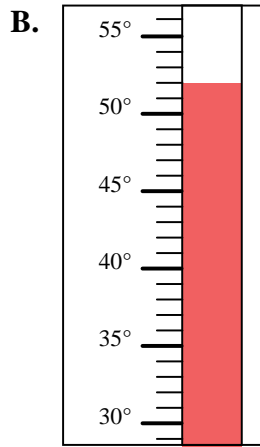
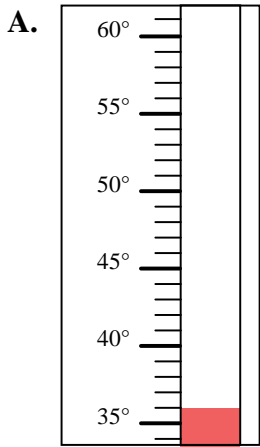


Bestimme, welcher Buchstabe die Frage richtig beantwortet.

**Antworten**

- 1) Welcher Thermometer zeigt die Temperatur von 115° richtig an?
- 2) Welcher Thermometer zeigt die Temperatur von 92° richtig an?
- 3) Welcher Thermometer zeigt die Temperatur von 42° richtig an?
- 4) Welcher Thermometer zeigt die Temperatur von 93° richtig an?
- 5) Welcher Thermometer zeigt die Temperatur von 94° richtig an?
- 6) Welcher Thermometer zeigt die Temperatur von 65° richtig an?
- 7) Welcher Thermometer zeigt die Temperatur von 31° richtig an?
- 8) Welcher Thermometer zeigt die Temperatur von 52° richtig an?
- 9) Welcher Thermometer zeigt die Temperatur von 8° richtig an?
- 10) Welcher Thermometer zeigt die Temperatur von 36° richtig an?

1. \_\_\_\_\_
2. \_\_\_\_\_
3. \_\_\_\_\_
4. \_\_\_\_\_
5. \_\_\_\_\_
6. \_\_\_\_\_
7. \_\_\_\_\_
8. \_\_\_\_\_
9. \_\_\_\_\_
10. \_\_\_\_\_





Bestimme, welcher Buchstabe die Frage richtig beantwortet.

**Antworten**

- 1) Welcher Thermometer zeigt die Temperatur von 115° richtig an?
- 2) Welcher Thermometer zeigt die Temperatur von 92° richtig an?
- 3) Welcher Thermometer zeigt die Temperatur von 42° richtig an?
- 4) Welcher Thermometer zeigt die Temperatur von 93° richtig an?
- 5) Welcher Thermometer zeigt die Temperatur von 94° richtig an?
- 6) Welcher Thermometer zeigt die Temperatur von 65° richtig an?
- 7) Welcher Thermometer zeigt die Temperatur von 31° richtig an?
- 8) Welcher Thermometer zeigt die Temperatur von 52° richtig an?
- 9) Welcher Thermometer zeigt die Temperatur von 8° richtig an?
- 10) Welcher Thermometer zeigt die Temperatur von 36° richtig an?

1.     **C**
2.     **F**
3.     **H**
4.     **E**
5.     **I**
6.     **G**
7.     **D**
8.     **B**
9.     **J**
10.     **A**

