

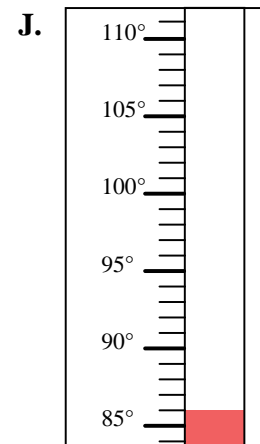
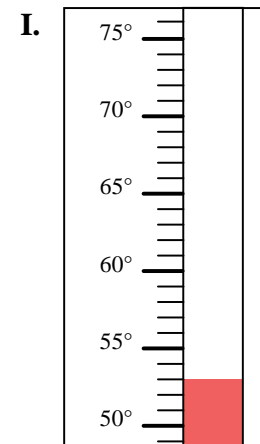
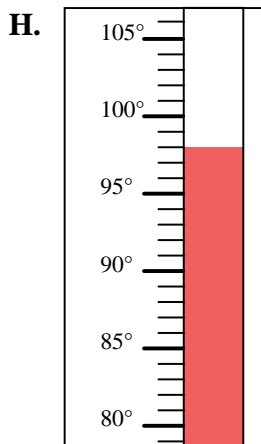
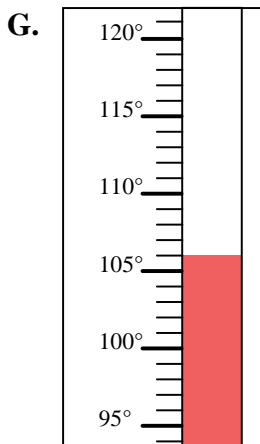
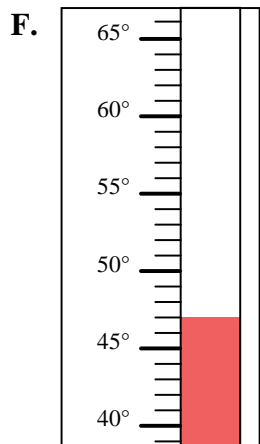
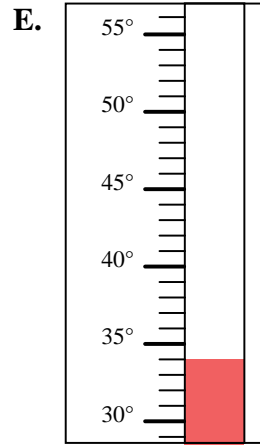
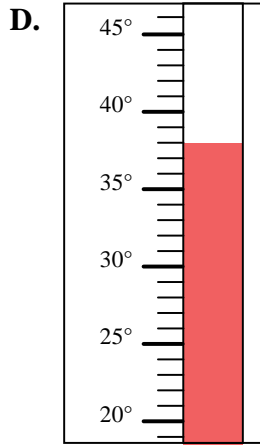
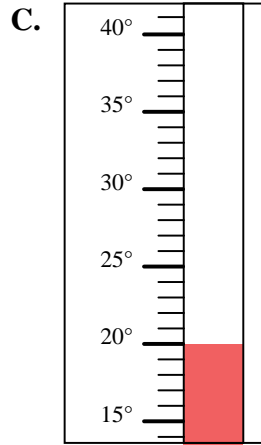
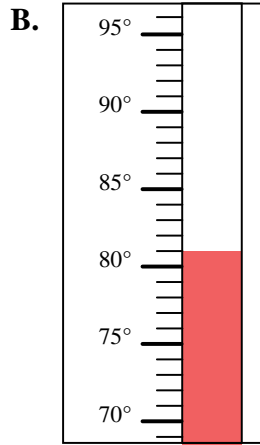
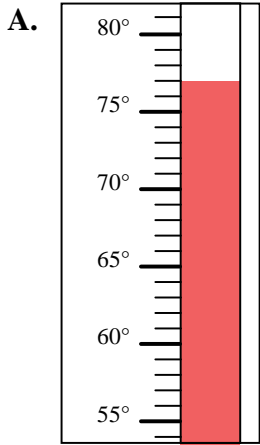


Bestimme, welcher Buchstabe die Frage richtig beantwortet.

Antworten

- 1) Welcher Thermometer zeigt die Temperatur von 53° richtig an?
- 2) Welcher Thermometer zeigt die Temperatur von 98° richtig an?
- 3) Welcher Thermometer zeigt die Temperatur von 77° richtig an?
- 4) Welcher Thermometer zeigt die Temperatur von 106° richtig an?
- 5) Welcher Thermometer zeigt die Temperatur von 47° richtig an?
- 6) Welcher Thermometer zeigt die Temperatur von 86° richtig an?
- 7) Welcher Thermometer zeigt die Temperatur von 34° richtig an?
- 8) Welcher Thermometer zeigt die Temperatur von 81° richtig an?
- 9) Welcher Thermometer zeigt die Temperatur von 20° richtig an?
- 10) Welcher Thermometer zeigt die Temperatur von 38° richtig an?

1. _____
2. _____
3. _____
4. _____
5. _____
6. _____
7. _____
8. _____
9. _____
10. _____



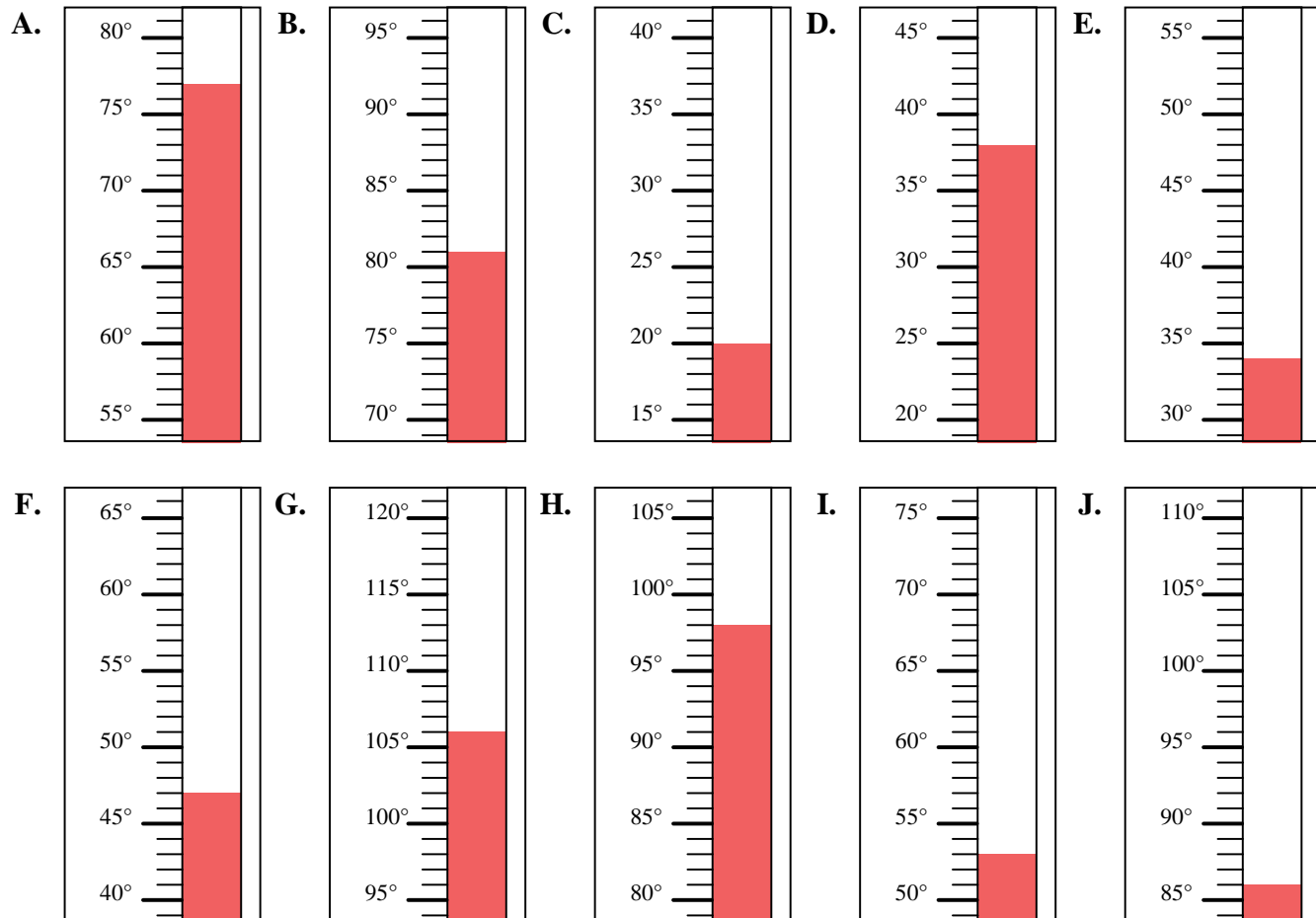


Bestimme, welcher Buchstabe die Frage richtig beantwortet.

Antworten

- 1) Welcher Thermometer zeigt die Temperatur von 53° richtig an?
- 2) Welcher Thermometer zeigt die Temperatur von 98° richtig an?
- 3) Welcher Thermometer zeigt die Temperatur von 77° richtig an?
- 4) Welcher Thermometer zeigt die Temperatur von 106° richtig an?
- 5) Welcher Thermometer zeigt die Temperatur von 47° richtig an?
- 6) Welcher Thermometer zeigt die Temperatur von 86° richtig an?
- 7) Welcher Thermometer zeigt die Temperatur von 34° richtig an?
- 8) Welcher Thermometer zeigt die Temperatur von 81° richtig an?
- 9) Welcher Thermometer zeigt die Temperatur von 20° richtig an?
- 10) Welcher Thermometer zeigt die Temperatur von 38° richtig an?

1. **I**
2. **H**
3. **A**
4. **G**
5. **F**
6. **J**
7. **E**
8. **B**
9. **C**
10. **D**



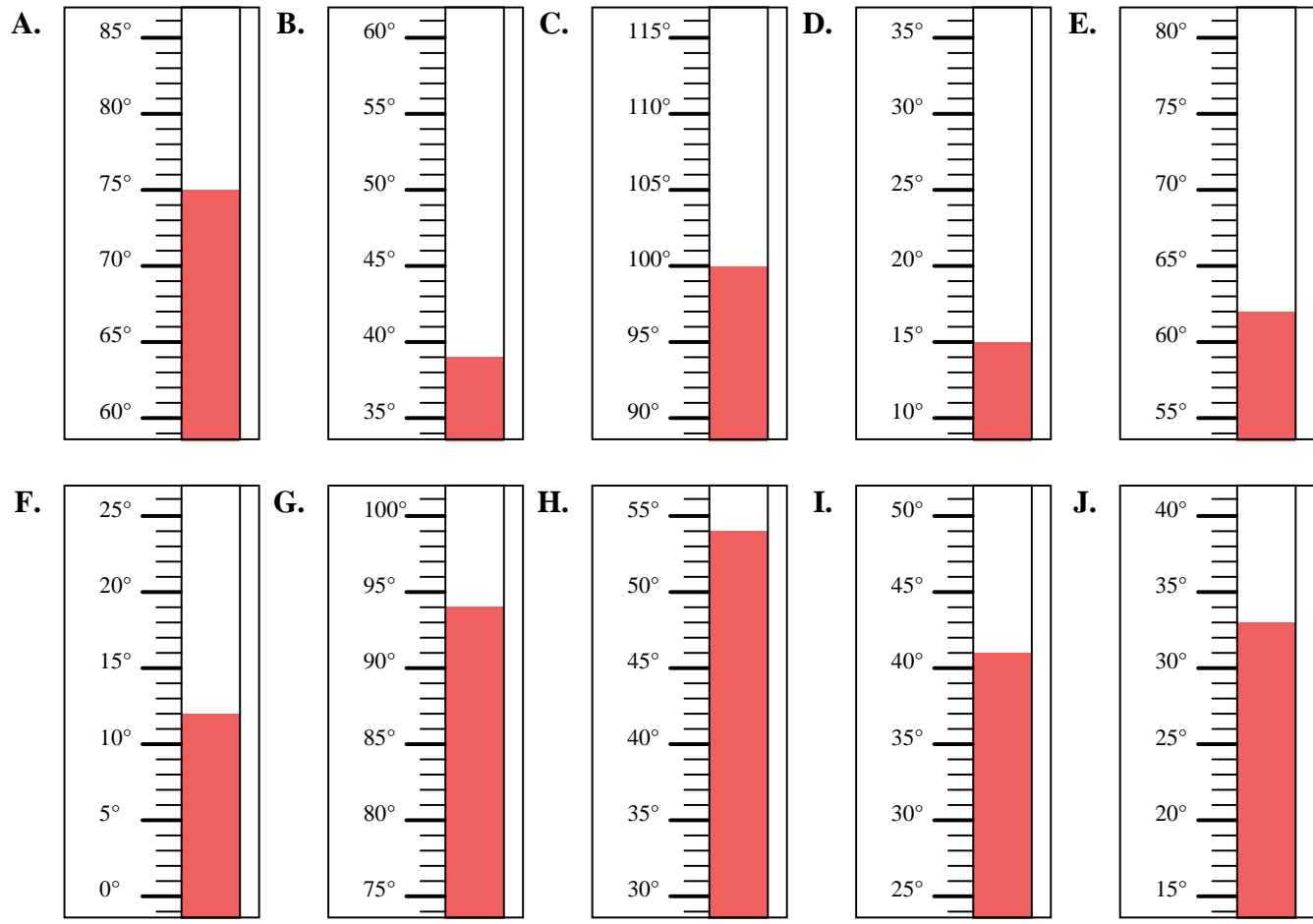


Bestimme, welcher Buchstabe die Frage richtig beantwortet.

Antworten

- 1) Welcher Thermometer zeigt die Temperatur von 39° richtig an?
- 2) Welcher Thermometer zeigt die Temperatur von 12° richtig an?
- 3) Welcher Thermometer zeigt die Temperatur von 75° richtig an?
- 4) Welcher Thermometer zeigt die Temperatur von 100° richtig an?
- 5) Welcher Thermometer zeigt die Temperatur von 33° richtig an?
- 6) Welcher Thermometer zeigt die Temperatur von 15° richtig an?
- 7) Welcher Thermometer zeigt die Temperatur von 94° richtig an?
- 8) Welcher Thermometer zeigt die Temperatur von 54° richtig an?
- 9) Welcher Thermometer zeigt die Temperatur von 62° richtig an?
- 10) Welcher Thermometer zeigt die Temperatur von 41° richtig an?

1. _____
2. _____
3. _____
4. _____
5. _____
6. _____
7. _____
8. _____
9. _____
10. _____



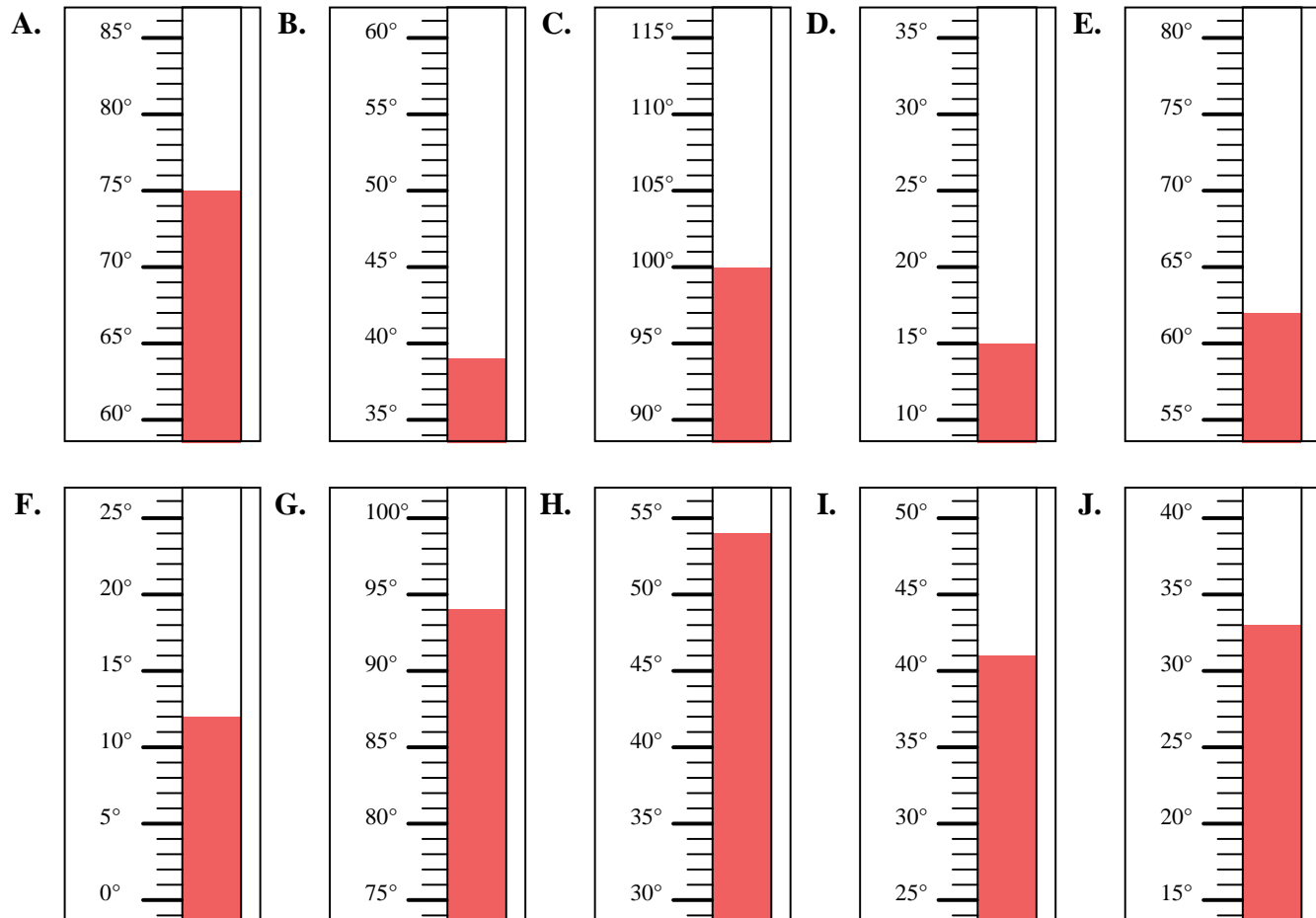


Bestimme, welcher Buchstabe die Frage richtig beantwortet.

Antworten

- 1) Welcher Thermometer zeigt die Temperatur von 39° richtig an?
- 2) Welcher Thermometer zeigt die Temperatur von 12° richtig an?
- 3) Welcher Thermometer zeigt die Temperatur von 75° richtig an?
- 4) Welcher Thermometer zeigt die Temperatur von 100° richtig an?
- 5) Welcher Thermometer zeigt die Temperatur von 33° richtig an?
- 6) Welcher Thermometer zeigt die Temperatur von 15° richtig an?
- 7) Welcher Thermometer zeigt die Temperatur von 94° richtig an?
- 8) Welcher Thermometer zeigt die Temperatur von 54° richtig an?
- 9) Welcher Thermometer zeigt die Temperatur von 62° richtig an?
- 10) Welcher Thermometer zeigt die Temperatur von 41° richtig an?

1. **B**
2. **F**
3. **A**
4. **C**
5. **J**
6. **D**
7. **G**
8. **H**
9. **E**
10. **I**



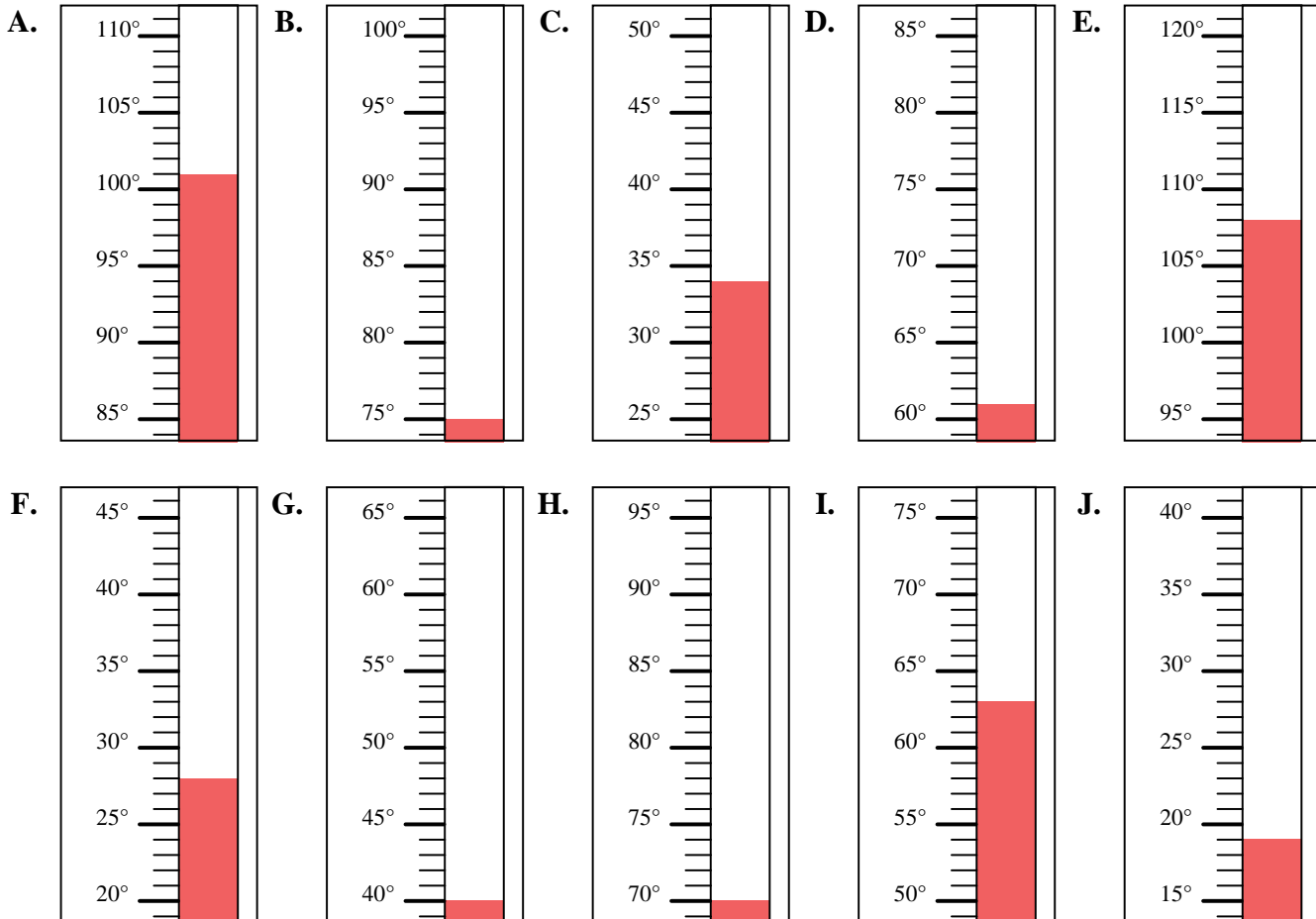


Bestimme, welcher Buchstabe die Frage richtig beantwortet.

Antworten

- 1) Welcher Thermometer zeigt die Temperatur von 101° richtig an?
- 2) Welcher Thermometer zeigt die Temperatur von 34° richtig an?
- 3) Welcher Thermometer zeigt die Temperatur von 63° richtig an?
- 4) Welcher Thermometer zeigt die Temperatur von 108° richtig an?
- 5) Welcher Thermometer zeigt die Temperatur von 61° richtig an?
- 6) Welcher Thermometer zeigt die Temperatur von 75° richtig an?
- 7) Welcher Thermometer zeigt die Temperatur von 40° richtig an?
- 8) Welcher Thermometer zeigt die Temperatur von 28° richtig an?
- 9) Welcher Thermometer zeigt die Temperatur von 70° richtig an?
- 10) Welcher Thermometer zeigt die Temperatur von 19° richtig an?

1. _____
2. _____
3. _____
4. _____
5. _____
6. _____
7. _____
8. _____
9. _____
10. _____



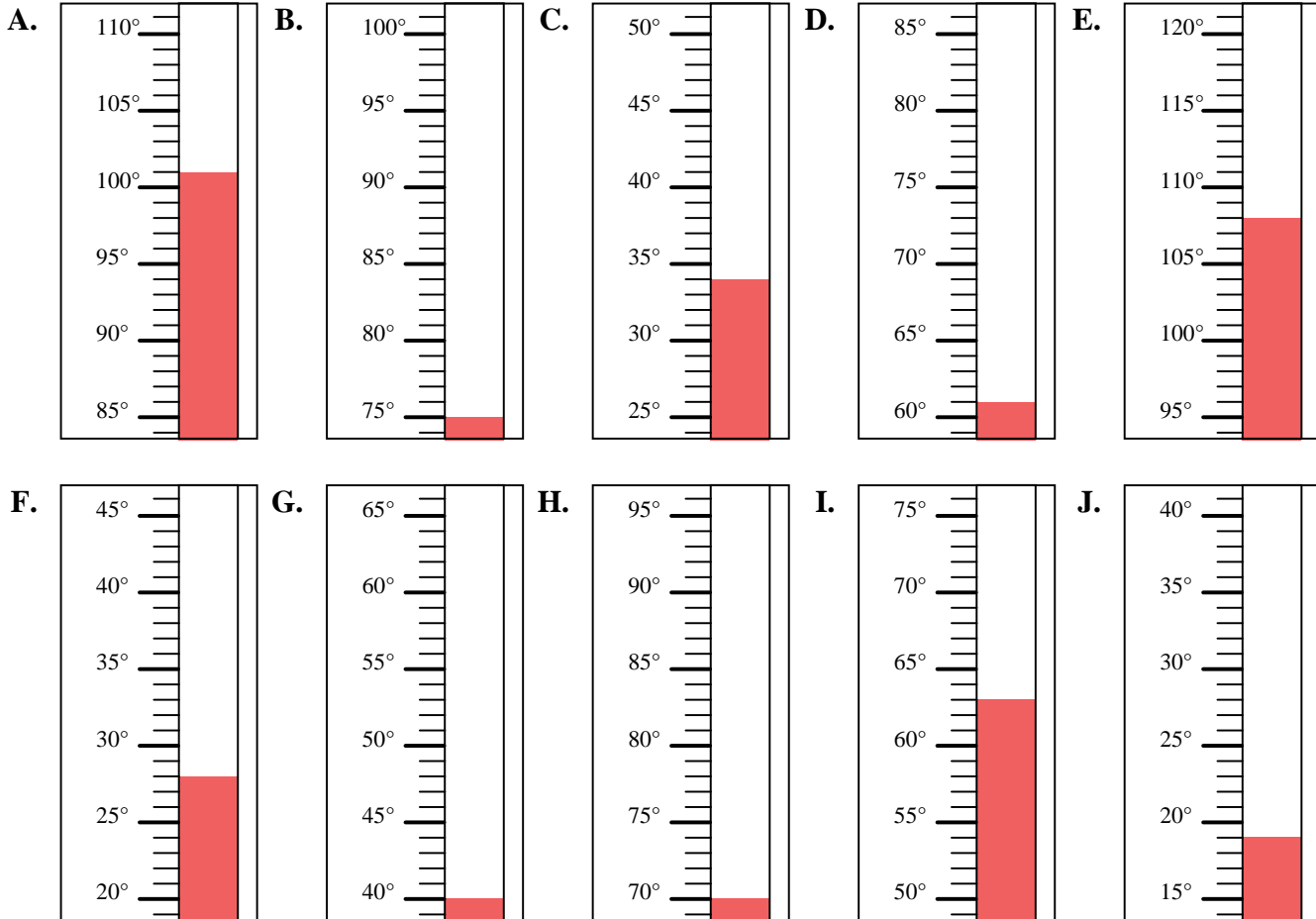


Bestimme, welcher Buchstabe die Frage richtig beantwortet.

Antworten

- 1) Welcher Thermometer zeigt die Temperatur von 101° richtig an?
- 2) Welcher Thermometer zeigt die Temperatur von 34° richtig an?
- 3) Welcher Thermometer zeigt die Temperatur von 63° richtig an?
- 4) Welcher Thermometer zeigt die Temperatur von 108° richtig an?
- 5) Welcher Thermometer zeigt die Temperatur von 61° richtig an?
- 6) Welcher Thermometer zeigt die Temperatur von 75° richtig an?
- 7) Welcher Thermometer zeigt die Temperatur von 40° richtig an?
- 8) Welcher Thermometer zeigt die Temperatur von 28° richtig an?
- 9) Welcher Thermometer zeigt die Temperatur von 70° richtig an?
- 10) Welcher Thermometer zeigt die Temperatur von 19° richtig an?

1. **A**
2. **C**
3. **I**
4. **E**
5. **D**
6. **B**
7. **G**
8. **F**
9. **H**
10. **J**



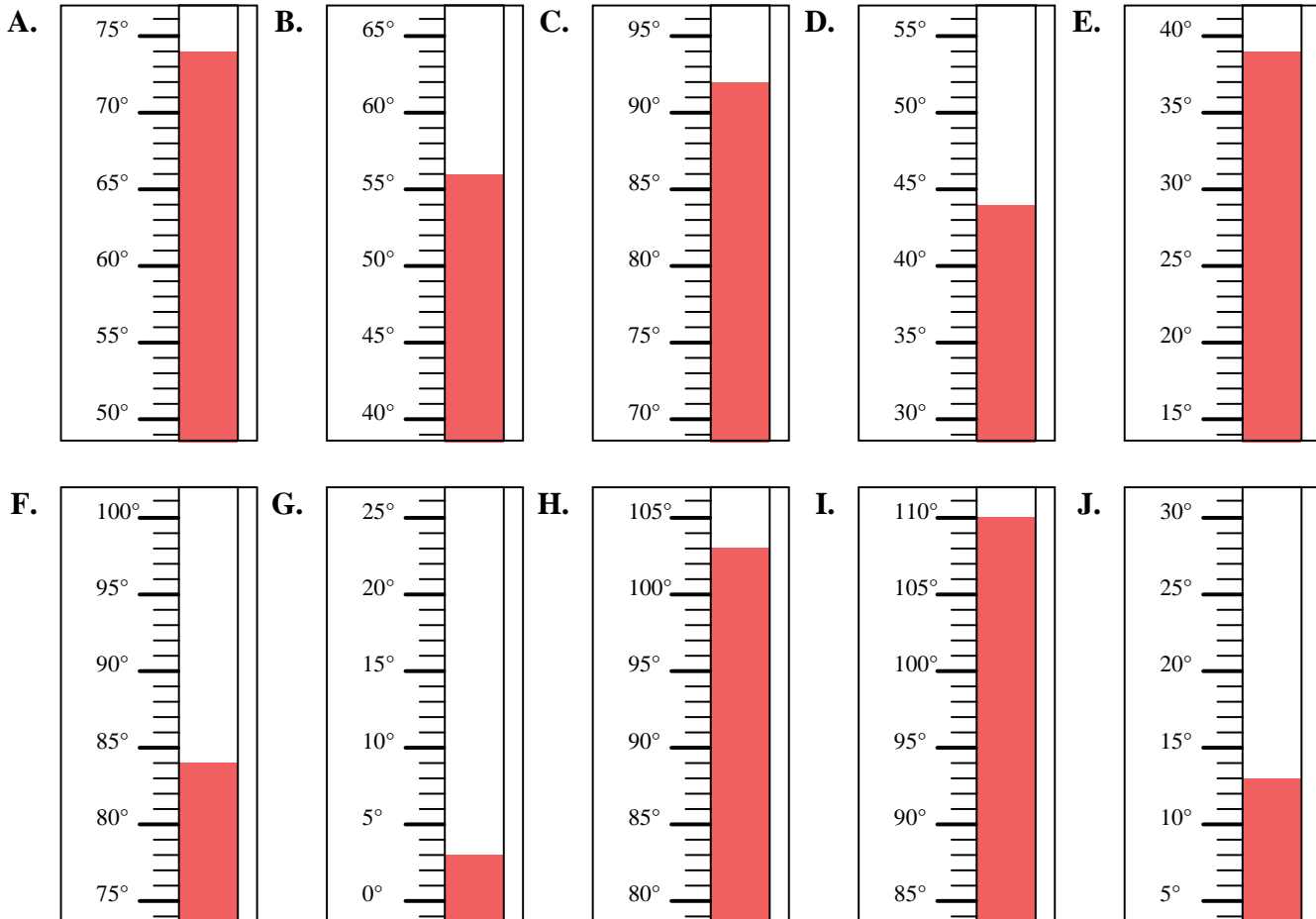


Bestimme, welcher Buchstabe die Frage richtig beantwortet.

Antworten

- 1) Welcher Thermometer zeigt die Temperatur von 92° richtig an?
- 2) Welcher Thermometer zeigt die Temperatur von 84° richtig an?
- 3) Welcher Thermometer zeigt die Temperatur von 56° richtig an?
- 4) Welcher Thermometer zeigt die Temperatur von 110° richtig an?
- 5) Welcher Thermometer zeigt die Temperatur von 13° richtig an?
- 6) Welcher Thermometer zeigt die Temperatur von 39° richtig an?
- 7) Welcher Thermometer zeigt die Temperatur von 3° richtig an?
- 8) Welcher Thermometer zeigt die Temperatur von 44° richtig an?
- 9) Welcher Thermometer zeigt die Temperatur von 74° richtig an?
- 10) Welcher Thermometer zeigt die Temperatur von 103° richtig an?

1. _____
2. _____
3. _____
4. _____
5. _____
6. _____
7. _____
8. _____
9. _____
10. _____



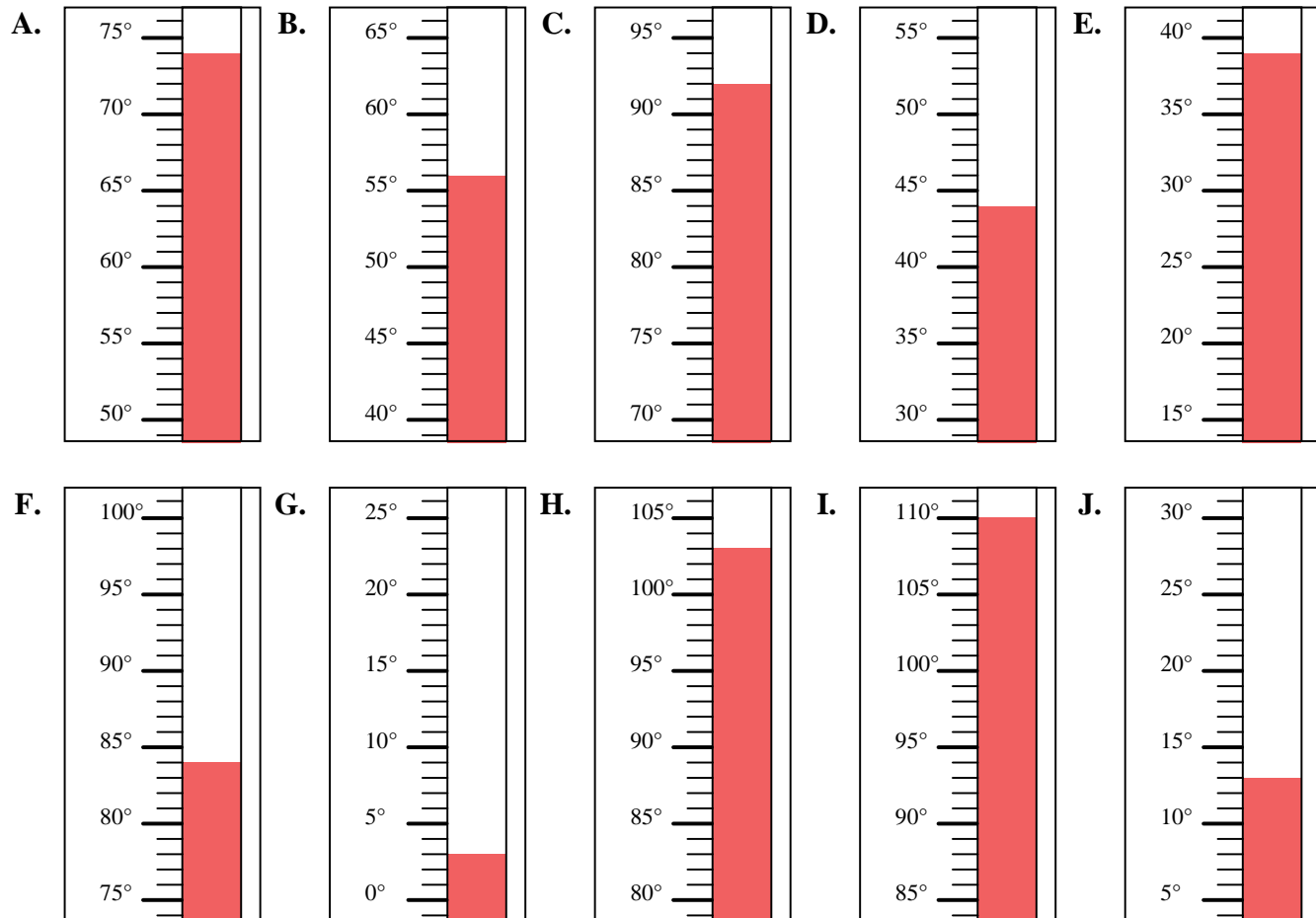


Bestimme, welcher Buchstabe die Frage richtig beantwortet.

Antworten

- 1) Welcher Thermometer zeigt die Temperatur von 92° richtig an?
- 2) Welcher Thermometer zeigt die Temperatur von 84° richtig an?
- 3) Welcher Thermometer zeigt die Temperatur von 56° richtig an?
- 4) Welcher Thermometer zeigt die Temperatur von 110° richtig an?
- 5) Welcher Thermometer zeigt die Temperatur von 13° richtig an?
- 6) Welcher Thermometer zeigt die Temperatur von 39° richtig an?
- 7) Welcher Thermometer zeigt die Temperatur von 3° richtig an?
- 8) Welcher Thermometer zeigt die Temperatur von 44° richtig an?
- 9) Welcher Thermometer zeigt die Temperatur von 74° richtig an?
- 10) Welcher Thermometer zeigt die Temperatur von 103° richtig an?

1. **C**
2. **F**
3. **B**
4. **I**
5. **J**
6. **E**
7. **G**
8. **D**
9. **A**
10. **H**



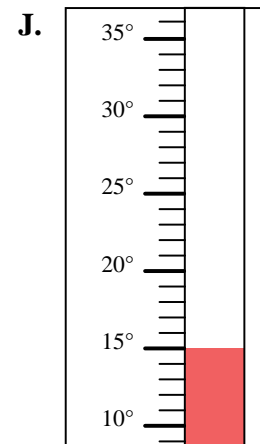
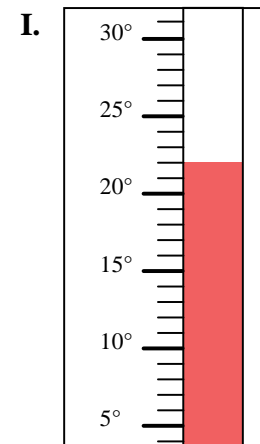
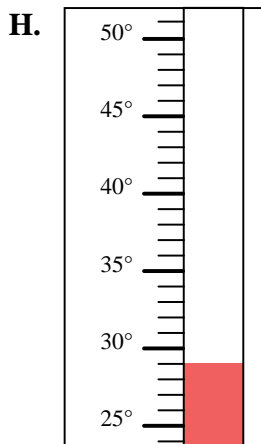
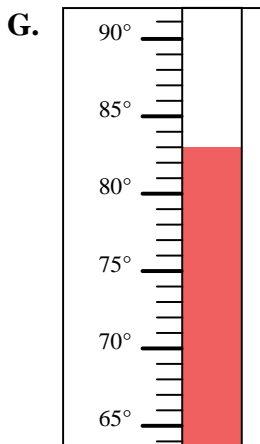
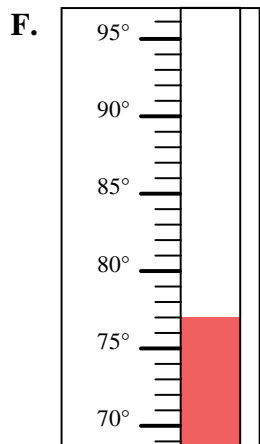
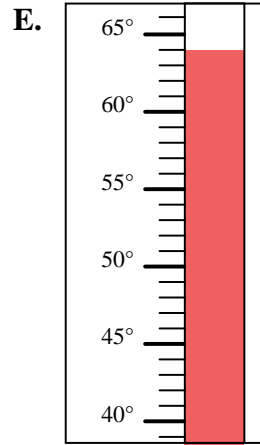
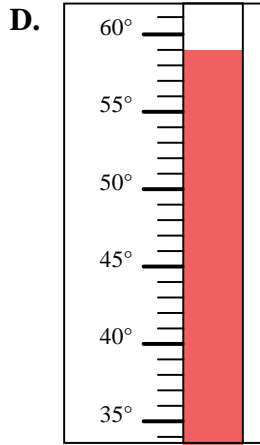
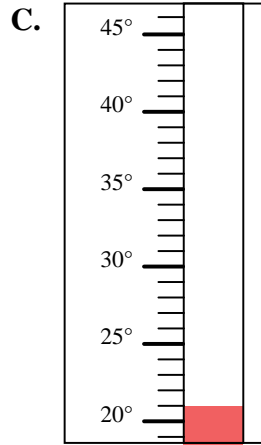
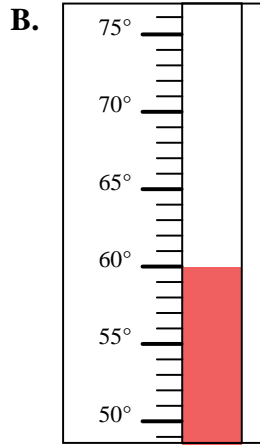
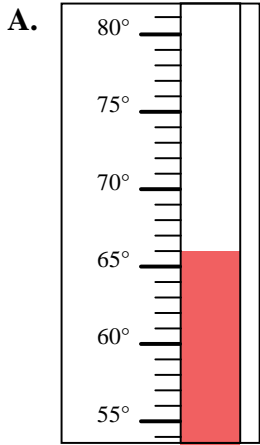


Bestimme, welcher Buchstabe die Frage richtig beantwortet.

Antworten

- 1) Welcher Thermometer zeigt die Temperatur von 22° richtig an?
- 2) Welcher Thermometer zeigt die Temperatur von 66° richtig an?
- 3) Welcher Thermometer zeigt die Temperatur von 15° richtig an?
- 4) Welcher Thermometer zeigt die Temperatur von 83° richtig an?
- 5) Welcher Thermometer zeigt die Temperatur von 21° richtig an?
- 6) Welcher Thermometer zeigt die Temperatur von 59° richtig an?
- 7) Welcher Thermometer zeigt die Temperatur von 60° richtig an?
- 8) Welcher Thermometer zeigt die Temperatur von 77° richtig an?
- 9) Welcher Thermometer zeigt die Temperatur von 64° richtig an?
- 10) Welcher Thermometer zeigt die Temperatur von 29° richtig an?

1. _____
2. _____
3. _____
4. _____
5. _____
6. _____
7. _____
8. _____
9. _____
10. _____



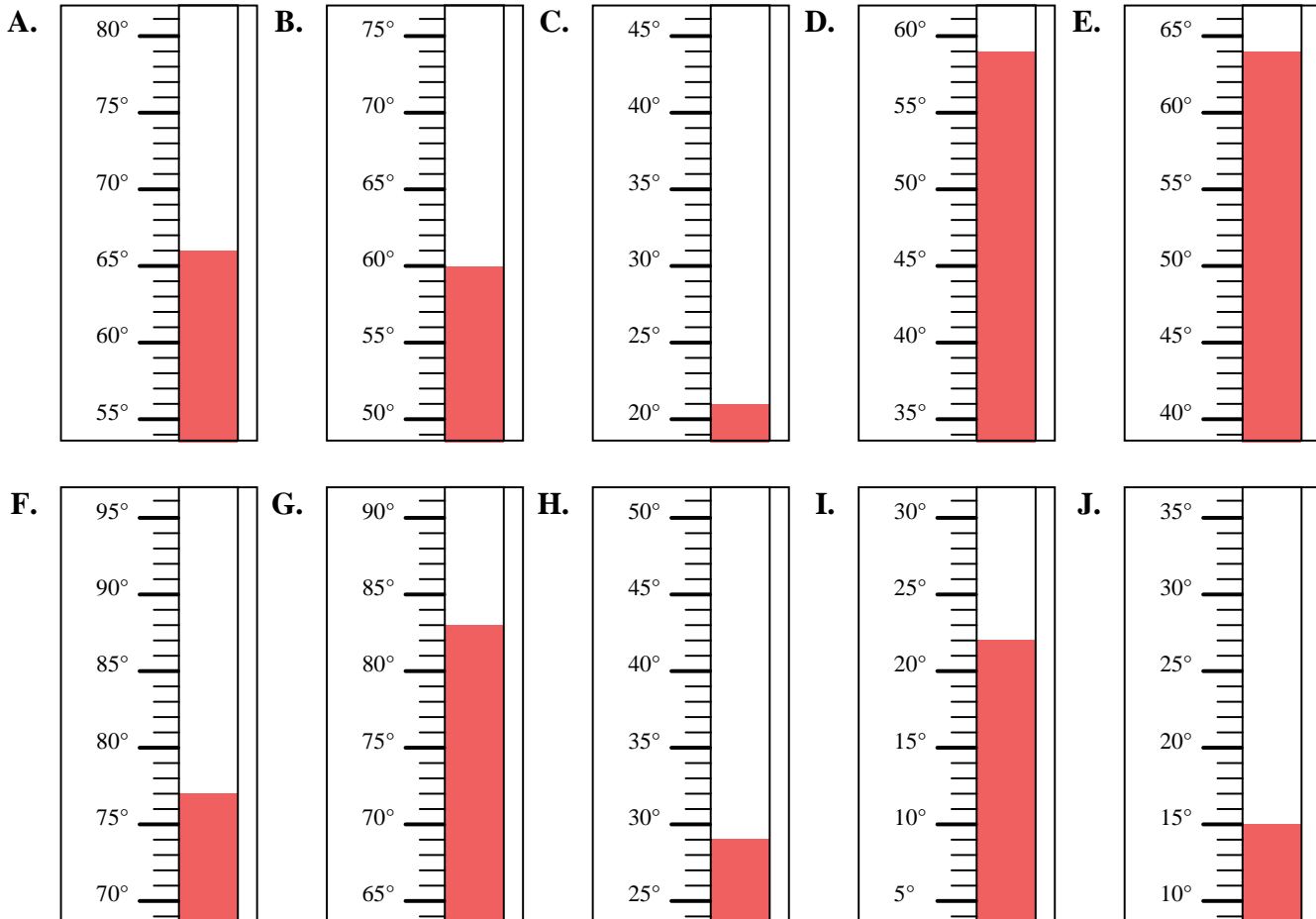


Bestimme, welcher Buchstabe die Frage richtig beantwortet.

Antworten

- 1) Welcher Thermometer zeigt die Temperatur von 22° richtig an?
- 2) Welcher Thermometer zeigt die Temperatur von 66° richtig an?
- 3) Welcher Thermometer zeigt die Temperatur von 15° richtig an?
- 4) Welcher Thermometer zeigt die Temperatur von 83° richtig an?
- 5) Welcher Thermometer zeigt die Temperatur von 21° richtig an?
- 6) Welcher Thermometer zeigt die Temperatur von 59° richtig an?
- 7) Welcher Thermometer zeigt die Temperatur von 60° richtig an?
- 8) Welcher Thermometer zeigt die Temperatur von 77° richtig an?
- 9) Welcher Thermometer zeigt die Temperatur von 64° richtig an?
- 10) Welcher Thermometer zeigt die Temperatur von 29° richtig an?

1. **I**
2. **A**
3. **J**
4. **G**
5. **C**
6. **D**
7. **B**
8. **F**
9. **E**
10. **H**



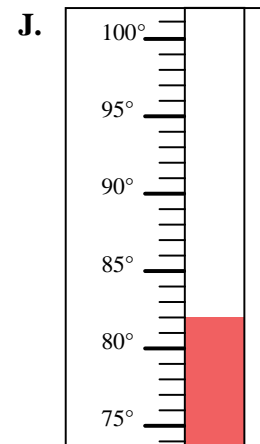
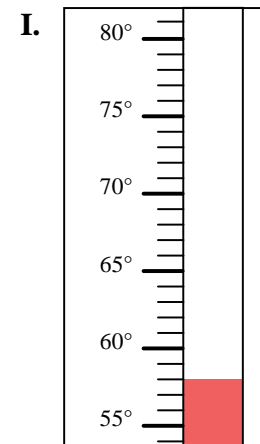
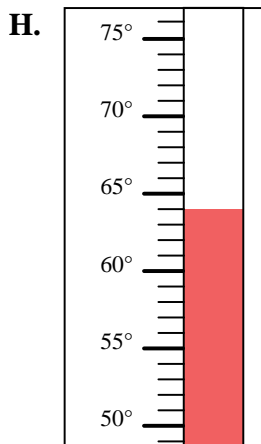
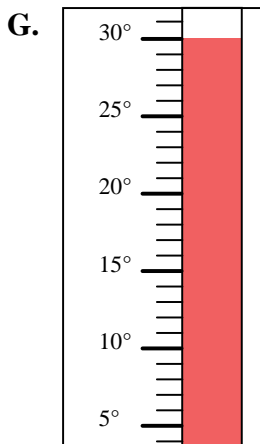
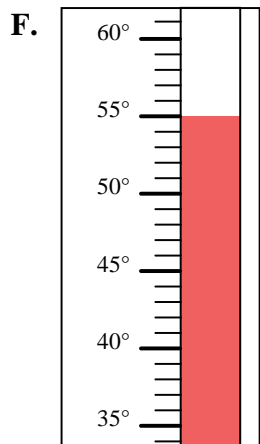
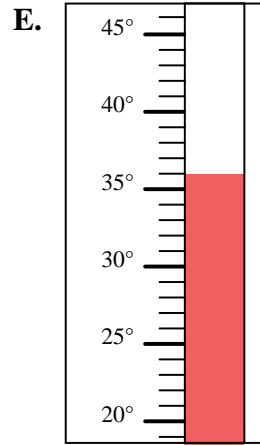
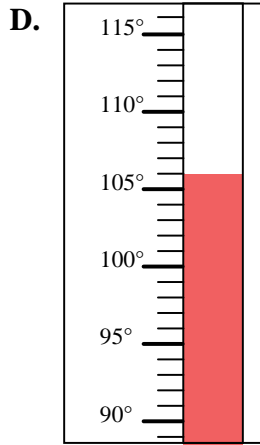
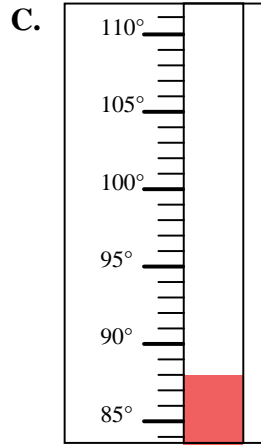
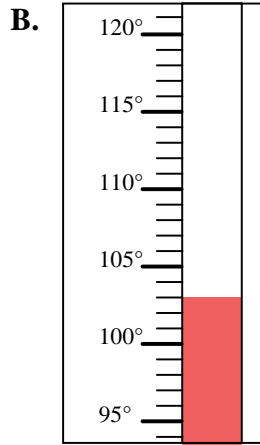
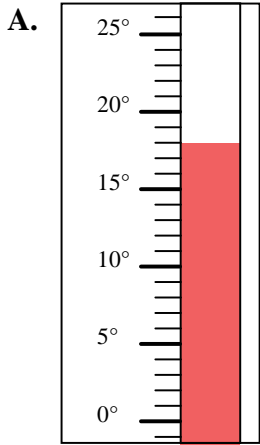


Bestimme, welcher Buchstabe die Frage richtig beantwortet.

Antworten

- 1) Welcher Thermometer zeigt die Temperatur von 82° richtig an?
- 2) Welcher Thermometer zeigt die Temperatur von 64° richtig an?
- 3) Welcher Thermometer zeigt die Temperatur von 58° richtig an?
- 4) Welcher Thermometer zeigt die Temperatur von 106° richtig an?
- 5) Welcher Thermometer zeigt die Temperatur von 88° richtig an?
- 6) Welcher Thermometer zeigt die Temperatur von 36° richtig an?
- 7) Welcher Thermometer zeigt die Temperatur von 18° richtig an?
- 8) Welcher Thermometer zeigt die Temperatur von 30° richtig an?
- 9) Welcher Thermometer zeigt die Temperatur von 55° richtig an?
- 10) Welcher Thermometer zeigt die Temperatur von 103° richtig an?

1. _____
2. _____
3. _____
4. _____
5. _____
6. _____
7. _____
8. _____
9. _____
10. _____



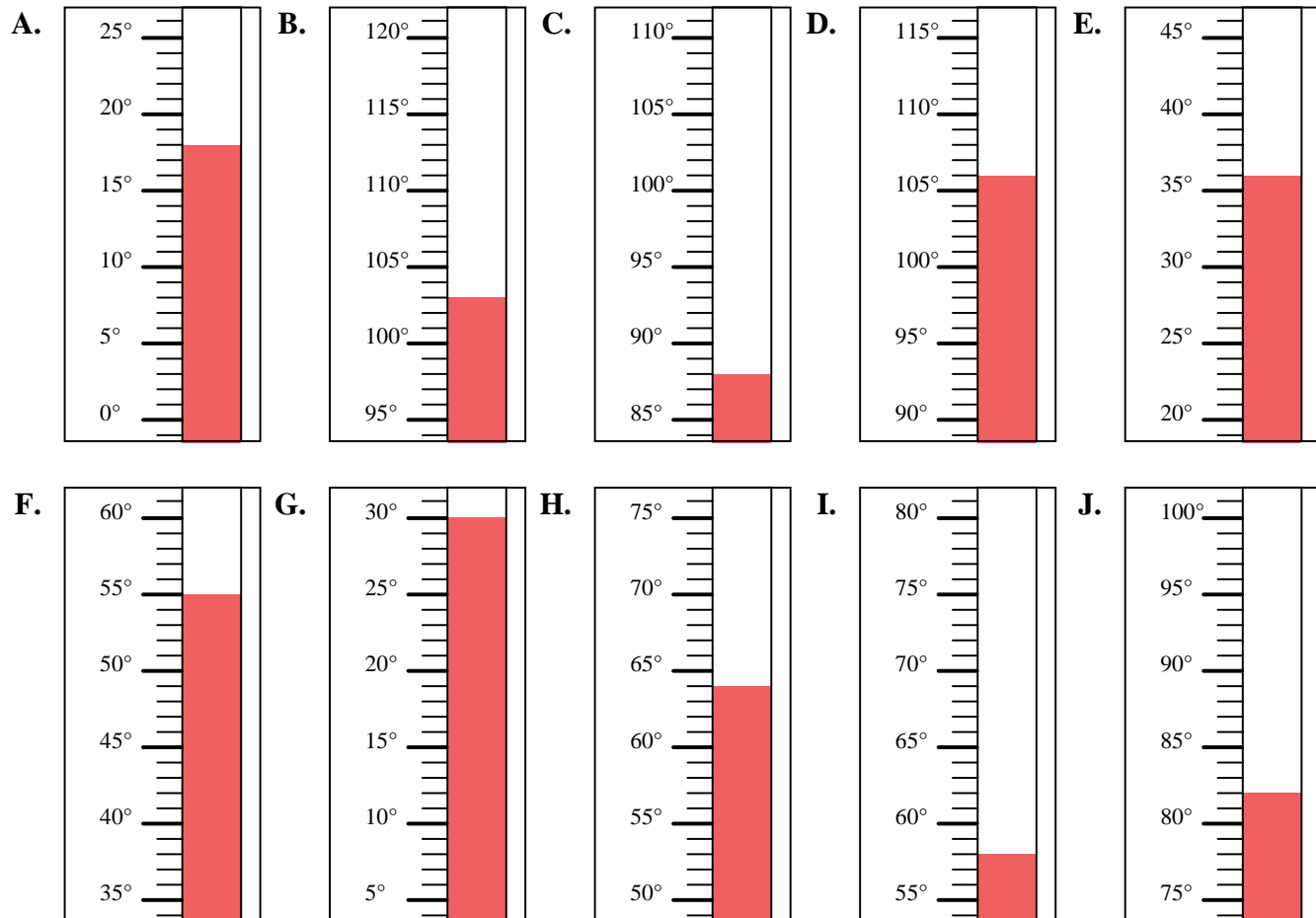


Bestimme, welcher Buchstabe die Frage richtig beantwortet.

Antworten

- 1) Welcher Thermometer zeigt die Temperatur von 82° richtig an?
- 2) Welcher Thermometer zeigt die Temperatur von 64° richtig an?
- 3) Welcher Thermometer zeigt die Temperatur von 58° richtig an?
- 4) Welcher Thermometer zeigt die Temperatur von 106° richtig an?
- 5) Welcher Thermometer zeigt die Temperatur von 88° richtig an?
- 6) Welcher Thermometer zeigt die Temperatur von 36° richtig an?
- 7) Welcher Thermometer zeigt die Temperatur von 18° richtig an?
- 8) Welcher Thermometer zeigt die Temperatur von 30° richtig an?
- 9) Welcher Thermometer zeigt die Temperatur von 55° richtig an?
- 10) Welcher Thermometer zeigt die Temperatur von 103° richtig an?

1. **J**
2. **H**
3. **I**
4. **D**
5. **C**
6. **E**
7. **A**
8. **G**
9. **F**
10. **B**



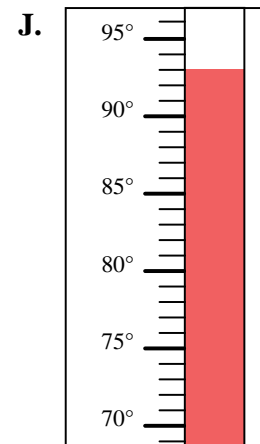
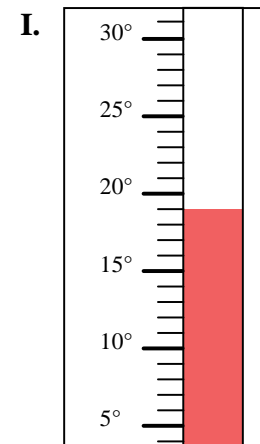
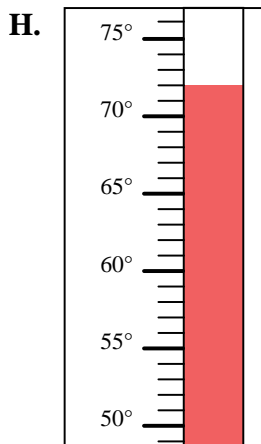
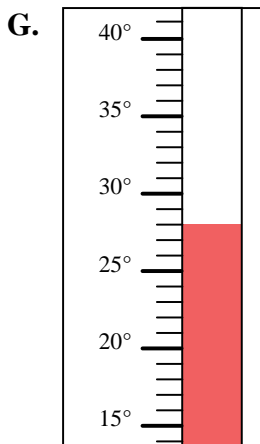
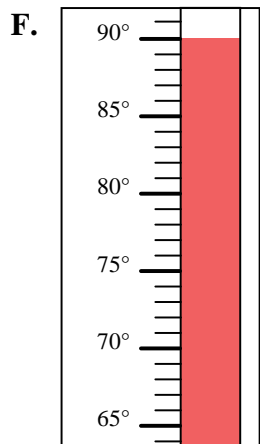
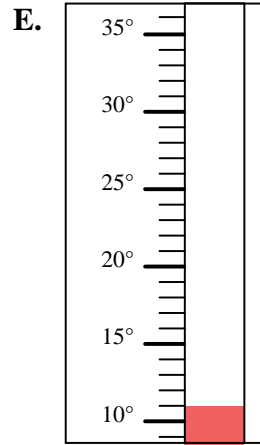
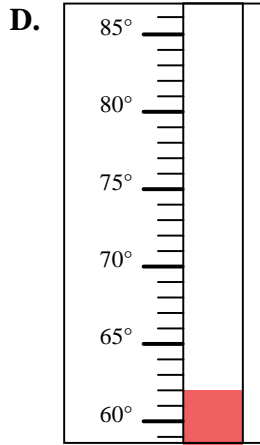
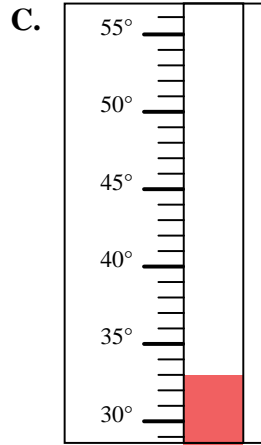
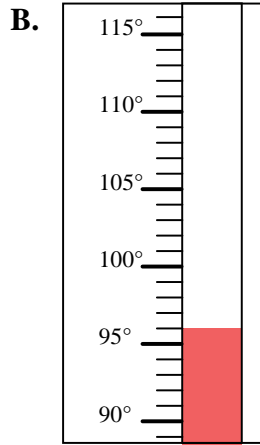
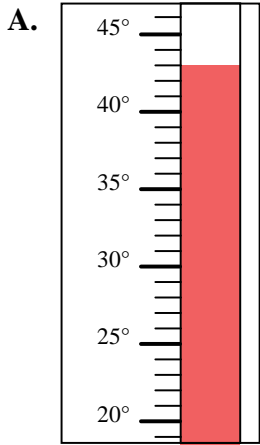


Bestimme, welcher Buchstabe die Frage richtig beantwortet.

Antworten

- 1) Welcher Thermometer zeigt die Temperatur von 62° richtig an?
- 2) Welcher Thermometer zeigt die Temperatur von 43° richtig an?
- 3) Welcher Thermometer zeigt die Temperatur von 72° richtig an?
- 4) Welcher Thermometer zeigt die Temperatur von 33° richtig an?
- 5) Welcher Thermometer zeigt die Temperatur von 11° richtig an?
- 6) Welcher Thermometer zeigt die Temperatur von 93° richtig an?
- 7) Welcher Thermometer zeigt die Temperatur von 96° richtig an?
- 8) Welcher Thermometer zeigt die Temperatur von 19° richtig an?
- 9) Welcher Thermometer zeigt die Temperatur von 28° richtig an?
- 10) Welcher Thermometer zeigt die Temperatur von 90° richtig an?

1. _____
2. _____
3. _____
4. _____
5. _____
6. _____
7. _____
8. _____
9. _____
10. _____



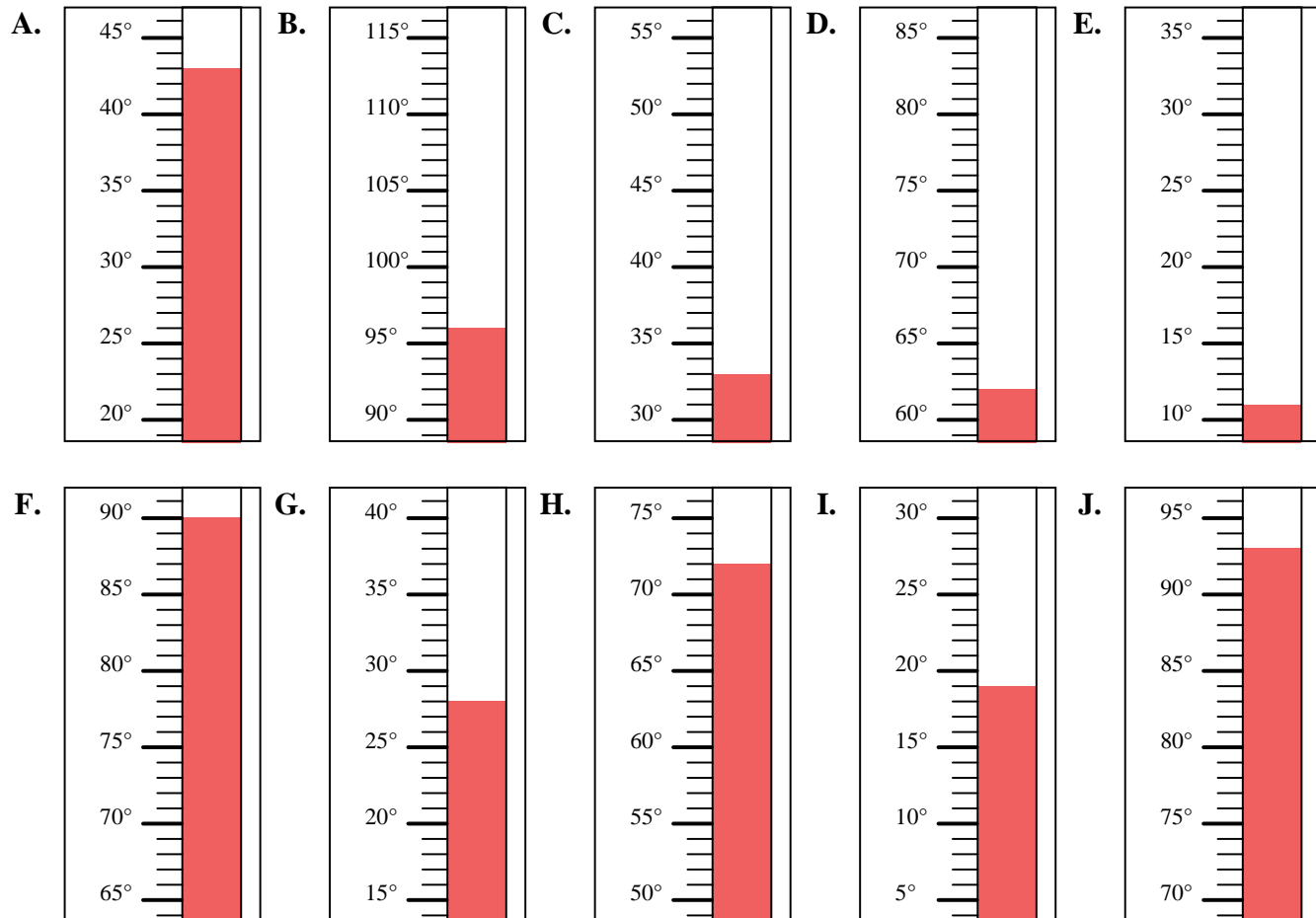


Bestimme, welcher Buchstabe die Frage richtig beantwortet.

Antworten

- 1) Welcher Thermometer zeigt die Temperatur von 62° richtig an?
- 2) Welcher Thermometer zeigt die Temperatur von 43° richtig an?
- 3) Welcher Thermometer zeigt die Temperatur von 72° richtig an?
- 4) Welcher Thermometer zeigt die Temperatur von 33° richtig an?
- 5) Welcher Thermometer zeigt die Temperatur von 11° richtig an?
- 6) Welcher Thermometer zeigt die Temperatur von 93° richtig an?
- 7) Welcher Thermometer zeigt die Temperatur von 96° richtig an?
- 8) Welcher Thermometer zeigt die Temperatur von 19° richtig an?
- 9) Welcher Thermometer zeigt die Temperatur von 28° richtig an?
- 10) Welcher Thermometer zeigt die Temperatur von 90° richtig an?

1. **D**
2. **A**
3. **H**
4. **C**
5. **E**
6. **J**
7. **B**
8. **I**
9. **G**
10. **F**



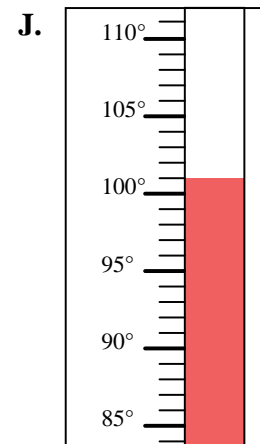
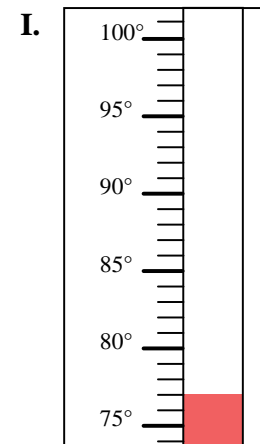
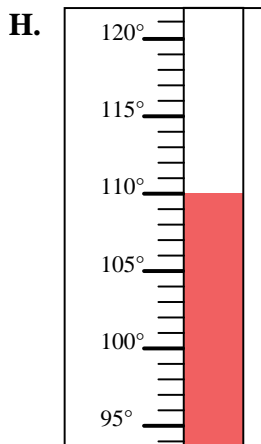
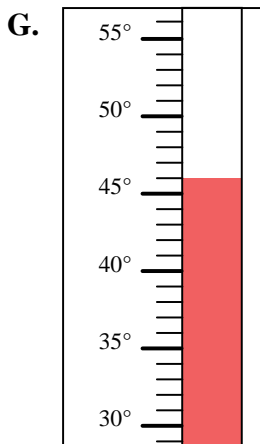
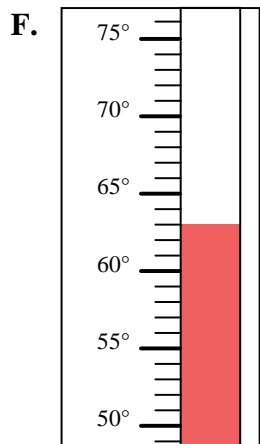
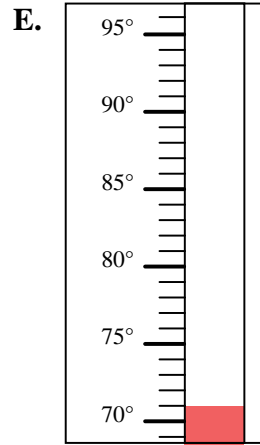
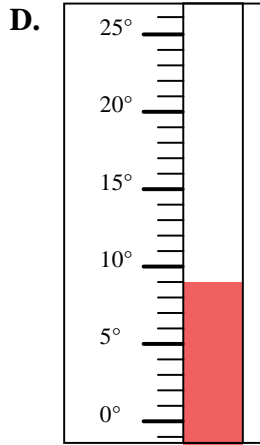
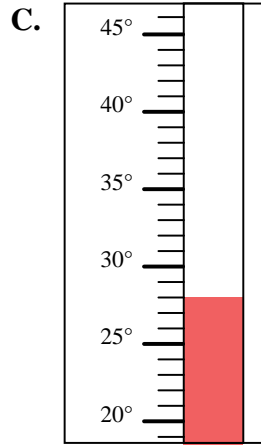
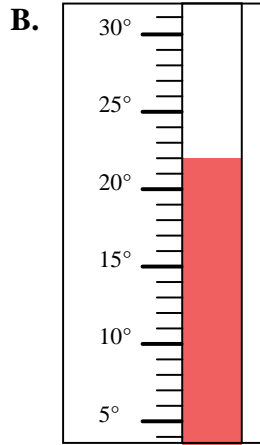
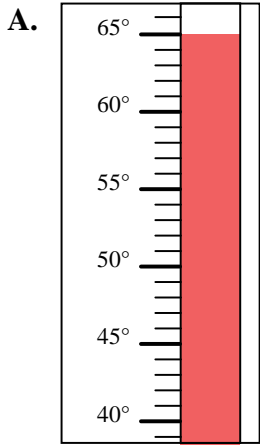


Bestimme, welcher Buchstabe die Frage richtig beantwortet.

Antworten

- 1) Welcher Thermometer zeigt die Temperatur von 63° richtig an?
- 2) Welcher Thermometer zeigt die Temperatur von 46° richtig an?
- 3) Welcher Thermometer zeigt die Temperatur von 65° richtig an?
- 4) Welcher Thermometer zeigt die Temperatur von 110° richtig an?
- 5) Welcher Thermometer zeigt die Temperatur von 77° richtig an?
- 6) Welcher Thermometer zeigt die Temperatur von 22° richtig an?
- 7) Welcher Thermometer zeigt die Temperatur von 71° richtig an?
- 8) Welcher Thermometer zeigt die Temperatur von 28° richtig an?
- 9) Welcher Thermometer zeigt die Temperatur von 9° richtig an?
- 10) Welcher Thermometer zeigt die Temperatur von 101° richtig an?

1. _____
2. _____
3. _____
4. _____
5. _____
6. _____
7. _____
8. _____
9. _____
10. _____



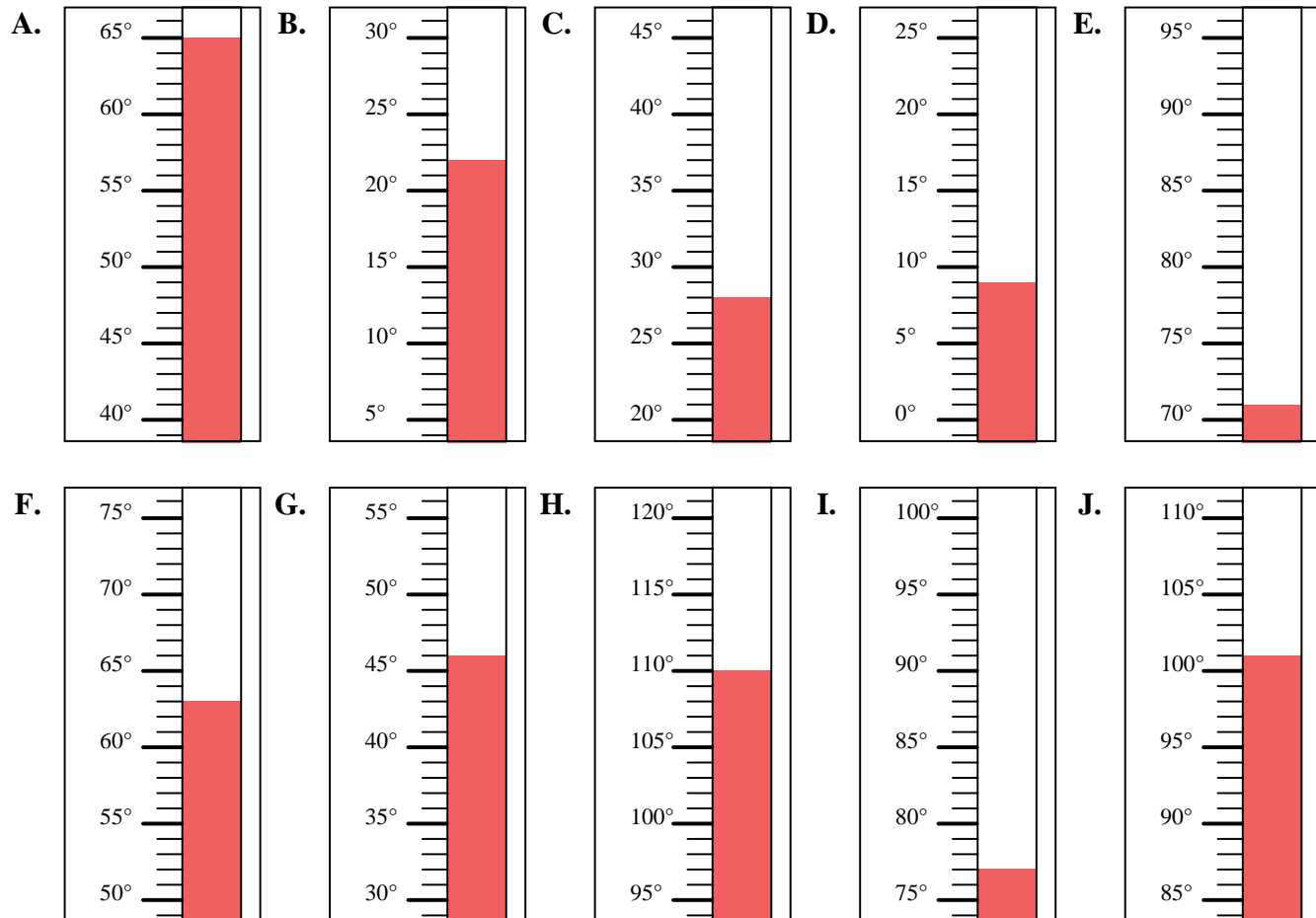


Bestimme, welcher Buchstabe die Frage richtig beantwortet.

Antworten

- 1) Welcher Thermometer zeigt die Temperatur von 63° richtig an?
- 2) Welcher Thermometer zeigt die Temperatur von 46° richtig an?
- 3) Welcher Thermometer zeigt die Temperatur von 65° richtig an?
- 4) Welcher Thermometer zeigt die Temperatur von 110° richtig an?
- 5) Welcher Thermometer zeigt die Temperatur von 77° richtig an?
- 6) Welcher Thermometer zeigt die Temperatur von 22° richtig an?
- 7) Welcher Thermometer zeigt die Temperatur von 71° richtig an?
- 8) Welcher Thermometer zeigt die Temperatur von 28° richtig an?
- 9) Welcher Thermometer zeigt die Temperatur von 9° richtig an?
- 10) Welcher Thermometer zeigt die Temperatur von 101° richtig an?

1. **F**
2. **G**
3. **A**
4. **H**
5. **I**
6. **B**
7. **E**
8. **C**
9. **D**
10. **J**



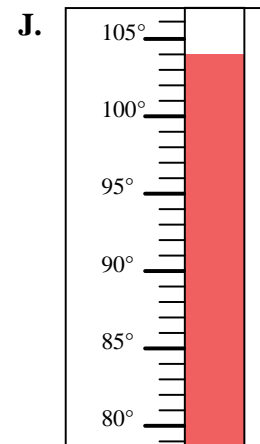
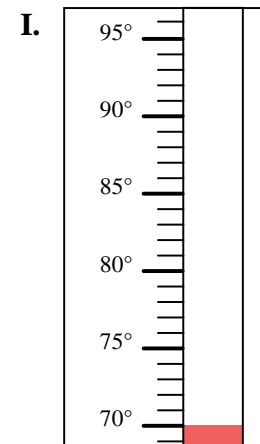
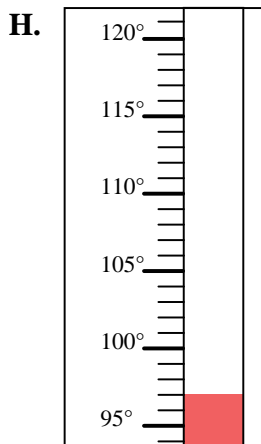
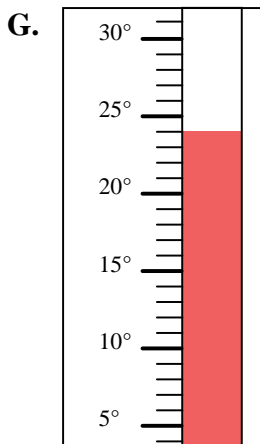
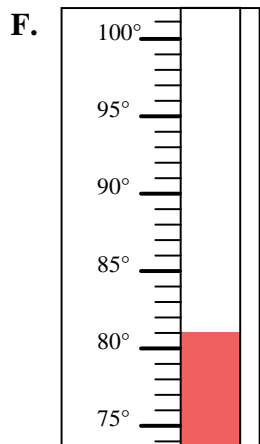
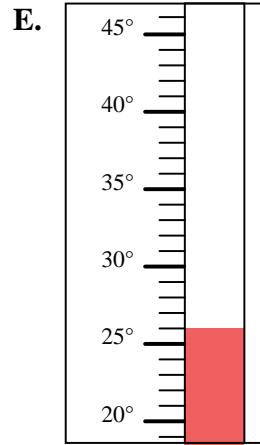
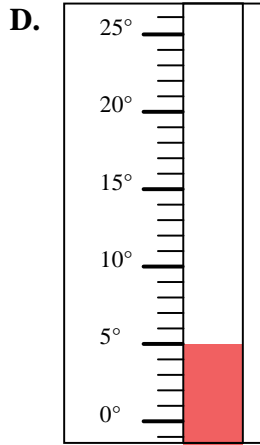
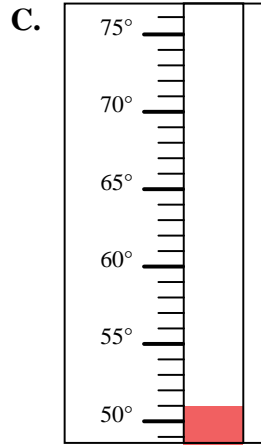
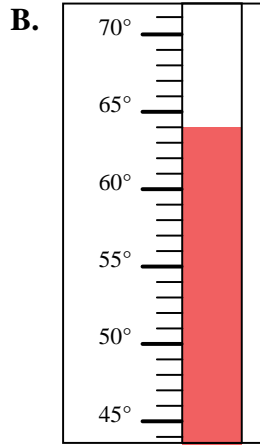
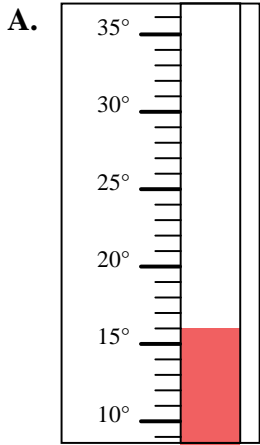


Bestimme, welcher Buchstabe die Frage richtig beantwortet.

Antworten

- 1) Welcher Thermometer zeigt die Temperatur von 70° richtig an?
- 2) Welcher Thermometer zeigt die Temperatur von 51° richtig an?
- 3) Welcher Thermometer zeigt die Temperatur von 64° richtig an?
- 4) Welcher Thermometer zeigt die Temperatur von 26° richtig an?
- 5) Welcher Thermometer zeigt die Temperatur von 104° richtig an?
- 6) Welcher Thermometer zeigt die Temperatur von 97° richtig an?
- 7) Welcher Thermometer zeigt die Temperatur von 5° richtig an?
- 8) Welcher Thermometer zeigt die Temperatur von 81° richtig an?
- 9) Welcher Thermometer zeigt die Temperatur von 16° richtig an?
- 10) Welcher Thermometer zeigt die Temperatur von 24° richtig an?

1. _____
2. _____
3. _____
4. _____
5. _____
6. _____
7. _____
8. _____
9. _____
10. _____



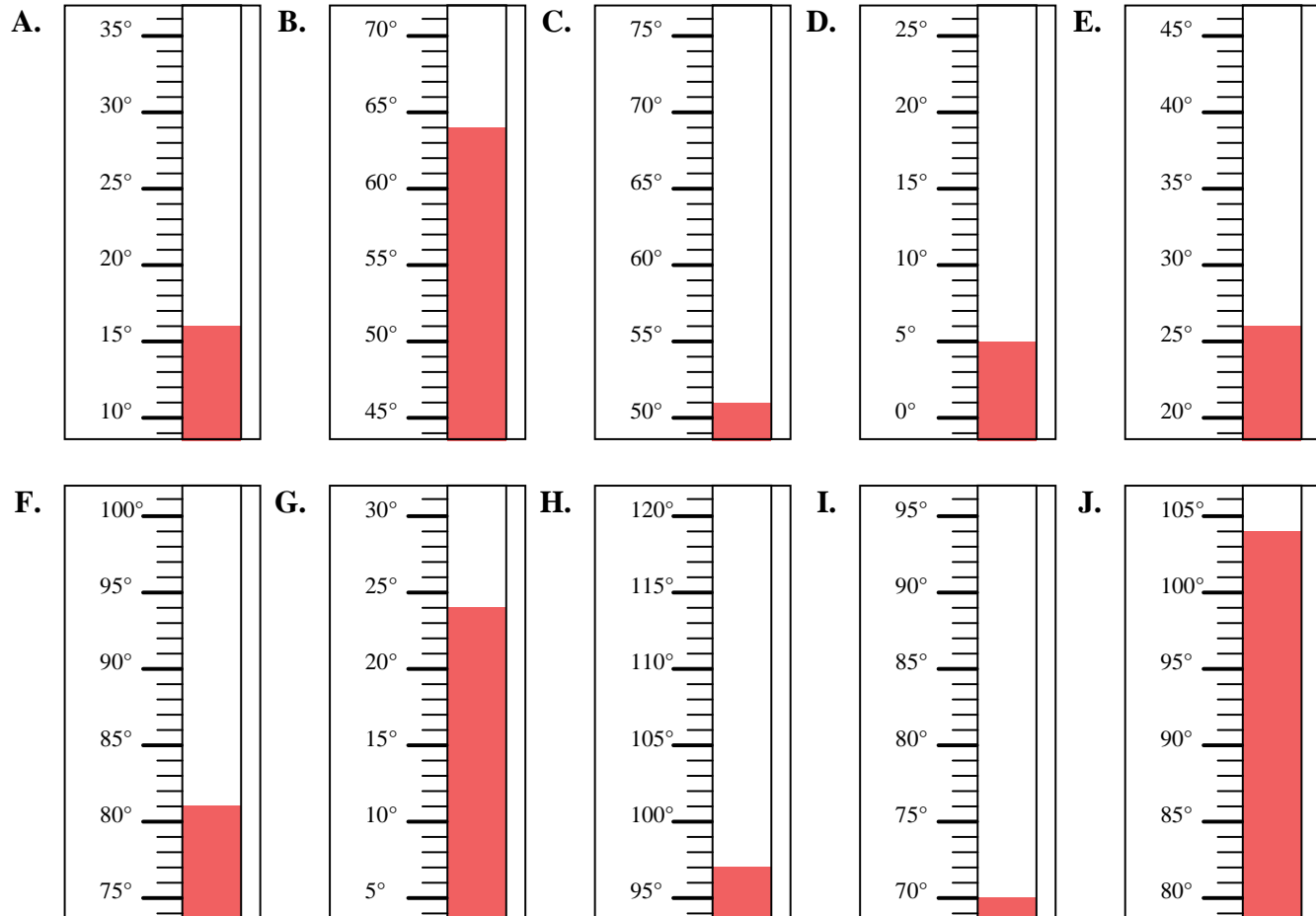


Bestimme, welcher Buchstabe die Frage richtig beantwortet.

Antworten

- 1) Welcher Thermometer zeigt die Temperatur von 70° richtig an?
- 2) Welcher Thermometer zeigt die Temperatur von 51° richtig an?
- 3) Welcher Thermometer zeigt die Temperatur von 64° richtig an?
- 4) Welcher Thermometer zeigt die Temperatur von 26° richtig an?
- 5) Welcher Thermometer zeigt die Temperatur von 104° richtig an?
- 6) Welcher Thermometer zeigt die Temperatur von 97° richtig an?
- 7) Welcher Thermometer zeigt die Temperatur von 5° richtig an?
- 8) Welcher Thermometer zeigt die Temperatur von 81° richtig an?
- 9) Welcher Thermometer zeigt die Temperatur von 16° richtig an?
- 10) Welcher Thermometer zeigt die Temperatur von 24° richtig an?

1. **I**
2. **C**
3. **B**
4. **E**
5. **J**
6. **H**
7. **D**
8. **F**
9. **A**
10. **G**



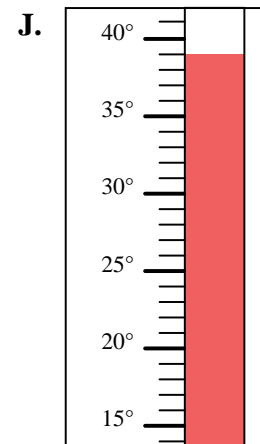
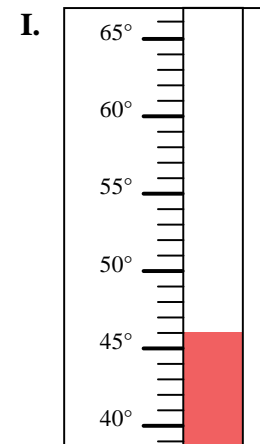
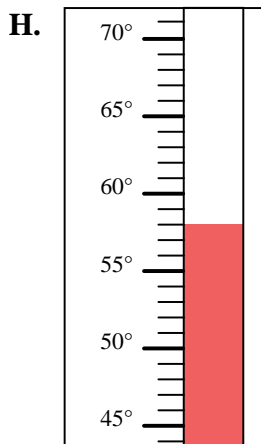
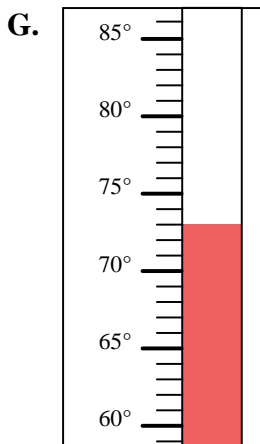
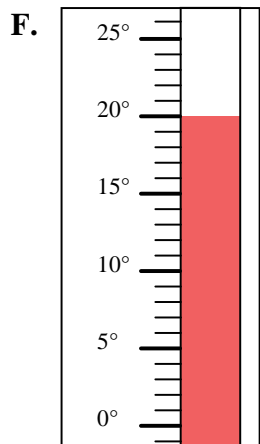
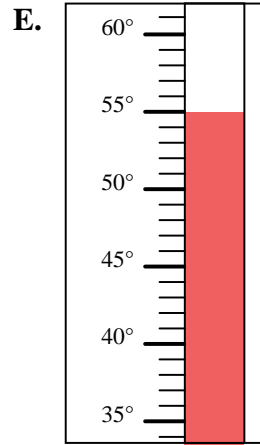
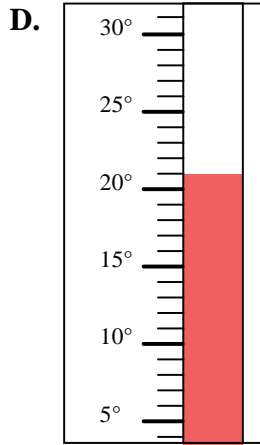
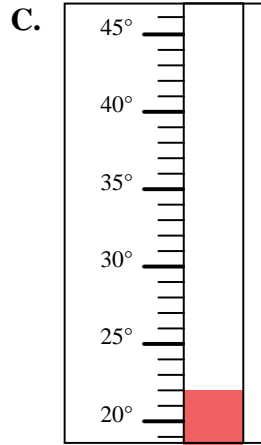
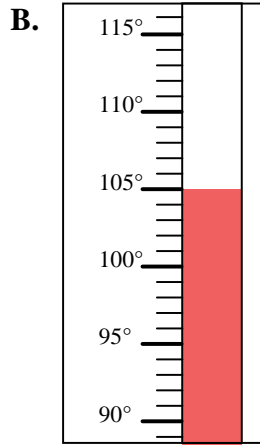
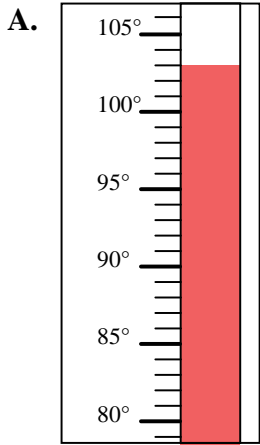


Bestimme, welcher Buchstabe die Frage richtig beantwortet.

Antworten

- 1) Welcher Thermometer zeigt die Temperatur von 103° richtig an?
- 2) Welcher Thermometer zeigt die Temperatur von 73° richtig an?
- 3) Welcher Thermometer zeigt die Temperatur von 22° richtig an?
- 4) Welcher Thermometer zeigt die Temperatur von 21° richtig an?
- 5) Welcher Thermometer zeigt die Temperatur von 46° richtig an?
- 6) Welcher Thermometer zeigt die Temperatur von 20° richtig an?
- 7) Welcher Thermometer zeigt die Temperatur von 39° richtig an?
- 8) Welcher Thermometer zeigt die Temperatur von 55° richtig an?
- 9) Welcher Thermometer zeigt die Temperatur von 105° richtig an?
- 10) Welcher Thermometer zeigt die Temperatur von 58° richtig an?

1. _____
2. _____
3. _____
4. _____
5. _____
6. _____
7. _____
8. _____
9. _____
10. _____





Bestimme, welcher Buchstabe die Frage richtig beantwortet.

Antworten

- 1) Welcher Thermometer zeigt die Temperatur von 103° richtig an?
- 2) Welcher Thermometer zeigt die Temperatur von 73° richtig an?
- 3) Welcher Thermometer zeigt die Temperatur von 22° richtig an?
- 4) Welcher Thermometer zeigt die Temperatur von 21° richtig an?
- 5) Welcher Thermometer zeigt die Temperatur von 46° richtig an?
- 6) Welcher Thermometer zeigt die Temperatur von 20° richtig an?
- 7) Welcher Thermometer zeigt die Temperatur von 39° richtig an?
- 8) Welcher Thermometer zeigt die Temperatur von 55° richtig an?
- 9) Welcher Thermometer zeigt die Temperatur von 105° richtig an?
- 10) Welcher Thermometer zeigt die Temperatur von 58° richtig an?

1. **A**
2. **G**
3. **C**
4. **D**
5. **I**
6. **F**
7. **J**
8. **E**
9. **B**
10. **H**

