

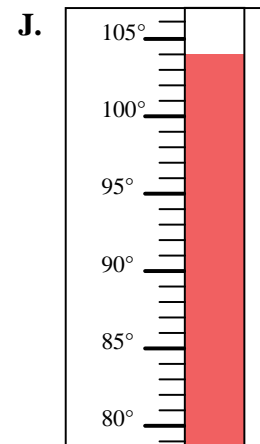
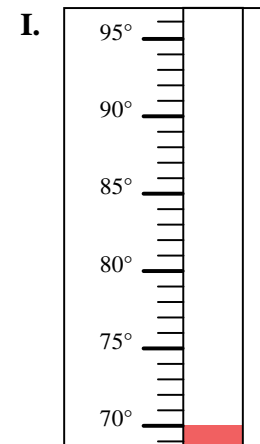
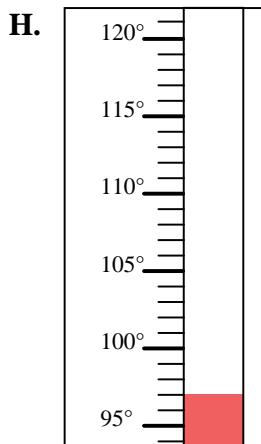
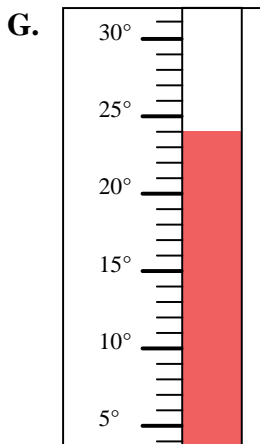
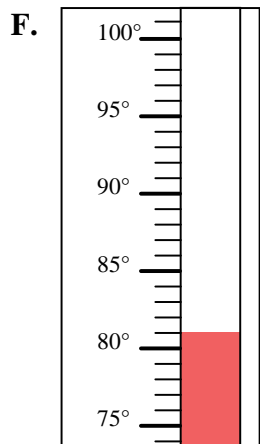
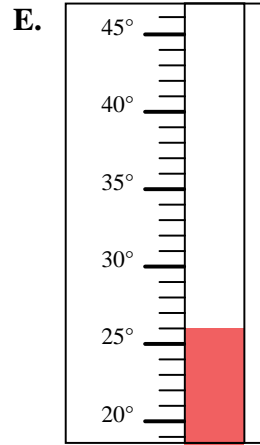
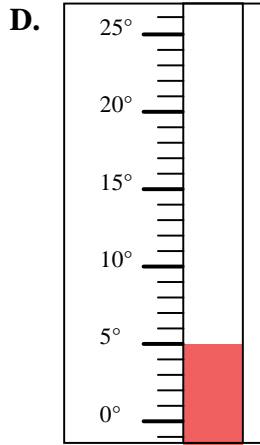
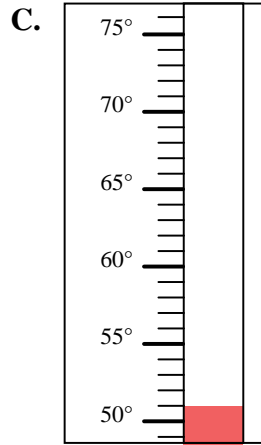
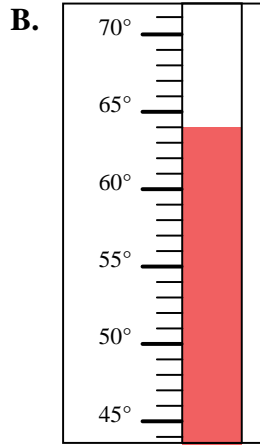
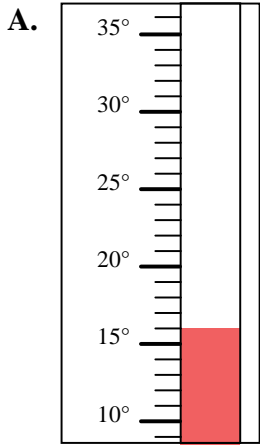


Bestimme, welcher Buchstabe die Frage richtig beantwortet.

Antworten

- 1) Welcher Thermometer zeigt die Temperatur von 70° richtig an?
- 2) Welcher Thermometer zeigt die Temperatur von 51° richtig an?
- 3) Welcher Thermometer zeigt die Temperatur von 64° richtig an?
- 4) Welcher Thermometer zeigt die Temperatur von 26° richtig an?
- 5) Welcher Thermometer zeigt die Temperatur von 104° richtig an?
- 6) Welcher Thermometer zeigt die Temperatur von 97° richtig an?
- 7) Welcher Thermometer zeigt die Temperatur von 5° richtig an?
- 8) Welcher Thermometer zeigt die Temperatur von 81° richtig an?
- 9) Welcher Thermometer zeigt die Temperatur von 16° richtig an?
- 10) Welcher Thermometer zeigt die Temperatur von 24° richtig an?

1. _____
2. _____
3. _____
4. _____
5. _____
6. _____
7. _____
8. _____
9. _____
10. _____





Bestimme, welcher Buchstabe die Frage richtig beantwortet.

Antworten

- 1) Welcher Thermometer zeigt die Temperatur von 70° richtig an?
- 2) Welcher Thermometer zeigt die Temperatur von 51° richtig an?
- 3) Welcher Thermometer zeigt die Temperatur von 64° richtig an?
- 4) Welcher Thermometer zeigt die Temperatur von 26° richtig an?
- 5) Welcher Thermometer zeigt die Temperatur von 104° richtig an?
- 6) Welcher Thermometer zeigt die Temperatur von 97° richtig an?
- 7) Welcher Thermometer zeigt die Temperatur von 5° richtig an?
- 8) Welcher Thermometer zeigt die Temperatur von 81° richtig an?
- 9) Welcher Thermometer zeigt die Temperatur von 16° richtig an?
- 10) Welcher Thermometer zeigt die Temperatur von 24° richtig an?

1. **I**
2. **C**
3. **B**
4. **E**
5. **J**
6. **H**
7. **D**
8. **F**
9. **A**
10. **G**

