

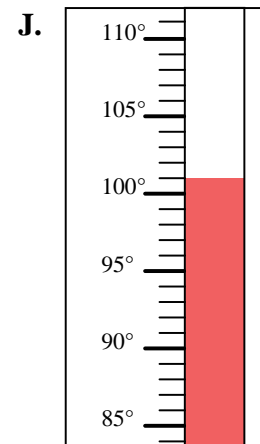
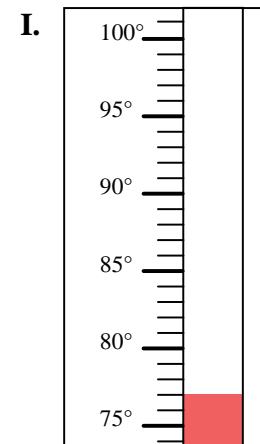
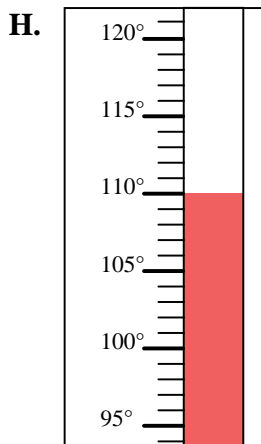
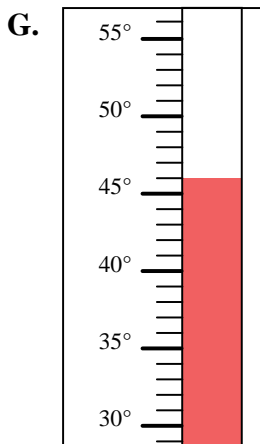
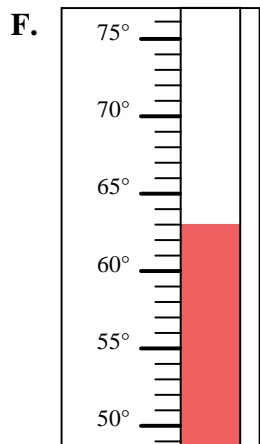
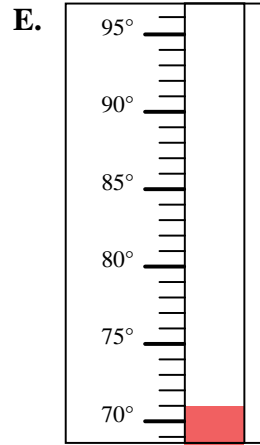
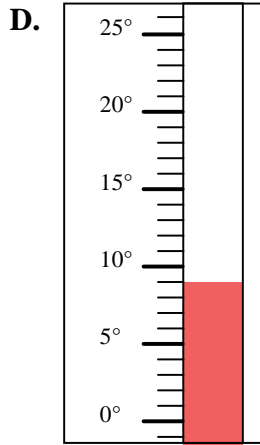
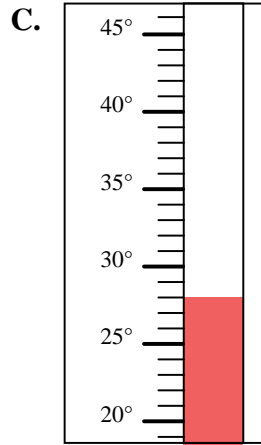
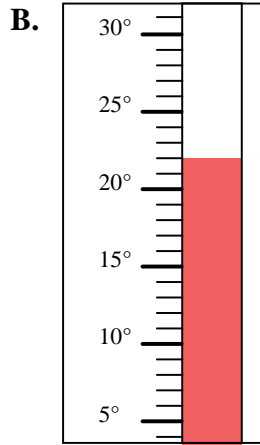
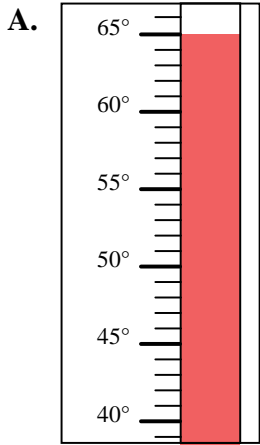


Bestimme, welcher Buchstabe die Frage richtig beantwortet.

Antworten

- 1) Welcher Thermometer zeigt die Temperatur von 63° richtig an?
- 2) Welcher Thermometer zeigt die Temperatur von 46° richtig an?
- 3) Welcher Thermometer zeigt die Temperatur von 65° richtig an?
- 4) Welcher Thermometer zeigt die Temperatur von 110° richtig an?
- 5) Welcher Thermometer zeigt die Temperatur von 77° richtig an?
- 6) Welcher Thermometer zeigt die Temperatur von 22° richtig an?
- 7) Welcher Thermometer zeigt die Temperatur von 71° richtig an?
- 8) Welcher Thermometer zeigt die Temperatur von 28° richtig an?
- 9) Welcher Thermometer zeigt die Temperatur von 9° richtig an?
- 10) Welcher Thermometer zeigt die Temperatur von 101° richtig an?

1. _____
2. _____
3. _____
4. _____
5. _____
6. _____
7. _____
8. _____
9. _____
10. _____





Bestimme, welcher Buchstabe die Frage richtig beantwortet.

Antworten

- 1) Welcher Thermometer zeigt die Temperatur von 63° richtig an?
- 2) Welcher Thermometer zeigt die Temperatur von 46° richtig an?
- 3) Welcher Thermometer zeigt die Temperatur von 65° richtig an?
- 4) Welcher Thermometer zeigt die Temperatur von 110° richtig an?
- 5) Welcher Thermometer zeigt die Temperatur von 77° richtig an?
- 6) Welcher Thermometer zeigt die Temperatur von 22° richtig an?
- 7) Welcher Thermometer zeigt die Temperatur von 71° richtig an?
- 8) Welcher Thermometer zeigt die Temperatur von 28° richtig an?
- 9) Welcher Thermometer zeigt die Temperatur von 9° richtig an?
- 10) Welcher Thermometer zeigt die Temperatur von 101° richtig an?

1. **F**
2. **G**
3. **A**
4. **H**
5. **I**
6. **B**
7. **E**
8. **C**
9. **D**
10. **J**

