

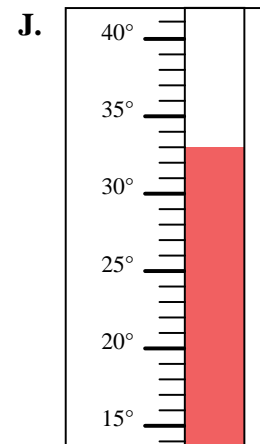
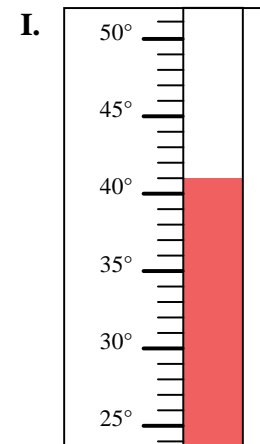
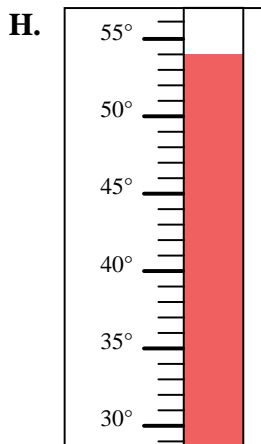
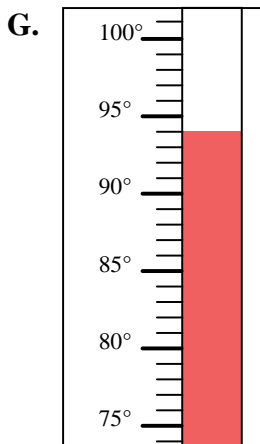
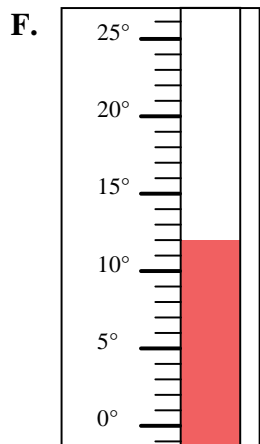
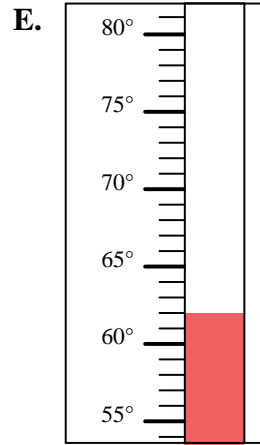
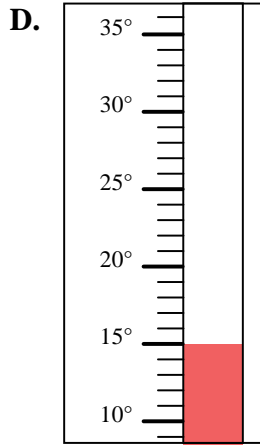
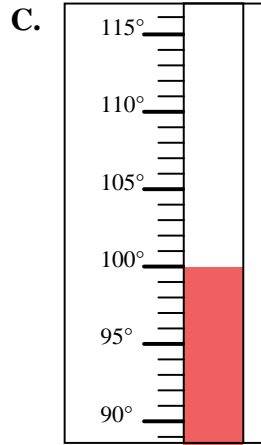
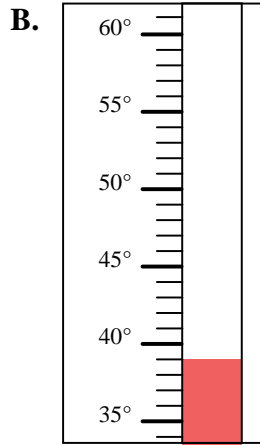
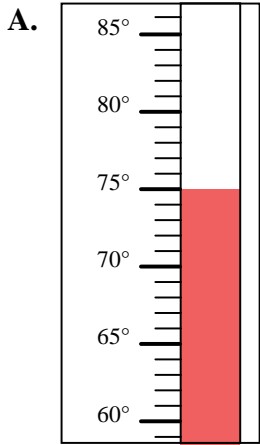


Bestimme, welcher Buchstabe die Frage richtig beantwortet.

Antworten

- 1) Welcher Thermometer zeigt die Temperatur von 39° richtig an?
- 2) Welcher Thermometer zeigt die Temperatur von 12° richtig an?
- 3) Welcher Thermometer zeigt die Temperatur von 75° richtig an?
- 4) Welcher Thermometer zeigt die Temperatur von 100° richtig an?
- 5) Welcher Thermometer zeigt die Temperatur von 33° richtig an?
- 6) Welcher Thermometer zeigt die Temperatur von 15° richtig an?
- 7) Welcher Thermometer zeigt die Temperatur von 94° richtig an?
- 8) Welcher Thermometer zeigt die Temperatur von 54° richtig an?
- 9) Welcher Thermometer zeigt die Temperatur von 62° richtig an?
- 10) Welcher Thermometer zeigt die Temperatur von 41° richtig an?

1. _____
2. _____
3. _____
4. _____
5. _____
6. _____
7. _____
8. _____
9. _____
10. _____





Bestimme, welcher Buchstabe die Frage richtig beantwortet.

Antworten

- 1) Welcher Thermometer zeigt die Temperatur von 39° richtig an?
- 2) Welcher Thermometer zeigt die Temperatur von 12° richtig an?
- 3) Welcher Thermometer zeigt die Temperatur von 75° richtig an?
- 4) Welcher Thermometer zeigt die Temperatur von 100° richtig an?
- 5) Welcher Thermometer zeigt die Temperatur von 33° richtig an?
- 6) Welcher Thermometer zeigt die Temperatur von 15° richtig an?
- 7) Welcher Thermometer zeigt die Temperatur von 94° richtig an?
- 8) Welcher Thermometer zeigt die Temperatur von 54° richtig an?
- 9) Welcher Thermometer zeigt die Temperatur von 62° richtig an?
- 10) Welcher Thermometer zeigt die Temperatur von 41° richtig an?

1. **B**
2. **F**
3. **A**
4. **C**
5. **J**
6. **D**
7. **G**
8. **H**
9. **E**
10. **I**

