



Stelle fest, ob eine Form-Verschiebung, Form-Drehung oder Form-Spiegelung vorliegt.

**Antworten**

1)



2)



3)



1. \_\_\_\_\_

2. \_\_\_\_\_

3. \_\_\_\_\_

4. \_\_\_\_\_

4)



5)



6)



5. \_\_\_\_\_

6. \_\_\_\_\_

7. \_\_\_\_\_

8. \_\_\_\_\_

7)



8)



9)



9. \_\_\_\_\_

10. \_\_\_\_\_

11. \_\_\_\_\_

12. \_\_\_\_\_

10)



11)



12)



13. \_\_\_\_\_

14. \_\_\_\_\_

15. \_\_\_\_\_

13)



14)



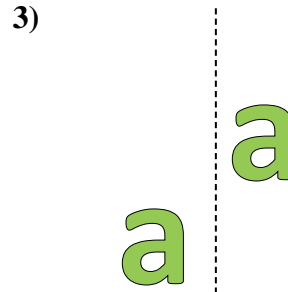
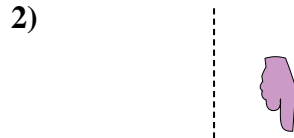
15)





Stelle fest, ob eine Form-Verschiebung, Form-Drehung oder Form-Spiegelung vorliegt.

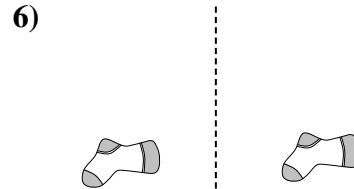
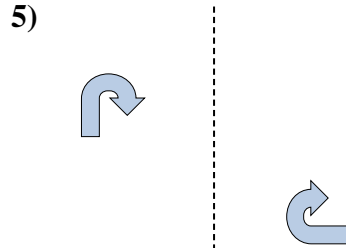
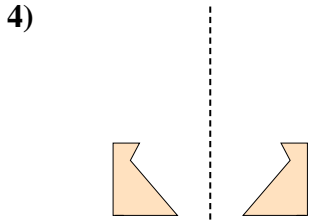
Antworten



1. Verschiebung



2. Drehung

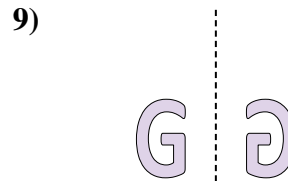

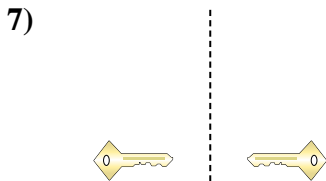


3. Verschiebung

4. Spiegelung

5. Drehung

6. Verschiebung



7. Spiegelung

8. Verschiebung

9. Spiegelung

10. Verschiebung

11. Verschiebung



12. Drehung

13. Drehung

14. Drehung

15. Spiegelung

