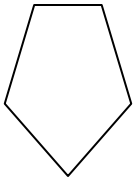




Bestimmen Sie, welcher Buchstabe BEST für die Formen steht, die verwendet wurden, um die gezeigte Figur zu erstellen.

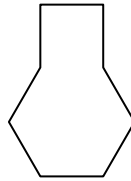
Antworten

1)



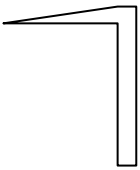
- A. Sechseck & triangle
- B. Viereck & triangle
- C. rectangle & Fünfeck
- D. rectangle & Achteck

2)



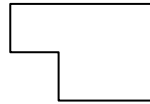
- A. Fünfeck & square
- B. square & Siebeneck
- C. Sechseck & square
- D. square & triangle

3)



- A. Viereck & triangle
- B. square & Viereck
- C. Siebeneck & Achteck
- D. Sechseck & Siebeneck

4)



- A. rectangle & square
- B. Sechseck & square
- C. Viereck & Achteck
- D. rectangle & triangle

5)



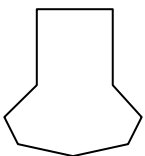
- A. triangle & triangle
- B. rectangle & Sechseck
- C. Fünfeck & Viereck
- D. rectangle & Viereck

6)



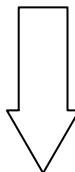
- A. Viereck & Sechseck
- B. Viereck & Siebeneck
- C. Sechseck & Viereck
- D. Viereck & triangle

7)



- A. Siebeneck & rectangle
- B. square & rectangle
- C. Siebeneck & Viereck
- D. Fünfeck & Achteck

8)



- A. Sechseck & Achteck
- B. Achteck & square
- C. triangle & Fünfeck
- D. rectangle & triangle

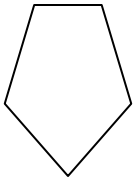
- 1. \_\_\_\_\_
- 2. \_\_\_\_\_
- 3. \_\_\_\_\_
- 4. \_\_\_\_\_
- 5. \_\_\_\_\_
- 6. \_\_\_\_\_
- 7. \_\_\_\_\_
- 8. \_\_\_\_\_



Bestimmen Sie, welcher Buchstabe BEST für die Formen steht, die verwendet wurden, um die gezeigte Figur zu erstellen.

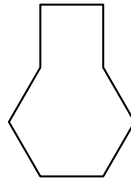
**Antworten**

1)



- A. Sechseck & triangle
- B. Viereck & triangle
- C. rectangle & Fünfeck
- D. rectangle & Achteck

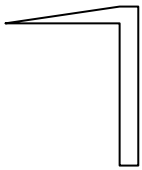
2)



- A. Fünfeck & square
- B. square & Siebeneck
- C. Sechseck & square
- D. square & triangle

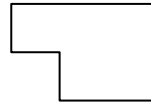
1.   **B**  2.   **C**  3.   **A**  4.   **A**  5.   **A**  

3)



- A. Viereck & triangle
- B. square & Viereck
- C. Siebeneck & Achteck
- D. Sechseck & Siebeneck


4)



- A. rectangle & square
- B. Sechseck & square
- C. Viereck & Achteck
- D. rectangle & triangle

6.   **C**  7.   **C**  8.   **D**  

5)



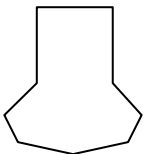
- A. triangle & triangle
- B. rectangle & Sechseck
- C. Fünfeck & Viereck
- D. rectangle & Viereck

6)



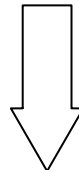
- A. Viereck & Sechseck
- B. Viereck & Siebeneck
- C. Sechseck & Viereck
- D. Viereck & triangle

7)



- A. Siebeneck & rectangle
- B. square & rectangle
- C. Siebeneck & Viereck
- D. Fünfeck & Achteck

8)



- A. Sechseck & Achteck
- B. Achteck & square
- C. triangle & Fünfeck
- D. rectangle & triangle