



Benutze den Zahlenstrahl um jede Zahl auf das nächste Hundert zu runden.

Antworten

Bsp)

28.435

Bsp. **28.400**

1)

8.183



1. _____

2)

53.271



2. _____

3)

6.617



3. _____

4)

216



4. _____

5)

846



5. _____

6)

3.262



6. _____

7)

40.668



7. _____

8)

78.227



8. _____

9)

226



9. _____

10)

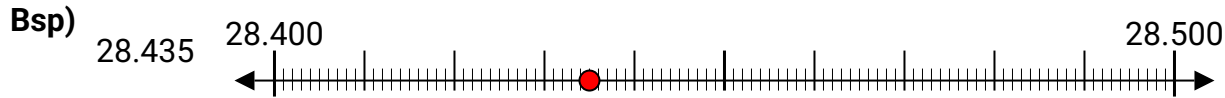
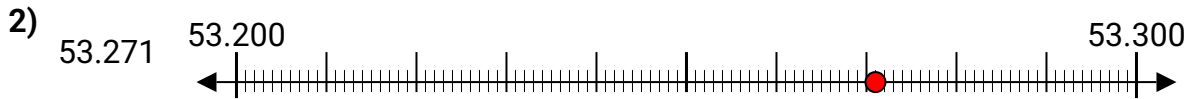
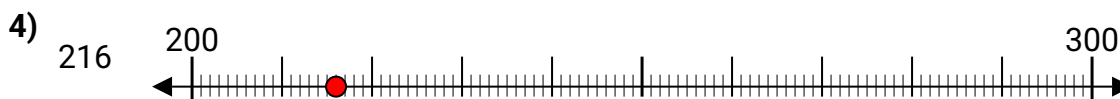
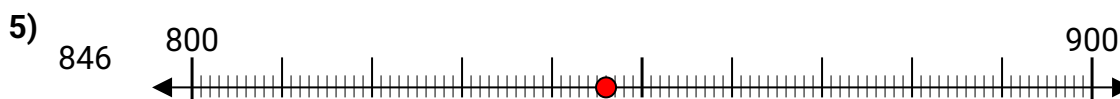

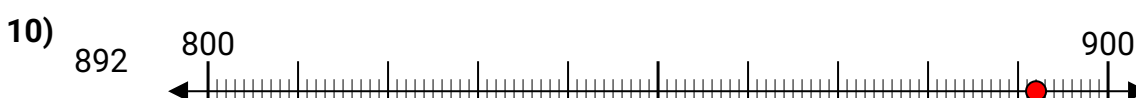
892



10. _____



Benutze den Zahlenstrahl um jede Zahl auf das nächste Hundert zu runden.

AntwortenBsp. 28.4001. 8.2002. 53.3003. 6.6004. 2005. 8006. 3.3007. 40.7008. 78.2009. 20010. 900