

**Benutze den doppelten Zahlenstrahl und löse jede Aufgabe.****Antworten**

- |    |   |  |                                  |
|----|---|--|----------------------------------|
| 1) | Ein Builder könnte 2 Sheetrock für \$5 erhalten. Wenn er 14-Blätter gekauft hätte, wie viel Geld hätte er ausgegeben?   | Blech<br>←————→<br>Preis<br>←————→       | 1. _____<br>2. _____             |
| 2) | Ein Kino gab 9 Tassen Öl für jede 4 Charge Popcorn, die es herstellte. Wie viel Öl hätten sie verwendet, nachdem sie 36 Popcorn-Chargen hergestellt hatten?             | Popcorn<br>←————→<br>Öl<br>←————→        | 3. _____<br>4. _____<br>5. _____ |
| 3) | Auf ihrem MP3-Player hatte sie für jeden 2-Pop-Song Katharina auch 3-Country-Song. Wenn sie 14 Popsongs auf ihrem MP3-Player hat, wie viele Country-Songs hat sie dann? | Pop<br>←————→<br>Land<br>←————→          | 6. _____<br>7. _____             |
| 4) | Ein schlampiges Joe-Restaurant gab 3 Servietten für jeden bestellten 7 Artikel. Wenn jemand 63-Artikel gekauft hat, wie viele Servietten sollte er bekommen?            | Artikel<br>←————→<br>ervietten<br>←————→ | 8. _____                         |
| 5) | In einem Videospiel hast du für jeden besiegten 2 Gegner 3 Punkte verdient. Wenn du 8-Feinde besiegt hättest, wie viele Punkte hättest du verdient?                     | Feinde<br>←————→<br>Punkte<br>←————→     |                                  |
| 6) | Eine Schachtel Süßigkeiten enthielt 9 Kirschstücke für 6 Zitronenstücke. Wenn die Schachtel 60 Zitronenstücke hätte, wie viele Kirschstücke wären es?                   | Zitrone<br>←————→<br>Kirsche<br>←————→   |                                  |
| 7) | Ein Rezept fordert 9 Teelöffel Gewürze für jede 5 Charge Hühnchen. Wenn Sie 45 Hähnchenchargen haben, wie viele Teelöffel Gewürz benötigen Sie dann?                    | hähnchen<br>←————→<br>Würze<br>←————→    |                                  |
| 8) | Für jede 2 Dosen, die Finn zum Recycling gesammelt hat, hat er 5 Cent verdient. Wie viel Geld hätte er verdient, nachdem er 20 Dosen gesammelt hatte?                   | Büchsen<br>←————→<br>Geld<br>←————→      |                                  |

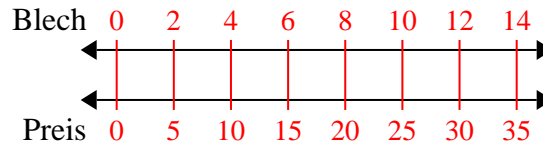


Benutze den doppelten Zahlenstrahl und löse jede Aufgabe.

**Antworten**

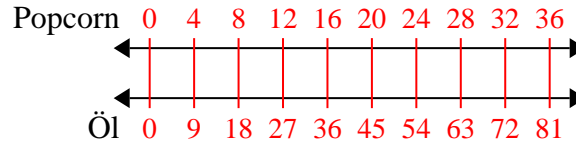
1)

Ein Builder könnte 2 Sheetrock für \$5 erhalten. Wenn er 14-Blätter gekauft hätte, wie viel Geld hätte er ausgegeben?

1. **35**

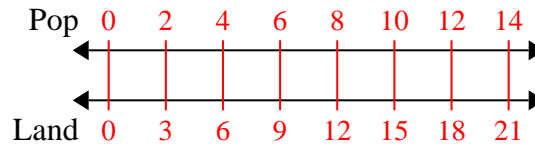
2)

Ein Kino gab 9 Tassen Öl für jede 4 Charge Popcorn, die es herstellte. Wie viel Öl hätten sie verwendet, nachdem sie 36 Popcorn-Chargen hergestellt hatten?

3. **21**

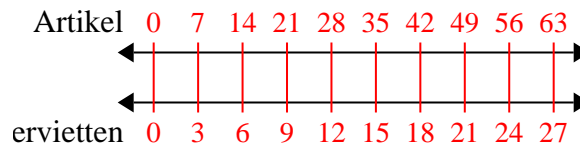
3)

Auf ihrem MP3-Player hatte sie für jeden 2-Pop-Song Katharina auch 3-Country-Song. Wenn sie 14 Popsongs auf ihrem MP3-Player hat, wie viele Country-Songs hat sie dann?

4. **27**

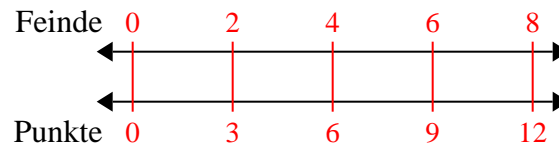
4)

Ein schlampiges Joe-Restaurant gab 3 Servietten für jeden bestellten 7 Artikel. Wenn jemand 63-Artikel gekauft hat, wie viele Servietten sollte er bekommen?

5. **12**

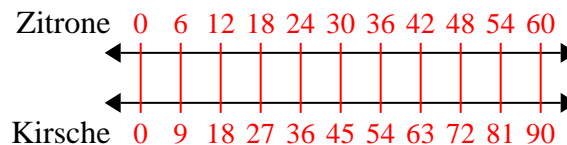
5)

In einem Videospiel hast du für jeden besiegten 2 Gegner 3 Punkte verdient. Wenn du 8-Feinde besiegt hättest, wie viele Punkte hättest du verdient?

6. **90**

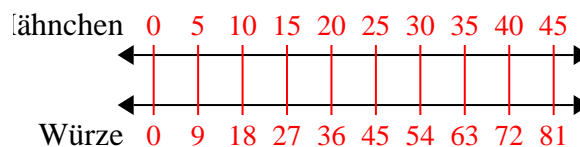
6)

Eine Schachtel Süßigkeiten enthielt 9 Kirschstücke für 6 Zitronenstücke. Wenn die Schachtel 60 Zitronenstücke hätte, wie viele Kirschstücke wären es?

7. **81**

7)

Ein Rezept fordert 9 Teelöffel Gewürze für jede 5 Charge Hähnchen. Wenn Sie 45 Hähnchenchargen haben, wie viele Teelöffel Gewürz benötigen Sie dann?

8. **50**

8)

Für jede 2 Dosen, die Finn zum Recycling gesammelt hat, hat er 5 Cent verdient. Wie viel Geld hätte er verdient, nachdem er 20 Dosen gesammelt hatte?

