

**Benutze den doppelten Zahlenstrahl und löse jede Aufgabe.****Antworten**

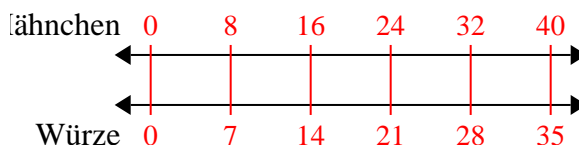
- |    |   |   |                                  |
|----|---|---|----------------------------------|
| 1) | Ein Rezept fordert 7 Teelöffel Gewürze für jede 8 Charge Hähnchen. Wenn Sie 40 Hähnchenchargen haben, wie viele Teelöffel Gewürz benötigen Sie dann?                  | Hähnchen<br>←————→<br>Würze<br>←————→     | 1. _____<br>2. _____             |
| 2) | In einem Videospiel hast du für jeden besiegten 6 Gegner 8 Punkte verdient. Wenn du 24-Feinde besiegt hättest, wie viele Punkte hättest du verdient?                  | Feinde<br>←————→<br>Punkte<br>←————→      | 3. _____<br>4. _____<br>5. _____ |
| 3) | In einem Geschäft gab es einen Sale, bei dem Sie 8 Tüten Cashewnüsse für 3 \$ erhalten konnten. Wenn Sie 56-Taschen kaufen möchten, wie viel würde das kosten?        | Nüsse<br>←————→<br>Preis<br>←————→        | 6. _____<br>7. _____             |
| 4) | Ein schlampiges Joe-Restaurant gab 3 Servietten für jeden bestellten 10 Artikel. Wenn jemand 50-Artikel gekauft hat, wie viele Servietten sollte er bekommen?         | Artikel<br>←————→<br>Servietten<br>←————→ | 8. _____                         |
| 5) | Für jede 4 Dosen, die Justin zum Recycling gesammelt hat, hat er 5 Cent verdient. Wie viel Geld hätte er verdient, nachdem er 16 Dosen gesammelt hatte?               | Dosen<br>←————→<br>Geld<br>←————→         |                                  |
| 6) | Ein Builder könnte 9 Sheetrock für \$8 erhalten. Wenn er 81-Blätter gekauft hätte, wie viel Geld hätte er ausgegeben?   | Blech<br>←————→<br>Preis<br>←————→        |                                  |
| 7) | Eine Schachtel Süßigkeiten enthielt 8 Kirschstücke für 9 Zitronenstücke. Wenn die Schachtel 90 Zitronenstücke hätte, wie viele Kirschstücke wären es?                 | Zitrone<br>←————→<br>Kirsche<br>←————→    |                                  |
| 8) | Auf ihrem MP3-Player hatte sie für jeden 10-Pop-Song Annika auch 2-Country-Song. Wenn sie 80 Popsongs auf ihrem MP3-Player hat, wie viele Country-Songs hat sie dann? | Pop<br>←————→<br>Land<br>←————→           |                                  |



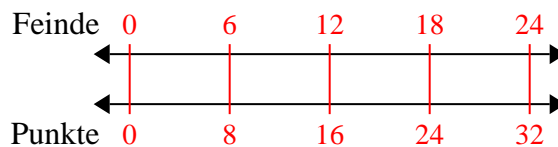
Benutze den doppelten Zahlenstrahl und löse jede Aufgabe.

**Antworten**

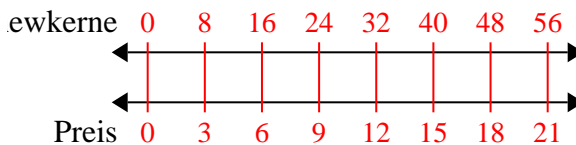
- 1) Ein Rezept fordert 7 Teelöffel Gewürze für jede 8 Charge Hühnchen. Wenn Sie 40 Hühnchenchargen haben, wie viele Teelöffel Gewürz benötigen Sie dann?

1. **35**

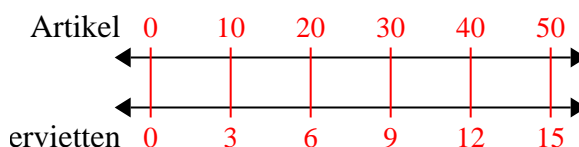
- 2) In einem Videospiel hast du für jeden besiegten 6 Gegner 8 Punkte verdient. Wenn du 24-Feinde besiegt hättest, wie viele Punkte hättest du verdient?

3. **21**

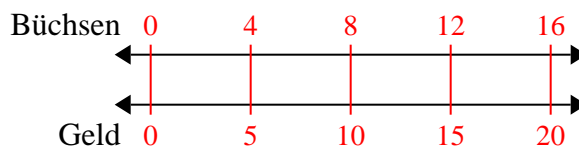
- 3) In einem Geschäft gab es einen Sale, bei dem Sie 8 Tüten Cashewnüsse für 3 \$ erhalten konnten. Wenn Sie 56-Taschen kaufen möchten, wie viel würde das kosten?

6. **72**

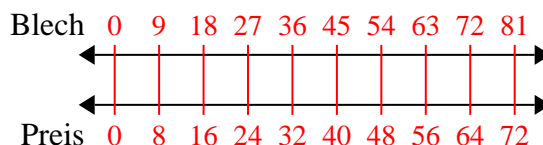
- 4) Ein schlampiges Joe-Restaurant gab 3 Servietten für jeden bestellten 10 Artikel. Wenn jemand 50-Artikel gekauft hat, wie viele Servietten sollte er bekommen?

8. **16**

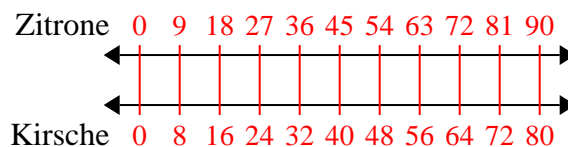
- 5) Für jede 4 Dosen, die Justin zum Recycling gesammelt hat, hat er 5 Cent verdient. Wie viel Geld hätte er verdient, nachdem er 16 Dosen gesammelt hatte?



- 6) Ein Builder könnte 9 Sheetrock für \$8 erhalten. Wenn er 81-Blätter gekauft hätte, wie viel Geld hätte er ausgegeben?



- 7) Eine Schachtel Süßigkeiten enthielt 8 Kirschstücke für 9 Zitronenstücke. Wenn die Schachtel 90 Zitronenstücke hätte, wie viele Kirschstücke wären es?



- 8) Auf ihrem MP3-Player hatte sie für jeden 10-Pop-Song Annika auch 2-Country-Song. Wenn sie 80 Popsongs auf ihrem MP3-Player hat, wie viele Country-Songs hat sie dann?

