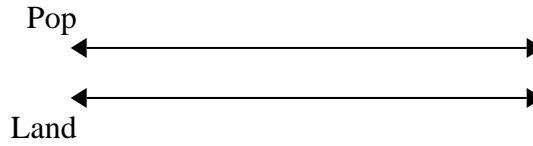




Benutze den doppelten Zahlenstrahl und löse jede Aufgabe.

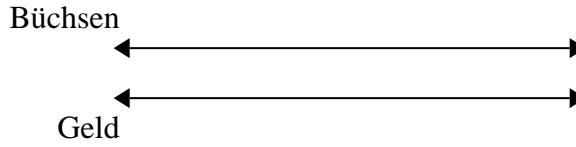
Antworten

1) Auf ihrem MP3-Player hatte sie für jeden 5-Pop-Song Marie auch 6-Country-Song. Wenn sie 40 Popsongs auf ihrem MP3-Player hat, wie viele Country-Songs hat sie dann?



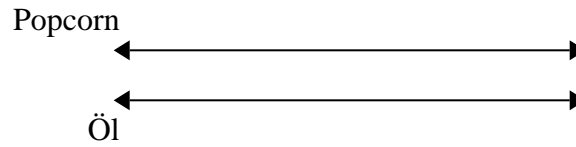
1. _____
2. _____

2) Für jede 2 Dosen, die Florian zum Recycling gesammelt hat, hat er 7 Cent verdient. Wie viel Geld hätte er verdient, nachdem er 10 Dosen gesammelt hatte?




3. _____
4. _____
5. _____

3) Ein Kino gab 3 Tassen Öl für jede 7 Charge Popcorn, die es herstellte. Wie viel Öl hätten sie verwendet, nachdem sie 14 Popcorn-Chargen hergestellt hatten?



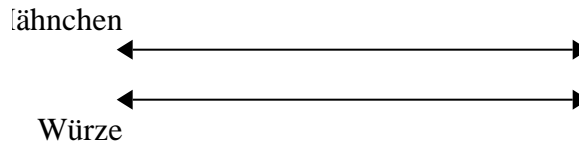
6. _____
7. _____

4) Das Verhältnis von Jungen zu Mädchen im Park betrug 6 zu 7. Wenn es 24 Jungen gab, wie viele Mädchen waren es?




8. _____

5) Ein Rezept fordert 10 Teelöffel Gewürze für jede 5 Charge Hühnchen. Wenn Sie 50 Hähnchenchargen haben, wie viele Teelöffel Gewürz benötigen Sie dann?



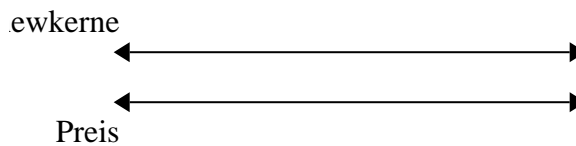
6) Ein Builder könnte 4 Sheetrock für \$2 erhalten. Wenn er 12-Blätter gekauft hätte, wie viel Geld hätte er ausgegeben?



7) Eine Schachtel Süßigkeiten enthielt 7 Kirschstücke für 8 Zitronenstücke. Wenn die Schachtel 72 Zitronenstücke hätte, wie viele Kirschstücke wären es?



8) In einem Geschäft gab es einen Sale, bei dem Sie 9 Tüten Cashewnüsse für 10 \$ erhalten konnten. Wenn Sie 27-Taschen kaufen möchten, wie viel würde das kosten?

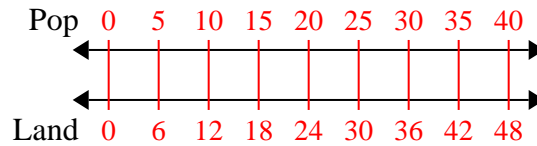




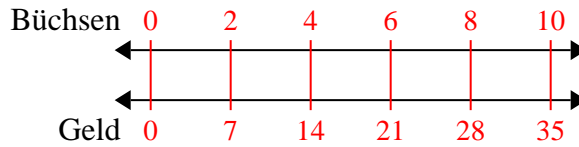
Benutze den doppelten Zahlenstrahl und löse jede Aufgabe.

Antworten

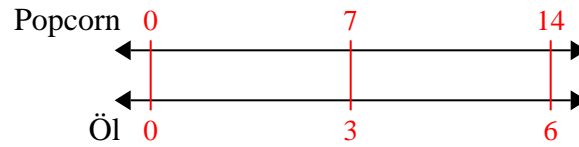
- 1) Auf ihrem MP3-Player hatte sie für jeden 5-Pop-Song Marie auch 6-Country-Song. Wenn sie 40 Popsongs auf ihrem MP3-Player hat, wie viele Country-Songs hat sie dann?

1. **48**

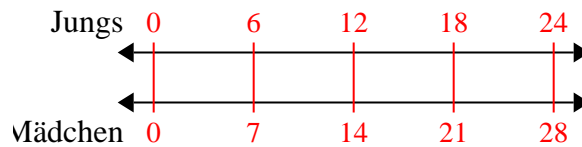
- 2) Für jede 2 Dosen, die Florian zum Recycling gesammelt hat, hat er 7 Cent verdient. Wie viel Geld hätte er verdient, nachdem er 10 Dosen gesammelt hatte?

2. **35**

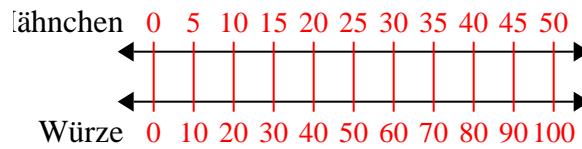
- 3) Ein Kino gab 3 Tassen Öl für jede 7 Charge Popcorn, die es herstellte. Wie viel Öl hätten sie verwendet, nachdem sie 14 Popcorn-Chargen hergestellt hatten?

3. **6**

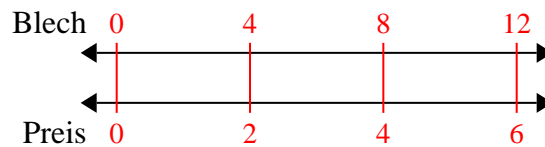
- 4) Das Verhältnis von Jungen zu Mädchen im Park betrug 6 zu 7. Wenn es 24 Jungen gab, wie viele Mädchen waren es?

4. **28**

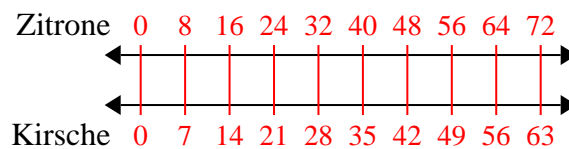
- 5) Ein Rezept fordert 10 Teelöffel Gewürze für jede 5 Charge Hühnchen. Wenn Sie 50 Hähnchenchargen haben, wie viele Teelöffel Gewürz benötigen Sie dann?

5. **100**

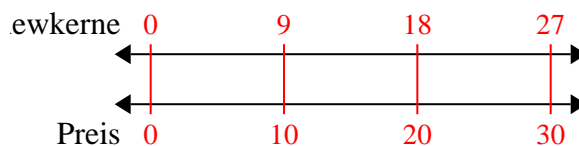
- 6) Ein Builder könnte 4 Sheetrock für \$2 erhalten. Wenn er 12-Blätter gekauft hätte, wie viel Geld hätte er ausgegeben?

6. **6**

- 7) Eine Schachtel Süßigkeiten enthielt 7 Kirschstücke für 8 Zitronenstücke. Wenn die Schachtel 72 Zitronenstücke hätte, wie viele Kirschstücke wären es?

7. **63**

- 8) In einem Geschäft gab es einen Sale, bei dem Sie 9 Tüten Cashewnüsse für 10 \$ erhalten konnten. Wenn Sie 27-Taschen kaufen möchten, wie viel würde das kosten?

8. **30**