



Löse jede Aufgabe.

Antworten

Bsp) Was ist das Verhältnis von moons zu Sterne?




Bsp. **6:2**

1) Was ist das Verhältnis von Kreise zu Dreiecke?




1. _____

2) Was ist das Verhältnis von hearts zu Dreiecke?



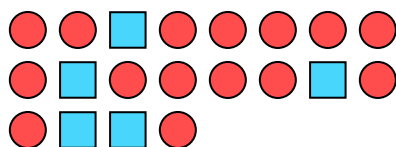
2. _____

3) Was ist das Verhältnis von Rechtecke zu Sterne?




3. _____

4) Was ist das Verhältnis von Kreise zu Rechtecke?



4. _____

5) Was ist das Verhältnis von Dreiecke zu hearts?



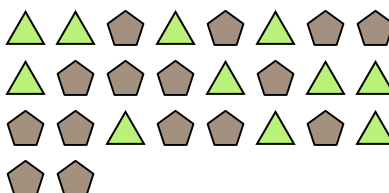
5. _____

6) Was ist das Verhältnis von moons zu Sterne?



6. _____

7) Was ist das Verhältnis von Dreiecke zu Fünfecke?



7. _____

8) Was ist das Verhältnis von hearts zu Sterne?



8. _____

9) Was ist das Verhältnis von hearts zu Sterne?



9. _____

10) Was ist das Verhältnis von Sterne zu hearts?



10. _____

11) Was ist das Verhältnis von Dreiecke zu Sterne?



11. _____

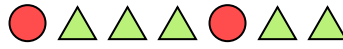


Löse jede Aufgabe.

Bsp) Was ist das Verhältnis von moons zu Sterne?




1) Was ist das Verhältnis von Kreise zu Dreiecke?




Antworten

Bsp. 6:2

2) Was ist das Verhältnis von hearts zu Dreiecke?

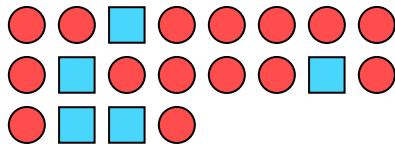


3) Was ist das Verhältnis von Rechtecke zu Sterne?




1. 2:5

4) Was ist das Verhältnis von Kreise zu Rechtecke?



5) Was ist das Verhältnis von Dreiecke zu hearts?

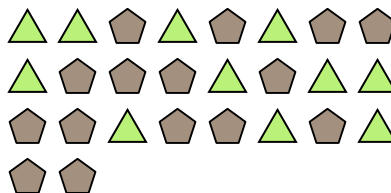


2. 9:8

6) Was ist das Verhältnis von moons zu Sterne?



7) Was ist das Verhältnis von Dreiecke zu Fünfecke?



3. 14:7

8) Was ist das Verhältnis von hearts zu Sterne?



9) Was ist das Verhältnis von hearts zu Sterne?



4. 15:5

10) Was ist das Verhältnis von Sterne zu hearts?



11) Was ist das Verhältnis von Dreiecke zu Sterne?



5. 12:8

6. 11:10

7. 11:15

8. 9:7

9. 2:5

10. 2:4

11. 11:12