




Löse jede Aufgabe.

**Antworten**

Bsp) Was ist das Verhältnis von Sterne zu Fünfecke?



Bsp. **15:10**

1) Was ist das Verhältnis von Fünfecke zu Sterne?



1. \_\_\_\_\_

2) Was ist das Verhältnis von hearts zu Rechtecke?




2. \_\_\_\_\_

3) Was ist das Verhältnis von Fünfecke zu Sterne?



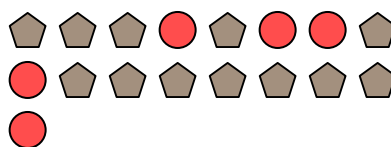
3. \_\_\_\_\_

4) Was ist das Verhältnis von Sterne zu Kreise?




4. \_\_\_\_\_

5) Was ist das Verhältnis von Kreise zu Fünfecke?



5. \_\_\_\_\_

6) Was ist das Verhältnis von Fünfecke zu hearts?



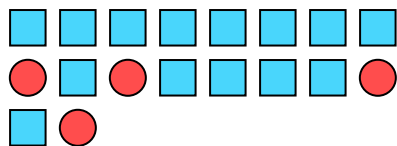
6. \_\_\_\_\_

7) Was ist das Verhältnis von Dreiecke zu Fünfecke?



7. \_\_\_\_\_

8) Was ist das Verhältnis von Rechtecke zu Kreise?



8. \_\_\_\_\_

9) Was ist das Verhältnis von Sterne zu Fünfecke?



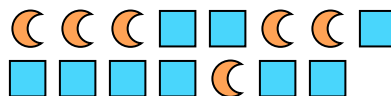
9. \_\_\_\_\_

10) Was ist das Verhältnis von moons zu hearts?



10. \_\_\_\_\_

11) Was ist das Verhältnis von moons zu Rechtecke?




11. \_\_\_\_\_



Löse jede Aufgabe.

Bsp) Was ist das Verhältnis von Sterne zu Fünfecke?



1) Was ist das Verhältnis von Fünfecke zu Sterne?



**Antworten**

Bsp. 15:10

2) Was ist das Verhältnis von hearts zu Rechtecke?




3) Was ist das Verhältnis von Fünfecke zu Sterne?

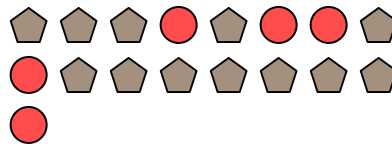


1. 8:12

4) Was ist das Verhältnis von Sterne zu Kreise?




5) Was ist das Verhältnis von Kreise zu Fünfecke?

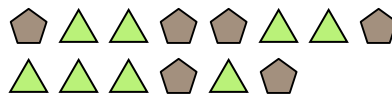


2. 10:2

6) Was ist das Verhältnis von Fünfecke zu hearts?

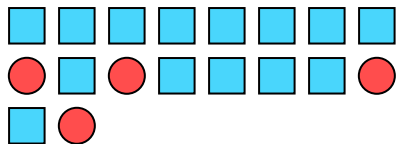


7) Was ist das Verhältnis von Dreiecke zu Fünfecke?



3. 11:5

8) Was ist das Verhältnis von Rechtecke zu Kreise?



9) Was ist das Verhältnis von Sterne zu Fünfecke?

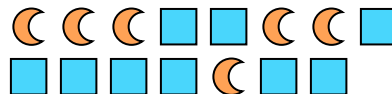


4. 3:10

10) Was ist das Verhältnis von moons zu hearts?



11) Was ist das Verhältnis von moons zu Rechtecke?



5. 5:12

6. 14:15

7. 8:6

8. 14:4

9. 7:5

10. 8:5

11. 6:9