



Löse jede Aufgabe.

Antworten

Bsp) Was ist das Verhältnis von moons zu hearts?



1) Was ist das Verhältnis von Sterne zu hearts?



Bsp. **15:7**

1. _____

2. _____

3. _____

4. _____

5. _____

6. _____

7. _____

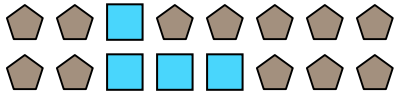
8. _____

9. _____


10. _____

11. _____


2) Was ist das Verhältnis von Rechtecke zu Fünfecke?




3) Was ist das Verhältnis von hearts zu Rechtecke?



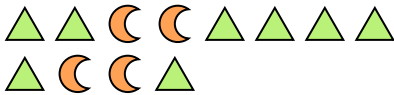
4) Was ist das Verhältnis von Sterne zu Kreise?



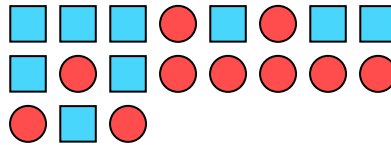
5) Was ist das Verhältnis von hearts zu moons?



6) Was ist das Verhältnis von moons zu Dreiecke?



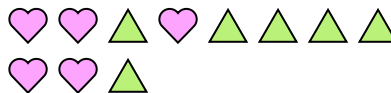
7) Was ist das Verhältnis von Rechtecke zu Kreise?



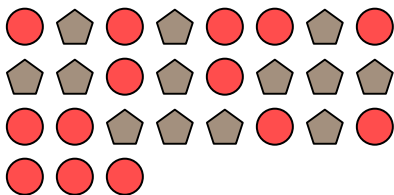
8) Was ist das Verhältnis von Sterne zu hearts?




9) Was ist das Verhältnis von Dreiecke zu hearts?



10) Was ist das Verhältnis von Kreise zu Fünfecke?



11) Was ist das Verhältnis von Sterne zu Rechtecke?





Löse jede Aufgabe.

Antworten

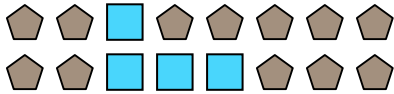
Bsp) Was ist das Verhältnis von moons zu hearts?




1) Was ist das Verhältnis von Sterne zu hearts?

Bsp. 15:71. 3:102. 4:123. 6:34. 2:155. 9:106. 4:87. 9:108. 2:89. 6:510. 14:1311. 7:10


2) Was ist das Verhältnis von Rechtecke zu Fünfecke?




3) Was ist das Verhältnis von hearts zu Rechtecke?



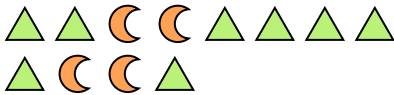
4) Was ist das Verhältnis von Sterne zu Kreise?



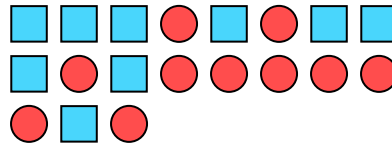
5) Was ist das Verhältnis von hearts zu moons?



6) Was ist das Verhältnis von moons zu Dreiecke?



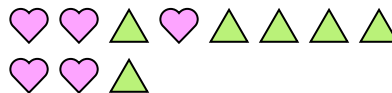
7) Was ist das Verhältnis von Rechtecke zu Kreise?



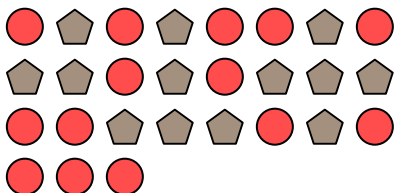
8) Was ist das Verhältnis von Sterne zu hearts?



9) Was ist das Verhältnis von Dreiecke zu hearts?



10) Was ist das Verhältnis von Kreise zu Fünfecke?



11) Was ist das Verhältnis von Sterne zu Rechtecke?

