




Löse jede Aufgabe.

**Antworten**

Bsp) Was ist das Verhältnis von moons zu Sterne?



1) Was ist das Verhältnis von moons zu Dreiecke?



Bsp. **5:10**

1. \_\_\_\_\_

2. \_\_\_\_\_

3. \_\_\_\_\_

4. \_\_\_\_\_

5. \_\_\_\_\_

6. \_\_\_\_\_

7. \_\_\_\_\_


8. \_\_\_\_\_

9. \_\_\_\_\_


10. \_\_\_\_\_

11. \_\_\_\_\_

2) Was ist das Verhältnis von hearts zu Rechtecke?




3) Was ist das Verhältnis von Dreiecke zu hearts?




4) Was ist das Verhältnis von Sterne zu hearts?



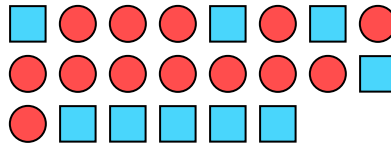
5) Was ist das Verhältnis von Sterne zu Dreiecke?



6) Was ist das Verhältnis von Fünfecke zu moons?



7) Was ist das Verhältnis von Kreise zu Rechtecke?



8) Was ist das Verhältnis von Sterne zu Fünfecke?




9) Was ist das Verhältnis von Dreiecke zu Sterne?



10) Was ist das Verhältnis von Sterne zu Kreise?



11) Was ist das Verhältnis von Sterne zu hearts?






Löse jede Aufgabe.

**Antworten**


Bsp) Was ist das Verhältnis von moons zu Sterne?




1) Was ist das Verhältnis von moons zu Dreiecke?

Bsp. 5:101. 14:132. 11:73. 14:154. 8:35. 2:36. 4:57. 13:98. 15:79. 10:810. 2:411. 2:11

2) Was ist das Verhältnis von hearts zu Rechtecke?




3) Was ist das Verhältnis von Dreiecke zu hearts?



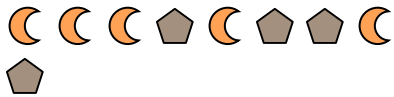
4) Was ist das Verhältnis von Sterne zu hearts?



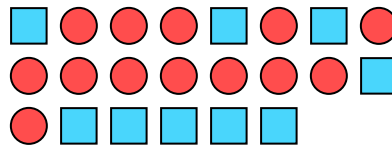
5) Was ist das Verhältnis von Sterne zu Dreiecke?



6) Was ist das Verhältnis von Fünfecke zu moons?




7) Was ist das Verhältnis von Kreise zu Rechtecke?



8) Was ist das Verhältnis von Sterne zu Fünfecke?



9) Was ist das Verhältnis von Dreiecke zu Sterne?



10) Was ist das Verhältnis von Sterne zu Kreise?



11) Was ist das Verhältnis von Sterne zu hearts?

