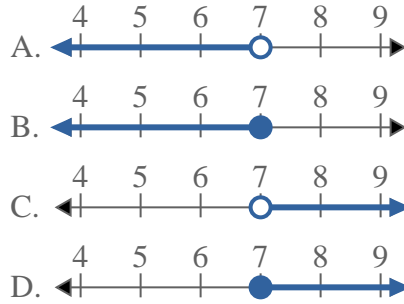
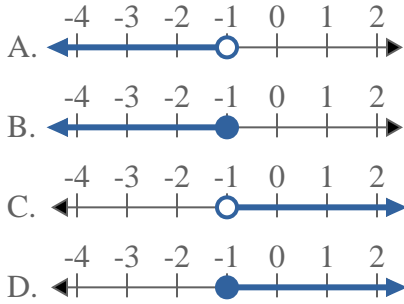




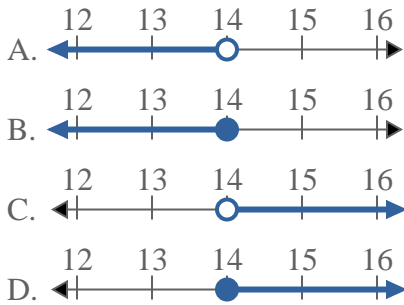
Löse jede Aufgabe.

Antworten

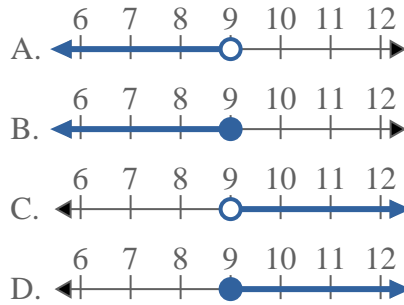
- 1) Bestimme, welche Möglichkeit $X \geq -1$ anzeigt. 2) Bestimme, welche Möglichkeit $X \leq 7$ anzeigt.



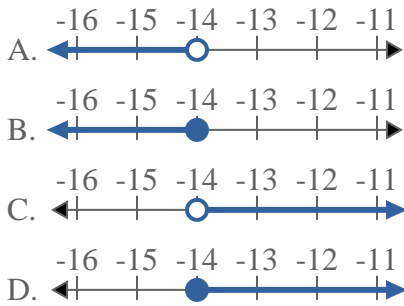
- 3) Bestimme, welche Möglichkeit $X > 14$ anzeigt.



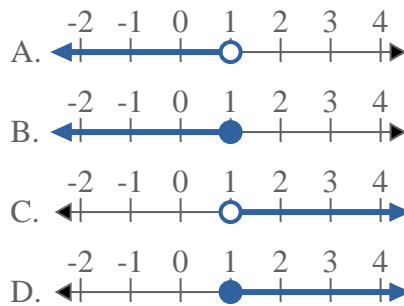
- 4) Bestimme, welche Möglichkeit $X > 9$ anzeigt.



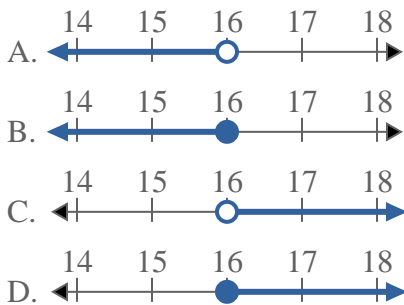
- 5) Bestimme, welche Möglichkeit $X < -14$ anzeigt.



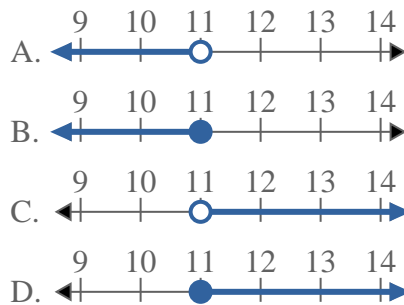
- 6) Bestimme, welche Möglichkeit $X \geq 1$ anzeigt.



- 7) Bestimme, welche Möglichkeit $X \leq 16$ anzeigt.



- 8) Bestimme, welche Möglichkeit $X \leq 11$ anzeigt.



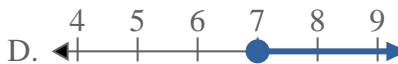
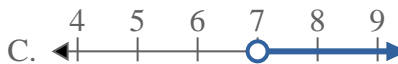
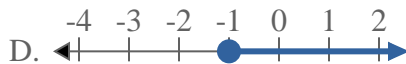
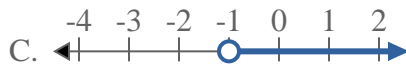
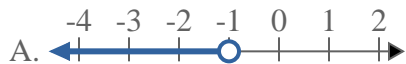
1. _____
2. _____
3. _____
4. _____
5. _____
6. _____
7. _____
8. _____



Löse jede Aufgabe.

Antworten

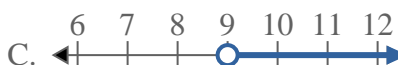
- 1) Bestimme, welche Möglichkeit $X \geq -1$ anzeigt. 2) Bestimme, welche Möglichkeit $X \leq 7$ anzeigt.



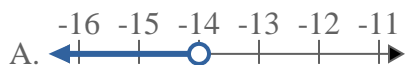
- 3) Bestimme, welche Möglichkeit $X > 14$ anzeigt.



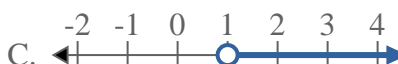
- 4) Bestimme, welche Möglichkeit $X > 9$ anzeigt.




- 5) Bestimme, welche Möglichkeit $X < -14$ anzeigt.



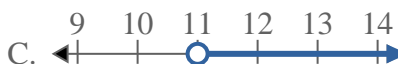
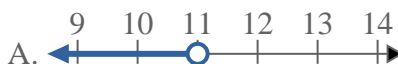
- 6) Bestimme, welche Möglichkeit $X \geq 1$ anzeigt.



- 7) Bestimme, welche Möglichkeit $X \leq 16$ anzeigt.



- 8) Bestimme, welche Möglichkeit $X \leq 11$ anzeigt.



1. **D**

2. **B**

3. **C**

4. **C**

5. **A**

6. **D**

7. **B**

8. **B**