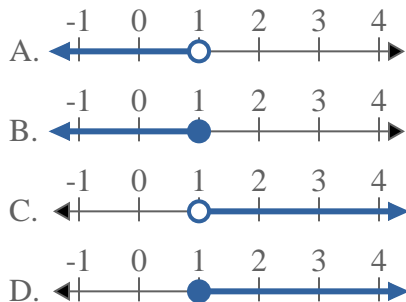




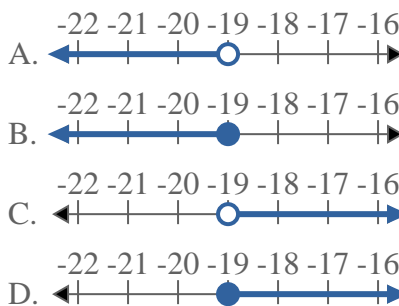
Löse jede Aufgabe.

**Antworten**

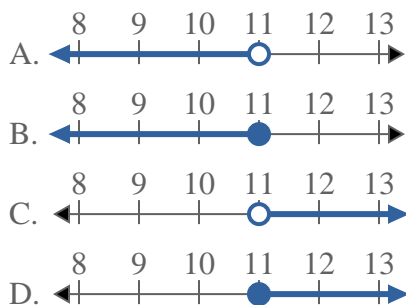
1) Bestimme, welche Möglichkeit  $X \leq 1$  anzeigt.



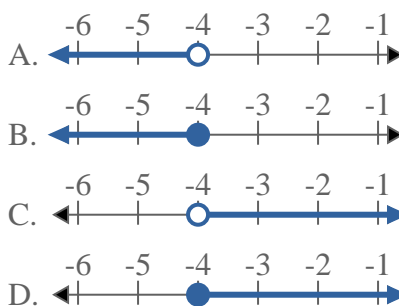
2) Bestimme, welche Möglichkeit  $X < -19$  anzeigt.



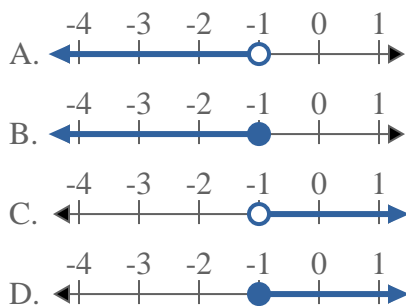
3) Bestimme, welche Möglichkeit  $X \geq 11$  anzeigt.



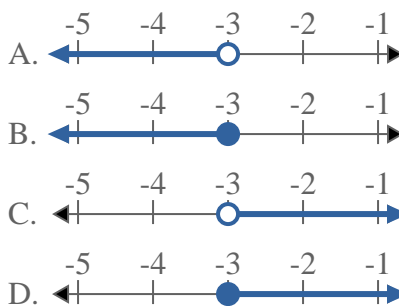
4) Bestimme, welche Möglichkeit  $X \geq -4$  anzeigt.



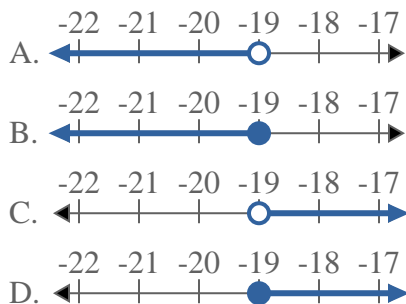
5) Bestimme, welche Möglichkeit  $X \geq -1$  anzeigt.



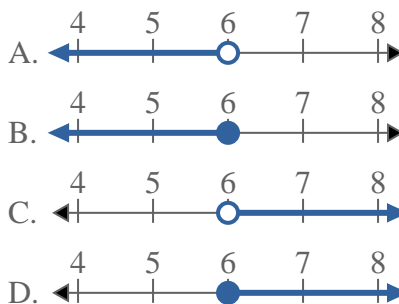
6) Bestimme, welche Möglichkeit  $X \leq -3$  anzeigt.



7) Bestimme, welche Möglichkeit  $X > -19$  anzeigt.



8) Bestimme, welche Möglichkeit  $X > 6$  anzeigt.



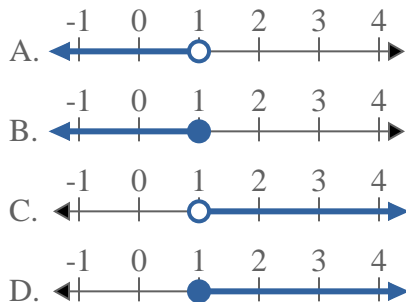
- 1. \_\_\_\_\_
- 2. \_\_\_\_\_
- 3. \_\_\_\_\_
- 4. \_\_\_\_\_
- 5. \_\_\_\_\_
- 6. \_\_\_\_\_
- 7. \_\_\_\_\_
- 8. \_\_\_\_\_



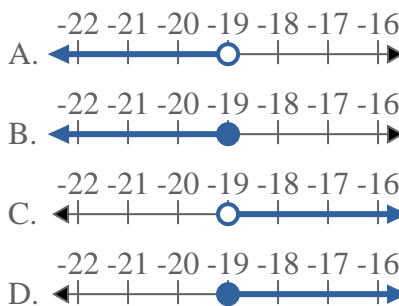
Löse jede Aufgabe.

**Antworten**

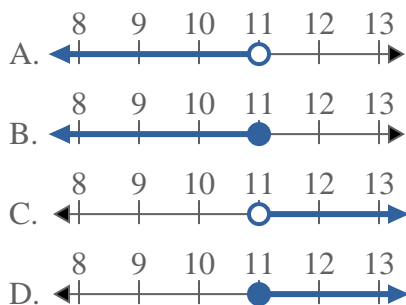
1) Bestimme, welche Möglichkeit  $X \leq 1$  anzeigt.



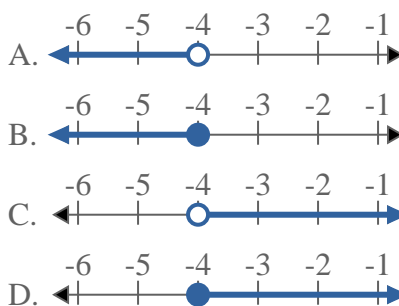
2) Bestimme, welche Möglichkeit  $X < -19$  anzeigt.



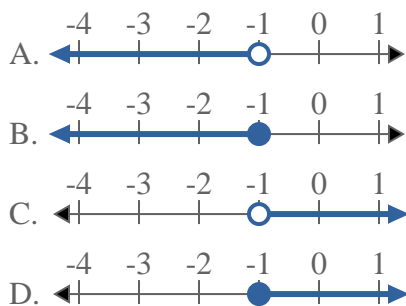
3) Bestimme, welche Möglichkeit  $X \geq 11$  anzeigt.



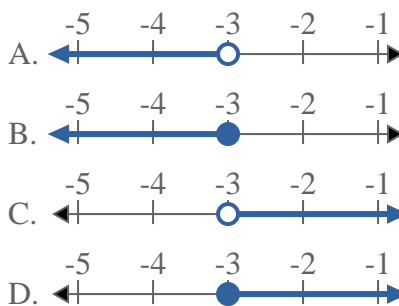
4) Bestimme, welche Möglichkeit  $X \geq -4$  anzeigt.



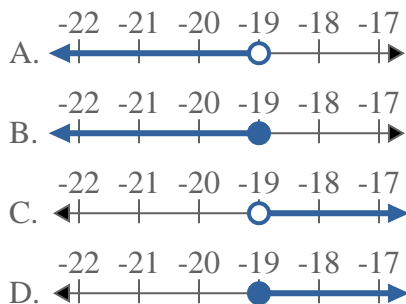
5) Bestimme, welche Möglichkeit  $X \geq -1$  anzeigt.



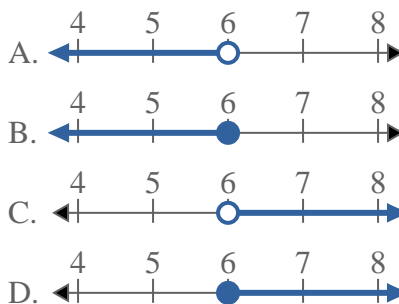
6) Bestimme, welche Möglichkeit  $X \leq -3$  anzeigt.



7) Bestimme, welche Möglichkeit  $X > -19$  anzeigt.



8) Bestimme, welche Möglichkeit  $X > 6$  anzeigt.



- 1. **B**
- 2. **A**
- 3. **D**
- 4. **D**
- 5. **D**
- 6. **B**
- 7. **C**
- 8. **C**