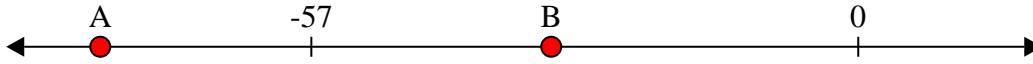




Löse jede Aufgabe.


Antworten

- 1) Welcher Buchstabe zeigt die korrekte Lage von -32




1. _____

- 2) Welcher Buchstabe zeigt die korrekte Lage von -114




2. _____

- 3) Welcher Buchstabe zeigt die korrekte Lage von -117




3. _____

- 4) Welcher Buchstabe zeigt die korrekte Lage von -111




4. _____

- 5) Welcher Buchstabe zeigt die korrekte Lage von -33



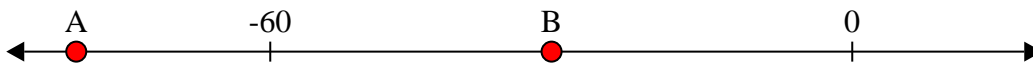
5. _____

- 6) Welcher Buchstabe zeigt die korrekte Lage von -29




6. _____

- 7) Welcher Buchstabe zeigt die korrekte Lage von -80



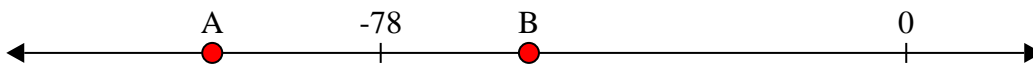
7. _____

- 8) Welcher Buchstabe zeigt die korrekte Lage von -86




8. _____

- 9) Welcher Buchstabe zeigt die korrekte Lage von -56



9. _____

- 10) Welcher Buchstabe zeigt die korrekte Lage von -24



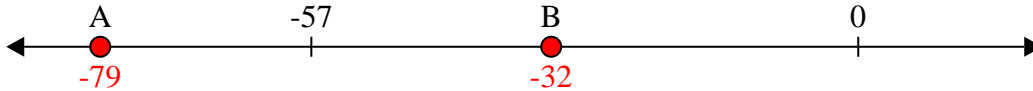
10. _____



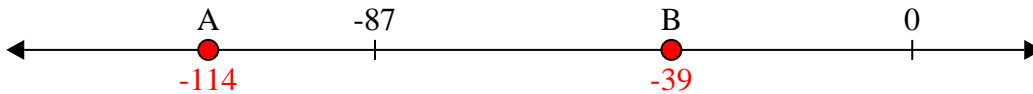
Löse jede Aufgabe.

Antworten

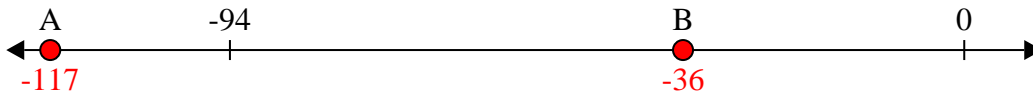
- 1) Welcher Buchstabe zeigt die korrekte Lage von -32

1. **B**

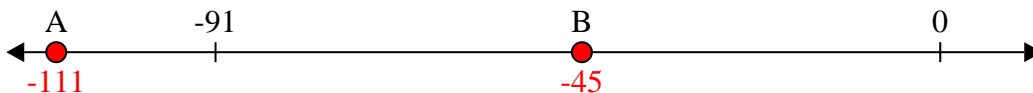
- 2) Welcher Buchstabe zeigt die korrekte Lage von -114

2. **A**


- 3) Welcher Buchstabe zeigt die korrekte Lage von -117

3. **A**


- 4) Welcher Buchstabe zeigt die korrekte Lage von -111

4. **A**

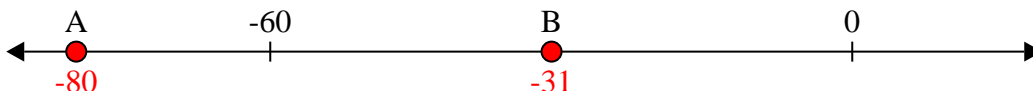
- 5) Welcher Buchstabe zeigt die korrekte Lage von -33

5. **B**


- 6) Welcher Buchstabe zeigt die korrekte Lage von -29

6. **B**

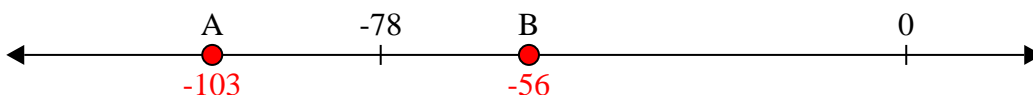
- 7) Welcher Buchstabe zeigt die korrekte Lage von -80

7. **A**


- 8) Welcher Buchstabe zeigt die korrekte Lage von -86

8. **A**

- 9) Welcher Buchstabe zeigt die korrekte Lage von -56

9. **B**

- 10) Welcher Buchstabe zeigt die korrekte Lage von -24

10. **B**