




Löse jede Aufgabe.


**Antworten**

1) Welcher Buchstabe zeigt die korrekte Lage von -28



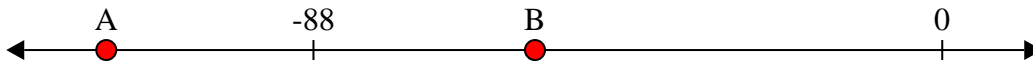
1. \_\_\_\_\_

2) Welcher Buchstabe zeigt die korrekte Lage von -26



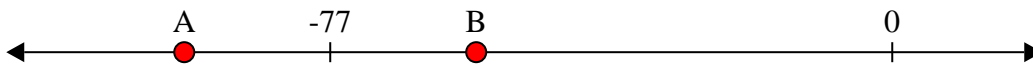
2. \_\_\_\_\_

3) Welcher Buchstabe zeigt die korrekte Lage von -117



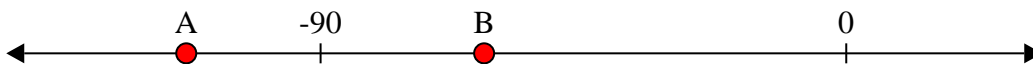
3. \_\_\_\_\_

4) Welcher Buchstabe zeigt die korrekte Lage von -97



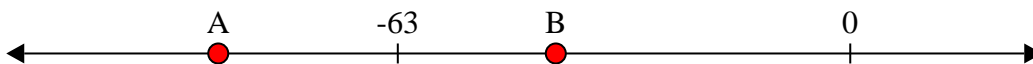
4. \_\_\_\_\_

5) Welcher Buchstabe zeigt die korrekte Lage von -113




5. \_\_\_\_\_

6) Welcher Buchstabe zeigt die korrekte Lage von -88




6. \_\_\_\_\_

7) Welcher Buchstabe zeigt die korrekte Lage von -22




7. \_\_\_\_\_

8) Welcher Buchstabe zeigt die korrekte Lage von -25




8. \_\_\_\_\_

9) Welcher Buchstabe zeigt die korrekte Lage von -82



9. \_\_\_\_\_

10) Welcher Buchstabe zeigt die korrekte Lage von -120



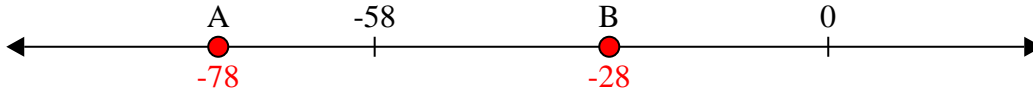
10. \_\_\_\_\_



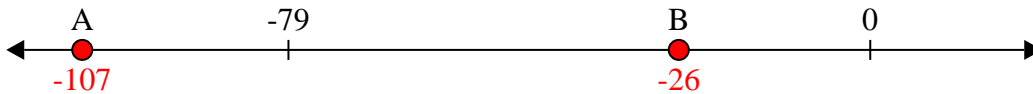
Löse jede Aufgabe.

**Antworten**

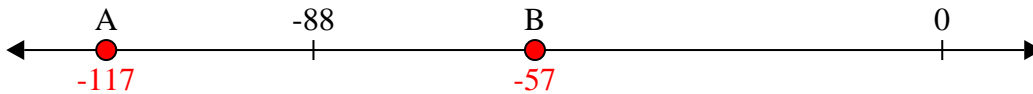
1) Welcher Buchstabe zeigt die korrekte Lage von -28

1.     **B**    

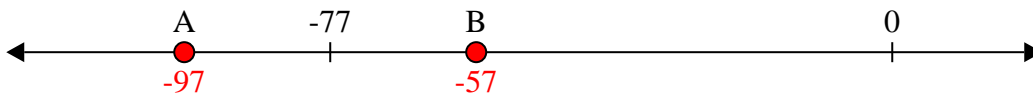
2) Welcher Buchstabe zeigt die korrekte Lage von -26

2.     **B**    

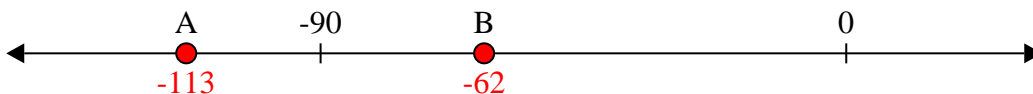
3) Welcher Buchstabe zeigt die korrekte Lage von -117

3.     **A**    

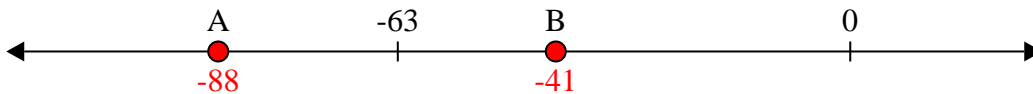
4) Welcher Buchstabe zeigt die korrekte Lage von -97

4.     **A**    


5) Welcher Buchstabe zeigt die korrekte Lage von -113

5.     **A**    


6) Welcher Buchstabe zeigt die korrekte Lage von -88

6.     **A**    


7) Welcher Buchstabe zeigt die korrekte Lage von -22

7.     **B**    


8) Welcher Buchstabe zeigt die korrekte Lage von -25

8.     **B**    

9) Welcher Buchstabe zeigt die korrekte Lage von -82

9.     **A**    

10) Welcher Buchstabe zeigt die korrekte Lage von -120

10.     **A**