



Benutze die vorgegebene Anordnung um jede Aufgabe zu lösen.

Antworten

1) $39 \cdot 30 =$

2) $28 \cdot 20 =$

1. _____

2. _____

3. _____

4. _____

5. _____

6. _____

3) $21 \cdot 20 =$

4) $27 \cdot 20 =$

5) $20 \cdot 28 =$

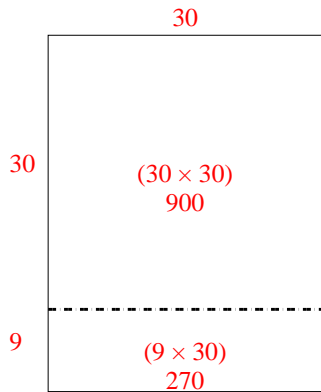
6) $20 \cdot 21 =$



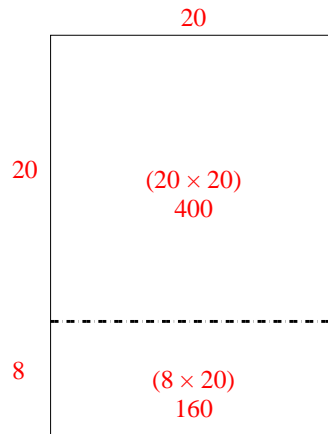
Benutze die vorgegebene Anordnung um jede Aufgabe zu lösen.

Antworten

1) $39 \cdot 30 =$



2) $28 \cdot 20 =$



1. 1.170

2. 560

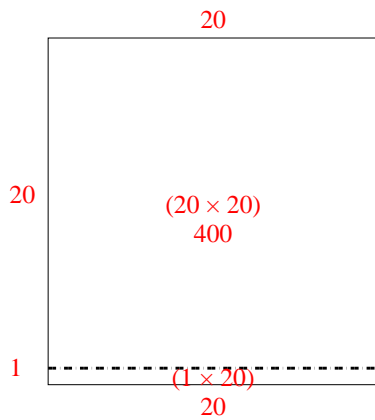
3. 420

4. 540

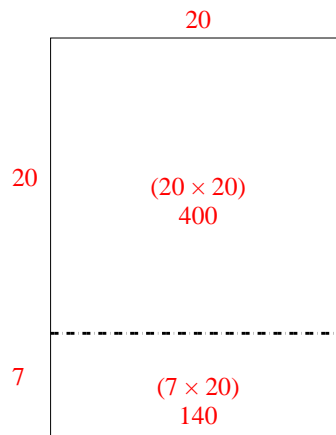
5. 560

6. 420

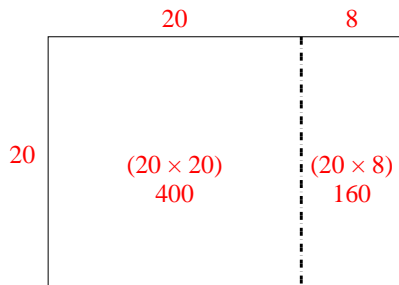
3) $21 \cdot 20 =$



4) $27 \cdot 20 =$



5) $20 \cdot 28 =$



6) $20 \cdot 21 =$

