



Benutze die vorgegebene Anordnung um jede Aufgabe zu lösen.

Antworten

1) $29 \cdot 20 =$

2) $20 \cdot 23 =$

1. _____

2. _____

3. _____

4. _____

5. _____

6. _____

3) $20 \cdot 21 =$

4) $20 \cdot 26 =$

5) $20 \cdot 29 =$

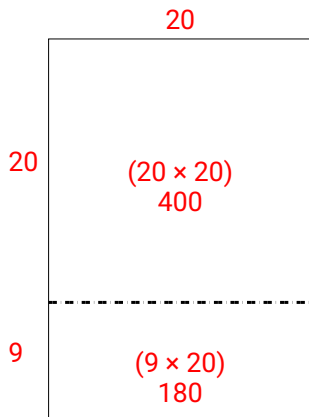
6) $20 \cdot 28 =$



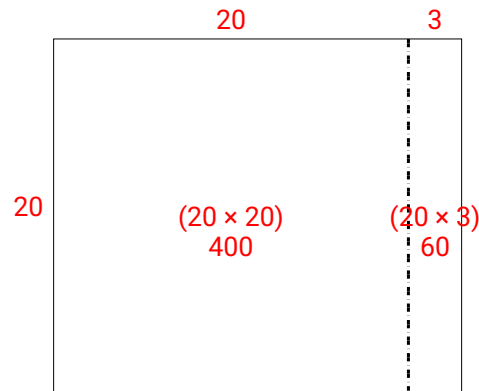
Benutze die vorgegebene Anordnung um jede Aufgabe zu lösen.

Antworten

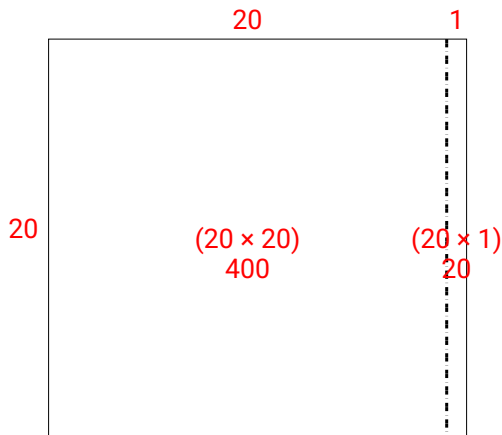
1) $29 \cdot 20 =$



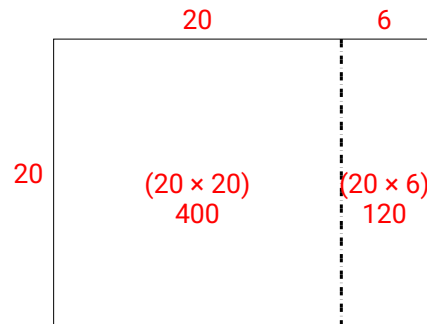
2) $20 \cdot 23 =$

1. **580**2. **460**3. **420**4. **520**5. **580**6. **560**

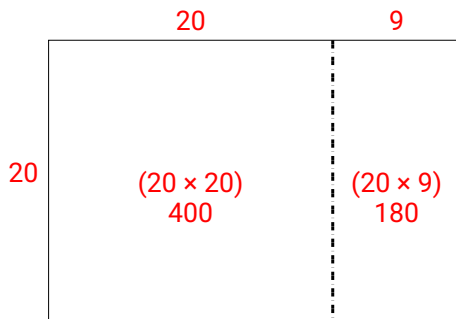
3) $20 \cdot 21 =$



4) $20 \cdot 26 =$



5) $20 \cdot 29 =$



6) $20 \cdot 28 =$

