



Bestimmen Sie den angezeigten Geldbetrag.

**Antworten**



1. \_\_\_\_\_



2. \_\_\_\_\_



3. \_\_\_\_\_



4. \_\_\_\_\_




5. \_\_\_\_\_



6. \_\_\_\_\_



7. \_\_\_\_\_



8. \_\_\_\_\_





9. \_\_\_\_\_



10. \_\_\_\_\_



Bestimmen Sie den angezeigten Geldbetrag.



**Antworten**

1. \$0,52

2. \$0,95

3. \$0,99

4. \$0,70

5. \$0,69

6. \$0,95

7. \$0,95

8. \$0,97

9. \$0,59

10. \$0,66