




Messe die Länge und Höhe jedes Blocks in Inch und Zentimeter.

Bsp)




1)



2)



3)



4)



Antworten

Bsp. 3 1/2 1 1/2 8,9 3,8

1. _____

2. _____

3. _____

4. _____



Messe die Länge und Höhe jedes Blocks in Inch und Zentimeter.


Bsp)



1)




2)



3)



4)



Antworten

Bsp. $\frac{3}{4}$ $\frac{1}{2}$ **8,9** **3,8**

1. $\frac{1}{2}$ **1** **3,8** **2,5**

2. **5** **1** **12,7** **2,5**

3. $\frac{2}{3}$ $\frac{9}{10}$ **6,4** **1,3**

4. **3** $\frac{1}{2}$ **7,6** **3,8**