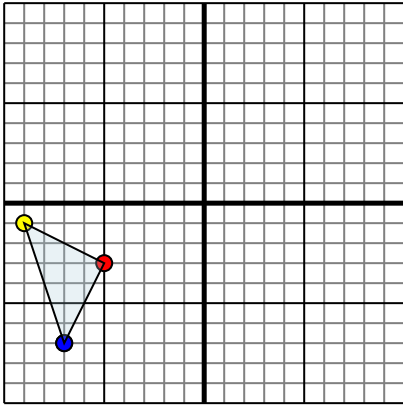




Spiegle jede Figur wie beschrieben.

1)

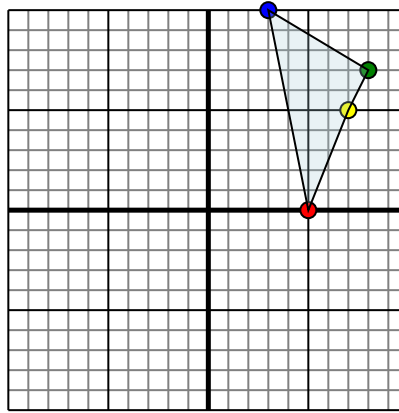


Die obige Figur hat die folgenden Koordinaten:

- A. (-5,-3)
- B. (-9,-1)
- C. (-7,-7)

Spiegle die Figur an der X-Achse.

2)

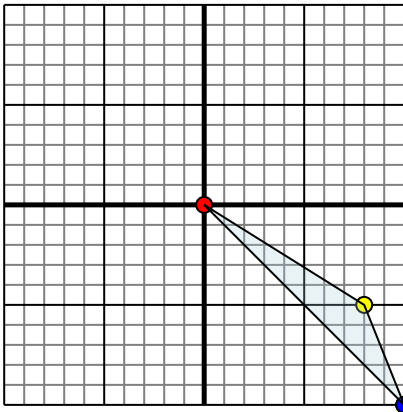


Die obige Figur hat die folgenden Koordinaten:

- A. (5,0)
- B. (7,5)
- C. (8,7)
- D. (3,10)

Spiegle die Figur an der X-Achse.

3)

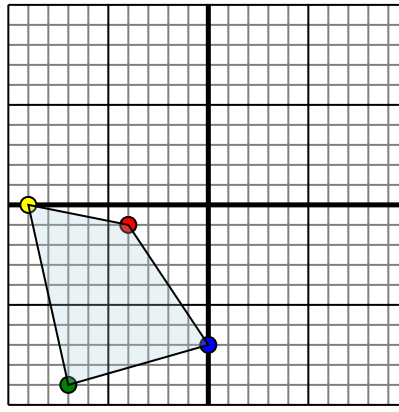


Die obige Figur hat die folgenden Koordinaten:

- A. (0,0)
- B. (8,-5)
- C. (10,-10)

Spiegle die Figur an der Y-Achse.

4)



Die obige Figur hat die folgenden Koordinaten:

- A. (-4,-1)
- B. (-9,0)
- C. (-7,-9)
- D. (0,-7)

Spiegle die Figur an der Y-Achse.

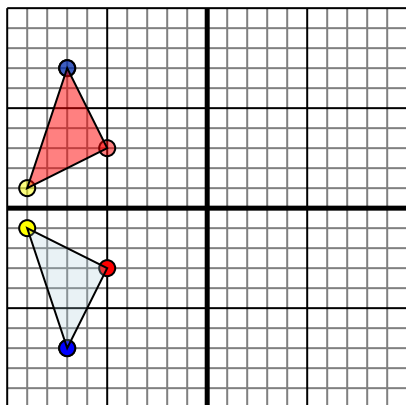
Antworten

- 1. _____
- 2. _____
- 3. _____
- 4. _____



Spiegle jede Figur wie beschrieben.

1)

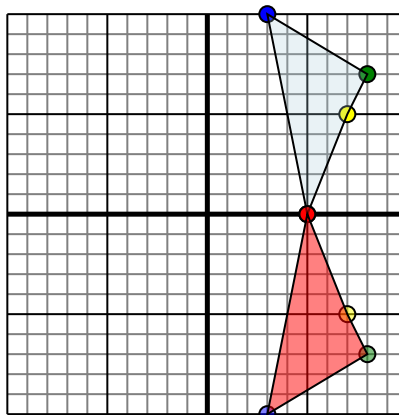


Die obige Figur hat die folgenden Koordinaten:

- A. (-5,-3)
- B. (-9,-1)
- C. (-7,-7)

Spiegle die Figur an der X-Achse.

2)

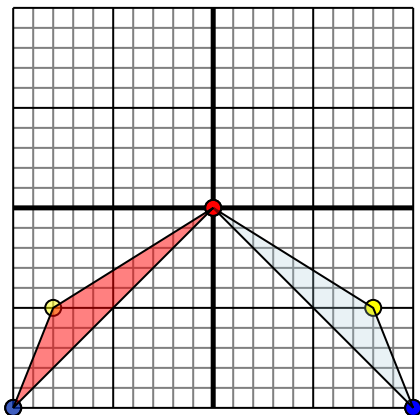


Die obige Figur hat die folgenden Koordinaten:

- A. (5,0)
- B. (7,5)
- C. (8,7)
- D. (3,10)

Spiegle die Figur an der X-Achse.

3)

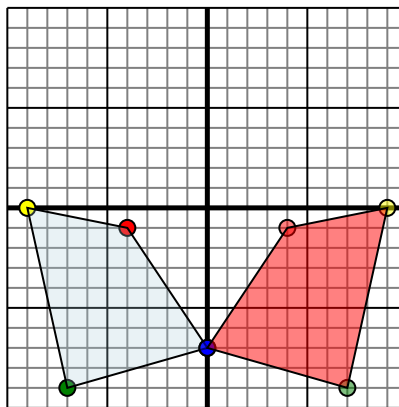


Die obige Figur hat die folgenden Koordinaten:

- A. (0,0)
- B. (8,-5)
- C. (10,-10)

Spiegle die Figur an der Y-Achse.

4)



Die obige Figur hat die folgenden Koordinaten:

- A. (-4,-1)
- B. (-9,0)
- C. (-7,-9)
- D. (0,-7)

Spiegle die Figur an der Y-Achse.

Antworten

1. **-5.3** **-9.1** **-7.7** Graph
2. **5.0** **7.-5** **8.-7** **3.-10** Graph
3. **0.0** **-8.-5** **-10.-10** Graph
4. **4.-1** **9.0** **7.-9** **0.-7** Graph