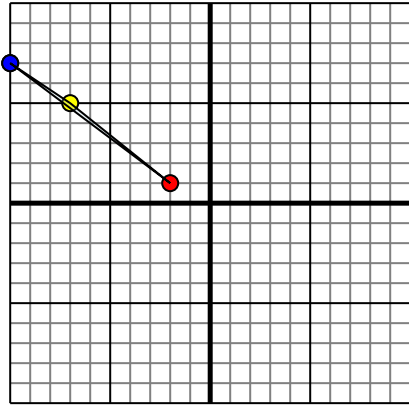




Spiegle jede Figur wie beschrieben.

1)

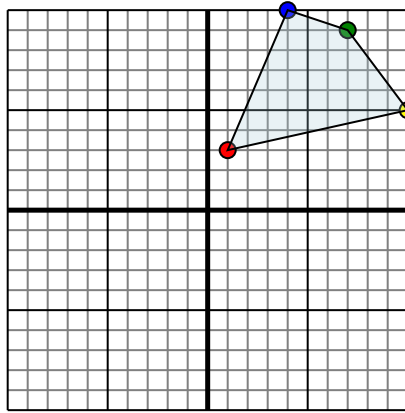


Die obige Figur hat die folgenden Koordinaten:

- A. (-2,1)
- B. (-7,5)
- C. (-10,7)

Spiegle die Figur an der Y-Achse.

2)

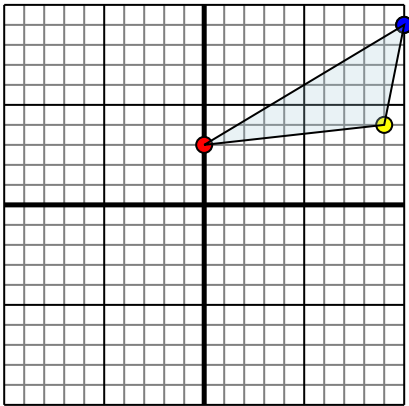


Die obige Figur hat die folgenden Koordinaten:

- A. (1,3)
- B. (10,5)
- C. (7,9)
- D. (4,10)

Spiegle die Figur an der Y-Achse.

3)

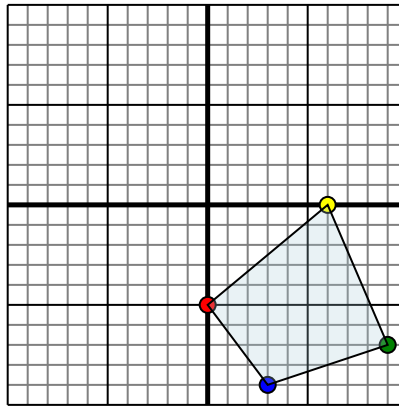


Die obige Figur hat die folgenden Koordinaten:

- A. (0,3)
- B. (9,4)
- C. (10,9)

Spiegle die Figur an der Y-Achse.

4)



Die obige Figur hat die folgenden Koordinaten:

- A. (0,-5)
- B. (6,0)
- C. (9,-7)
- D. (3,-9)

Spiegle die Figur an der Y-Achse.

Antworten

1. _____

2. _____

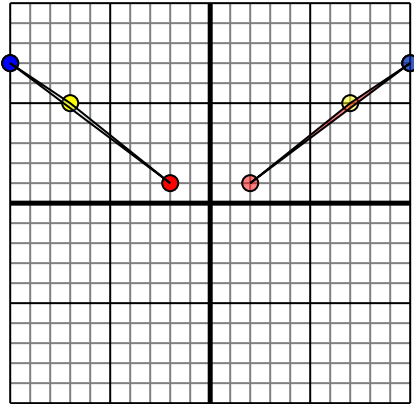
3. _____

4. _____



Spiegle jede Figur wie beschrieben.

1)

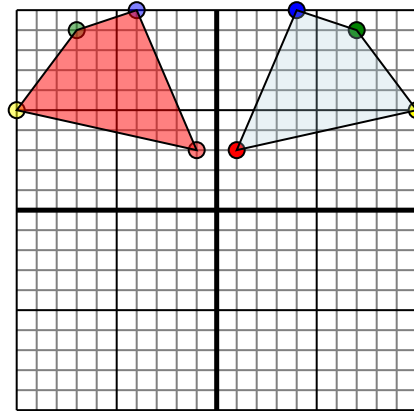


Die obige Figur hat die folgenden Koordinaten:

- A. (-2,1)
- B. (-7,5)
- C. (-10,7)

Spiegle die Figur an der Y-Achse.

2)

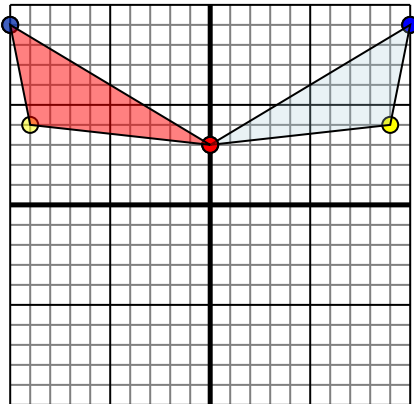


Die obige Figur hat die folgenden Koordinaten:

- A. (1,3)
- B. (10,5)
- C. (7,9)
- D. (4,10)

Spiegle die Figur an der Y-Achse.

3)

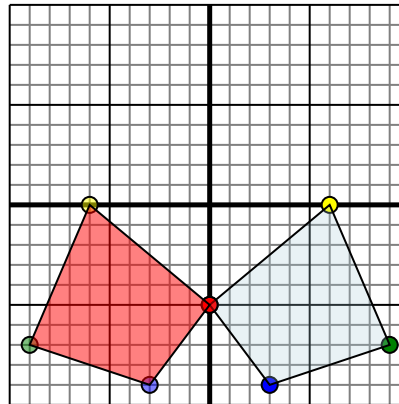


Die obige Figur hat die folgenden Koordinaten:

- A. (0,3)
- B. (9,4)
- C. (10,9)

Spiegle die Figur an der Y-Achse.

4)



Die obige Figur hat die folgenden Koordinaten:

- A. (0,-5)
- B. (6,0)
- C. (9,-7)
- D. (3,-9)

Spiegle die Figur an der Y-Achse.

Antworten

1. **2.1** **7.5** **10.7** Graph
2. **-1.3** **-10.5** **-7.9** **-4.10** Graph
3. **0.3** **-9.4** **-10.9** Graph
4. **0.-5** **-6.0** **-9.7** **-3.-9** Graph