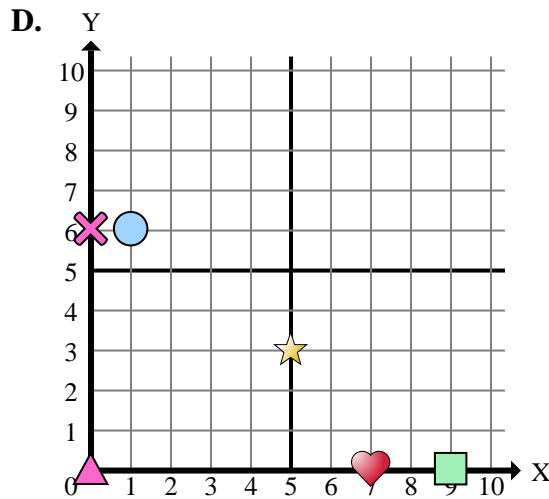
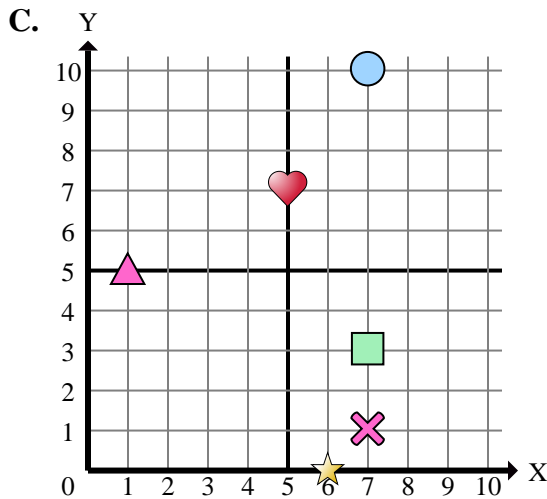
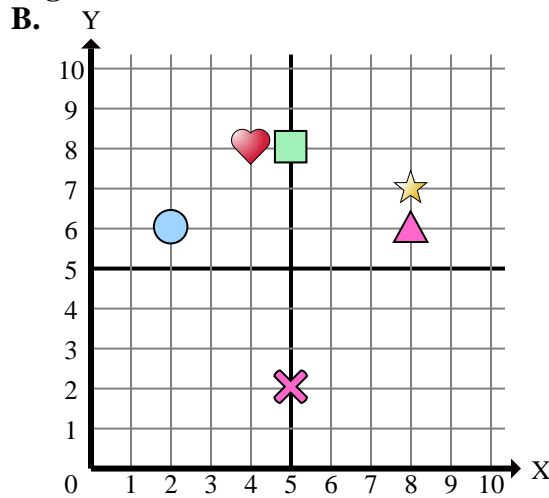
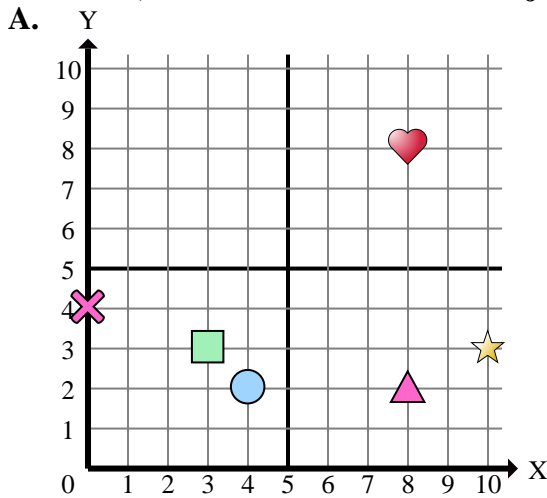




Stelle fest, welches Koordinatenkreuz jede Frage beantwortet.



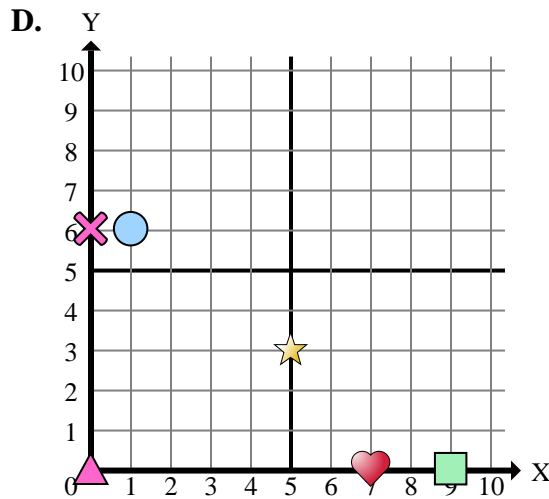
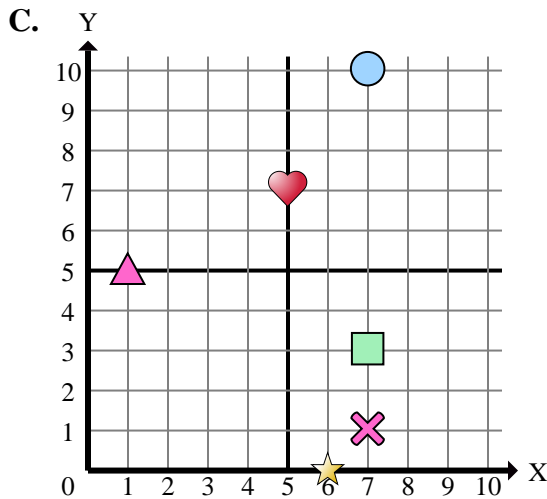
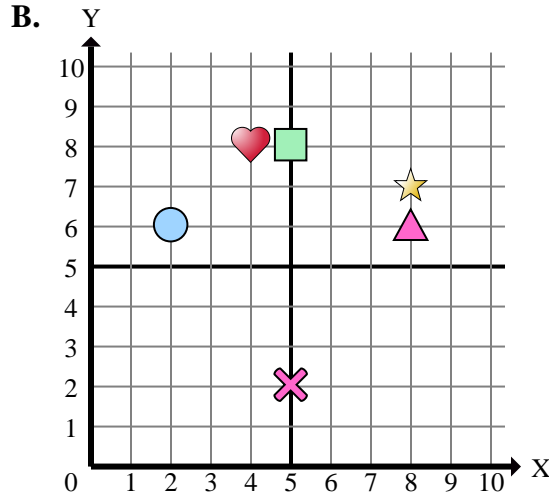
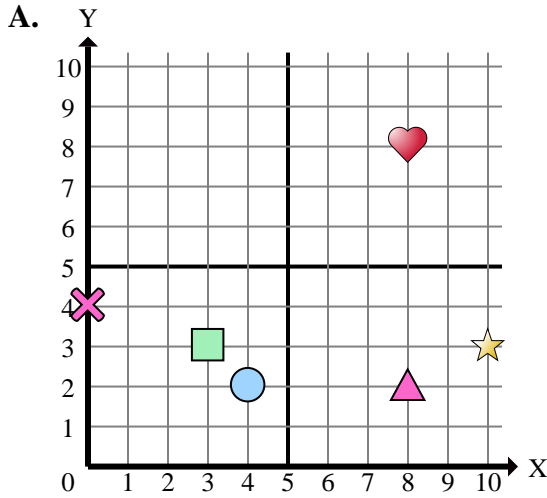
- 1) Welches Koordinatenkreuz hat eine Figur bei (0 , 4)?
- 2) Welches Koordinatenkreuz hat eine Figur bei (5 , 8)?
- 3) Welches Koordinatenkreuz hat eine Figur bei (1 , 6)?
- 4) Welches Koordinatenkreuz hat eine Figur bei (8 , 6)?
- 5) Welches Koordinatenkreuz hat eine Figur bei (0 , 6)?
- 6) Welches Koordinatenkreuz hat eine Figur bei (7 , 1)?
- 7) Welches Koordinatenkreuz hat eine Figur bei (0 , 0)?
- 8) Welches Koordinatenkreuz hat eine Figur bei (8 , 8)?
- 9) Welches Koordinatenkreuz hat eine Figur bei (5 , 7)?
- 10) Welches Koordinatenkreuz hat eine Figur bei (7 , 0)?
- 11) Welches Koordinatenkreuz hat eine Figur bei (9 , 0)?
- 12) Welches Koordinatenkreuz hat eine Figur bei (5 , 2)?
- 13) Welches Koordinatenkreuz hat eine Figur bei (7 , 10)?
- 14) Welches Koordinatenkreuz hat eine Figur bei (4 , 2)?
- 15) Welches Koordinatenkreuz hat eine Figur bei (4 , 8)?

Antworten

1. _____
2. _____
3. _____
4. _____
5. _____
6. _____
7. _____
8. _____
9. _____
10. _____
11. _____
12. _____
13. _____
14. _____
15. _____



Stelle fest, welches Koordinatenkreuz jede Frage beantwortet.



- 1) Welches Koordinatenkreuz hat eine Figur bei (0 , 4)?
- 2) Welches Koordinatenkreuz hat eine Figur bei (5 , 8)?
- 3) Welches Koordinatenkreuz hat eine Figur bei (1 , 6)?
- 4) Welches Koordinatenkreuz hat eine Figur bei (8 , 6)?
- 5) Welches Koordinatenkreuz hat eine Figur bei (0 , 6)?
- 6) Welches Koordinatenkreuz hat eine Figur bei (7 , 1)?
- 7) Welches Koordinatenkreuz hat eine Figur bei (0 , 0)?
- 8) Welches Koordinatenkreuz hat eine Figur bei (8 , 8)?
- 9) Welches Koordinatenkreuz hat eine Figur bei (5 , 7)?
- 10) Welches Koordinatenkreuz hat eine Figur bei (7 , 0)?
- 11) Welches Koordinatenkreuz hat eine Figur bei (9 , 0)?
- 12) Welches Koordinatenkreuz hat eine Figur bei (5 , 2)?
- 13) Welches Koordinatenkreuz hat eine Figur bei (7 , 10)?
- 14) Welches Koordinatenkreuz hat eine Figur bei (4 , 2)?
- 15) Welches Koordinatenkreuz hat eine Figur bei (4 , 8)?

Antworten

1. **A**
2. **B**
3. **D**
4. **B**
5. **D**
6. **C**
7. **D**
8. **A**
9. **C**
10. **D**
11. **D**
12. **B**
13. **C**
14. **A**
15. **B**