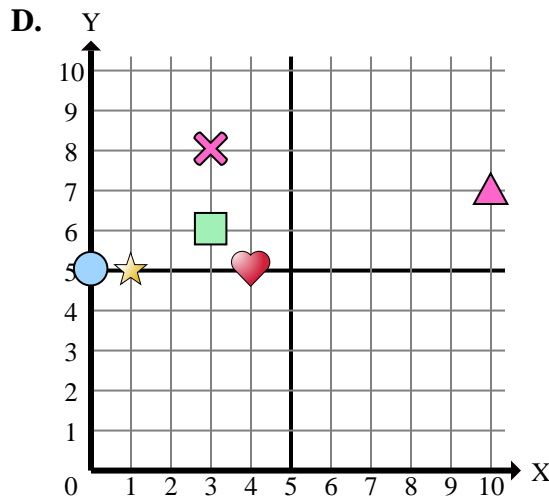
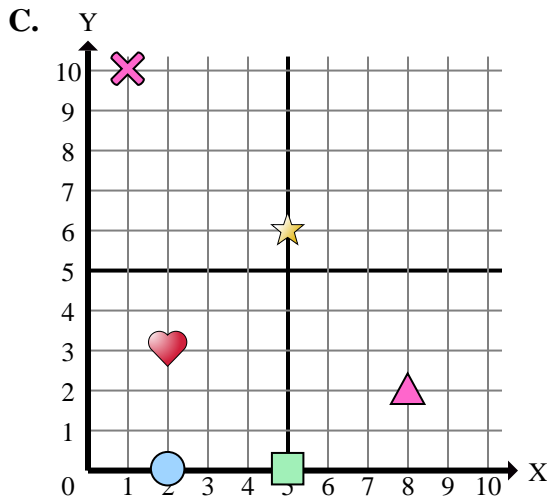
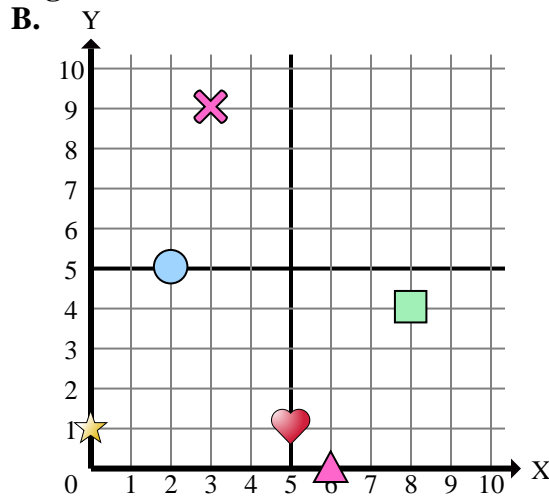
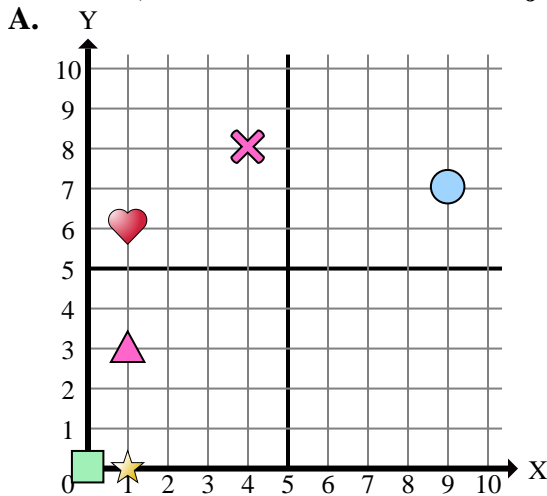




Stelle fest, welches Koordinatenkreuz jede Frage beantwortet.



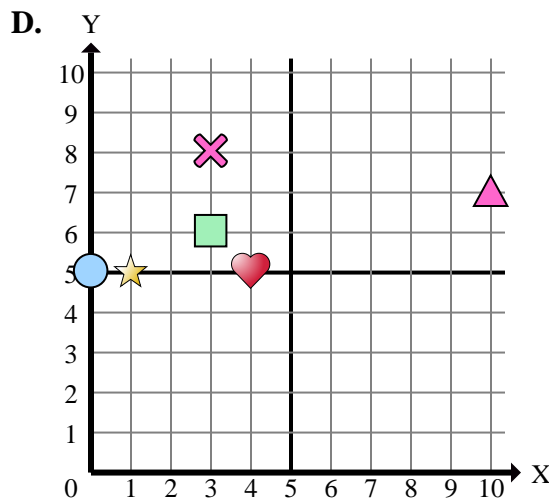
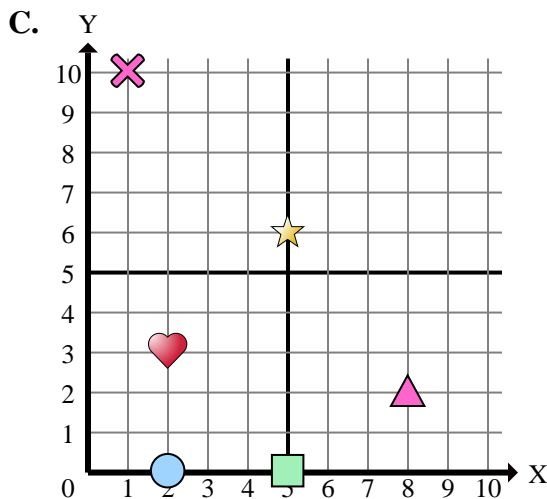
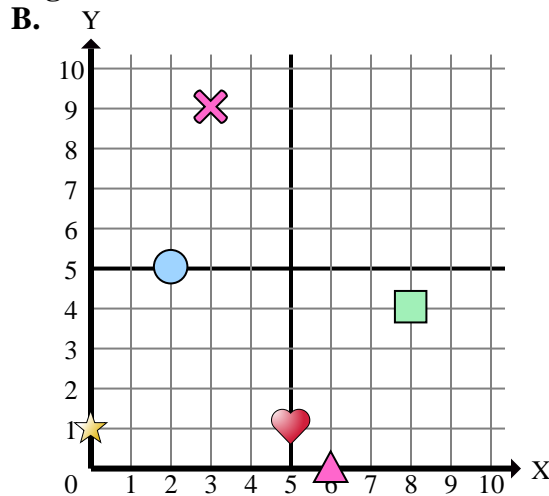
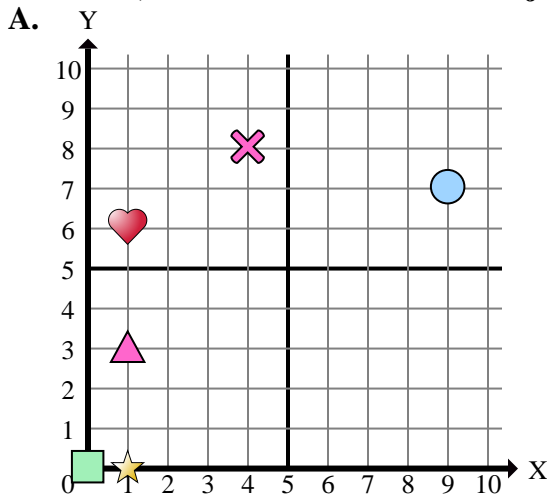
- 1) Welches Koordinatenkreuz hat eine Figur bei (0 , 1)?
- 2) Welches Koordinatenkreuz hat eine Figur bei (3 , 9)?
- 3) Welches Koordinatenkreuz hat eine Figur bei (8 , 4)?
- 4) Welches Koordinatenkreuz hat eine Figur bei (8 , 2)?
- 5) Welches Koordinatenkreuz hat eine Figur bei (10 , 7)?
- 6) Welches Koordinatenkreuz hat eine Figur bei (4 , 5)?
- 7) Welches Koordinatenkreuz hat eine Figur bei (1 , 0)?
- 8) Welches Koordinatenkreuz hat eine Figur bei (5 , 1)?
- 9) Welches Koordinatenkreuz hat eine Figur bei (4 , 8)?
- 10) Welches Koordinatenkreuz hat eine Figur bei (3 , 6)?
- 11) Welches Koordinatenkreuz hat eine Figur bei (9 , 7)?
- 12) Welches Koordinatenkreuz hat eine Figur bei (2 , 3)?
- 13) Welches Koordinatenkreuz hat eine Figur bei (1 , 6)?
- 14) Welches Koordinatenkreuz hat eine Figur bei (2 , 0)?
- 15) Welches Koordinatenkreuz hat eine Figur bei (0 , 0)?

Antworten

1. _____
2. _____
3. _____
4. _____
5. _____
6. _____
7. _____
8. _____
9. _____
10. _____
11. _____
12. _____
13. _____
14. _____
15. _____



Stelle fest, welches Koordinatenkreuz jede Frage beantwortet.



- 1) Welches Koordinatenkreuz hat eine Figur bei (0 , 1)?
- 2) Welches Koordinatenkreuz hat eine Figur bei (3 , 9)?
- 3) Welches Koordinatenkreuz hat eine Figur bei (8 , 4)?
- 4) Welches Koordinatenkreuz hat eine Figur bei (8 , 2)?
- 5) Welches Koordinatenkreuz hat eine Figur bei (10 , 7)?
- 6) Welches Koordinatenkreuz hat eine Figur bei (4 , 5)?
- 7) Welches Koordinatenkreuz hat eine Figur bei (1 , 0)?
- 8) Welches Koordinatenkreuz hat eine Figur bei (5 , 1)?
- 9) Welches Koordinatenkreuz hat eine Figur bei (4 , 8)?
- 10) Welches Koordinatenkreuz hat eine Figur bei (3 , 6)?
- 11) Welches Koordinatenkreuz hat eine Figur bei (9 , 7)?
- 12) Welches Koordinatenkreuz hat eine Figur bei (2 , 3)?
- 13) Welches Koordinatenkreuz hat eine Figur bei (1 , 6)?
- 14) Welches Koordinatenkreuz hat eine Figur bei (2 , 0)?
- 15) Welches Koordinatenkreuz hat eine Figur bei (0 , 0)?

Antworten

1. **B**
2. **B**
3. **B**
4. **C**
5. **D**
6. **D**
7. **A**
8. **B**
9. **A**
10. **D**
11. **A**
12. **C**
13. **A**
14. **C**
15. **A**