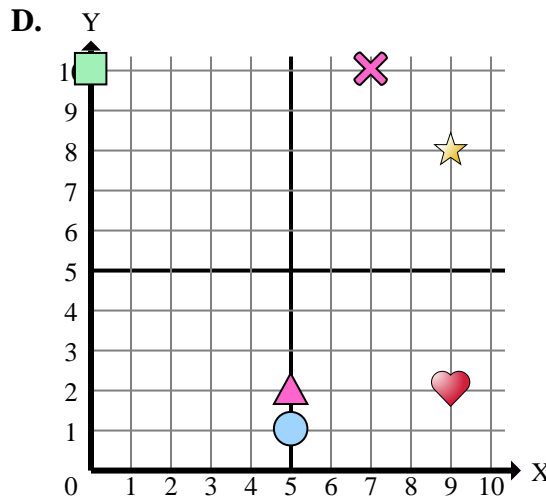
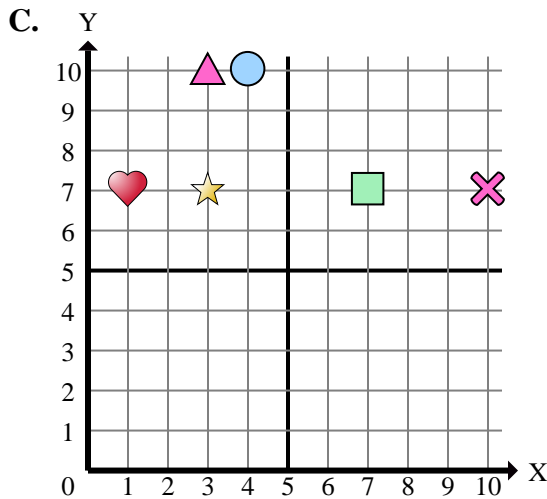
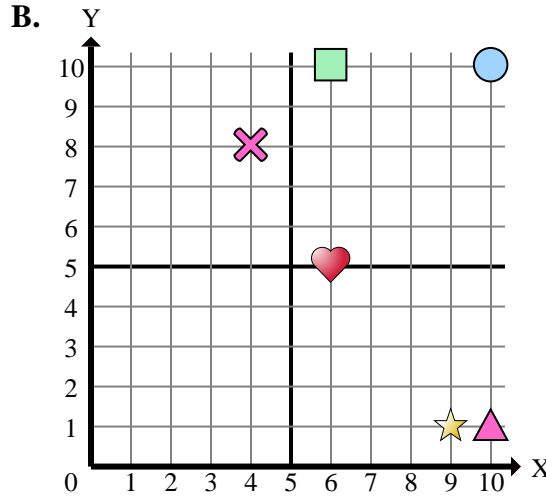
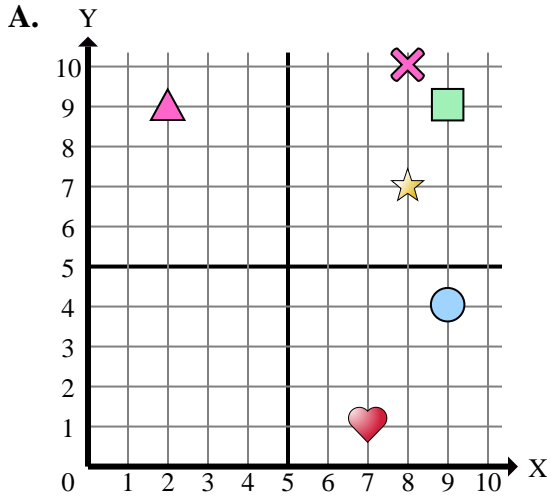




Stelle fest, welches Koordinatenkreuz jede Frage beantwortet.



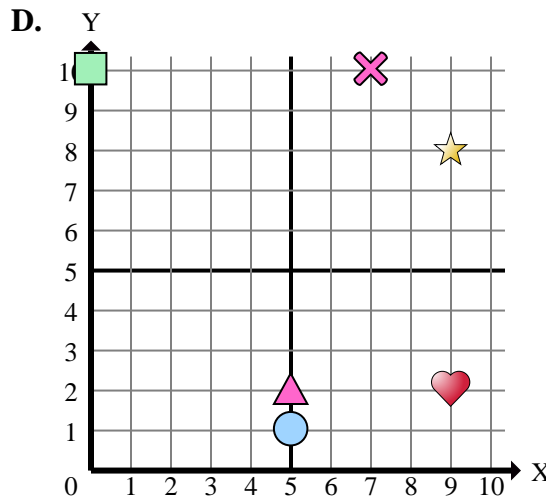
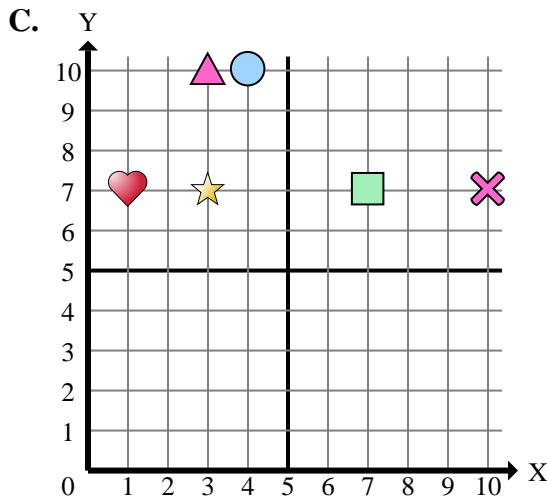
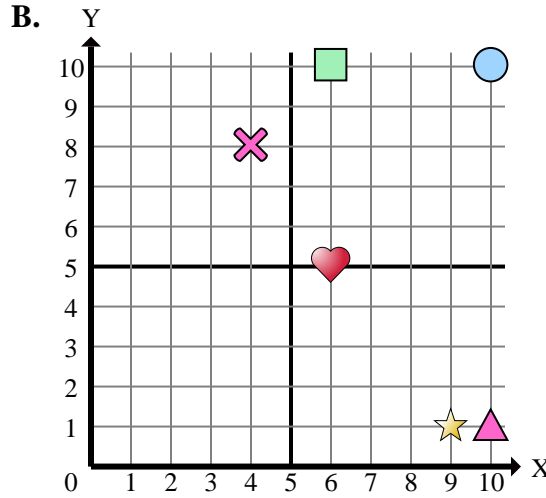
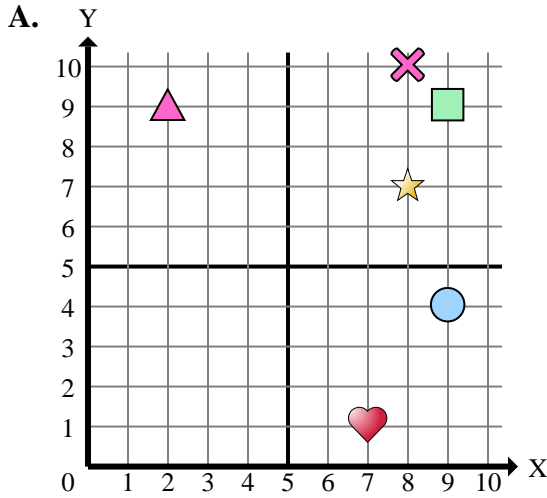
- 1) Welches Koordinatenkreuz hat eine Figur bei (9 , 2)?
- 2) Welches Koordinatenkreuz hat eine Figur bei (10 , 7)?
- 3) Welches Koordinatenkreuz hat eine Figur bei (7 , 7)?
- 4) Welches Koordinatenkreuz hat eine Figur bei (9 , 4)?
- 5) Welches Koordinatenkreuz hat eine Figur bei (6 , 10)?
- 6) Welches Koordinatenkreuz hat eine Figur bei (2 , 9)?
- 7) Welches Koordinatenkreuz hat eine Figur bei (3 , 7)?
- 8) Welches Koordinatenkreuz hat eine Figur bei (7 , 10)?
- 9) Welches Koordinatenkreuz hat eine Figur bei (9 , 9)?
- 10) Welches Koordinatenkreuz hat eine Figur bei (6 , 5)?
- 11) Welches Koordinatenkreuz hat eine Figur bei (5 , 2)?
- 12) Welches Koordinatenkreuz hat eine Figur bei (8 , 10)?
- 13) Welches Koordinatenkreuz hat eine Figur bei (10 , 1)?
- 14) Welches Koordinatenkreuz hat eine Figur bei (5 , 1)?
- 15) Welches Koordinatenkreuz hat eine Figur bei (0 , 10)?

**Antworten**

1. \_\_\_\_\_
2. \_\_\_\_\_
3. \_\_\_\_\_
4. \_\_\_\_\_
5. \_\_\_\_\_
6. \_\_\_\_\_
7. \_\_\_\_\_
8. \_\_\_\_\_
9. \_\_\_\_\_
10. \_\_\_\_\_
11. \_\_\_\_\_
12. \_\_\_\_\_
13. \_\_\_\_\_
14. \_\_\_\_\_
15. \_\_\_\_\_



Stelle fest, welches Koordinatenkreuz jede Frage beantwortet.



- 1) Welches Koordinatenkreuz hat eine Figur bei (9 , 2)?
- 2) Welches Koordinatenkreuz hat eine Figur bei (10 , 7)?
- 3) Welches Koordinatenkreuz hat eine Figur bei (7 , 7)?
- 4) Welches Koordinatenkreuz hat eine Figur bei (9 , 4)?
- 5) Welches Koordinatenkreuz hat eine Figur bei (6 , 10)?
- 6) Welches Koordinatenkreuz hat eine Figur bei (2 , 9)?
- 7) Welches Koordinatenkreuz hat eine Figur bei (3 , 7)?
- 8) Welches Koordinatenkreuz hat eine Figur bei (7 , 10)?
- 9) Welches Koordinatenkreuz hat eine Figur bei (9 , 9)?
- 10) Welches Koordinatenkreuz hat eine Figur bei (6 , 5)?
- 11) Welches Koordinatenkreuz hat eine Figur bei (5 , 2)?
- 12) Welches Koordinatenkreuz hat eine Figur bei (8 , 10)?
- 13) Welches Koordinatenkreuz hat eine Figur bei (10 , 1)?
- 14) Welches Koordinatenkreuz hat eine Figur bei (5 , 1)?
- 15) Welches Koordinatenkreuz hat eine Figur bei (0 , 10)?

**Antworten**

1.     **D**
2.     **C**
3.     **C**
4.     **A**
5.     **B**
6.     **A**
7.     **C**
8.     **D**
9.     **A**
10.     **B**
11.     **D**
12.     **A**
13.     **B**
14.     **D**
15.     **D**