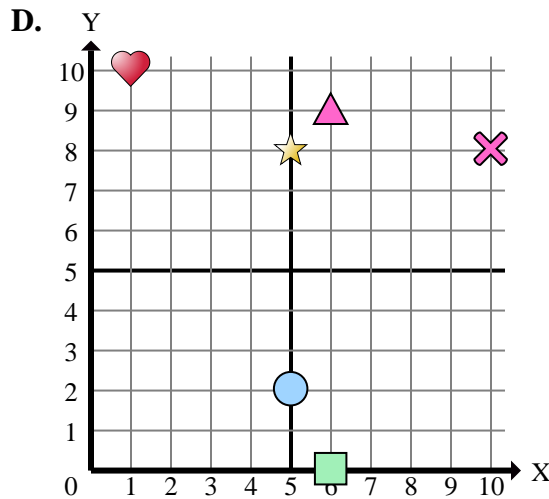
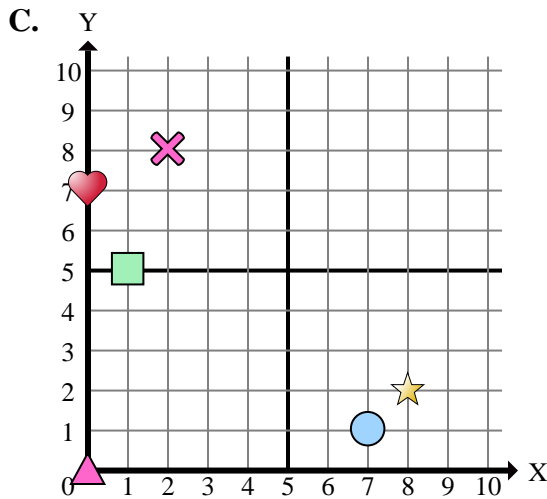
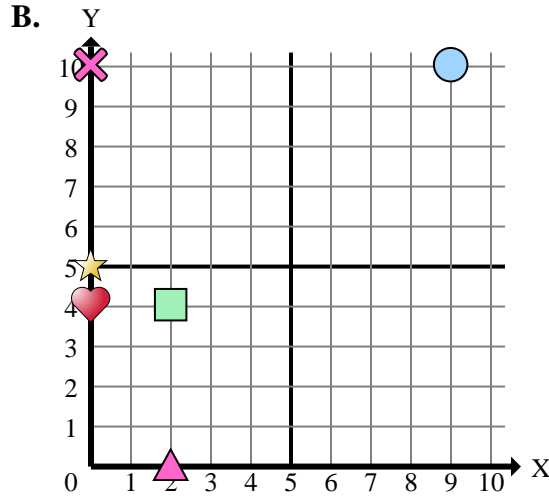
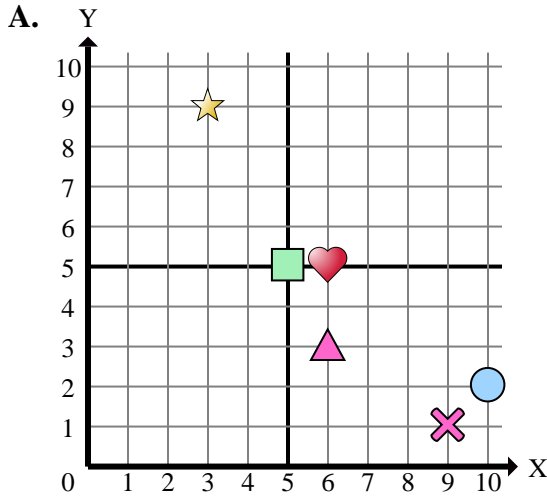




Stelle fest, welches Koordinatenkreuz jede Frage beantwortet.



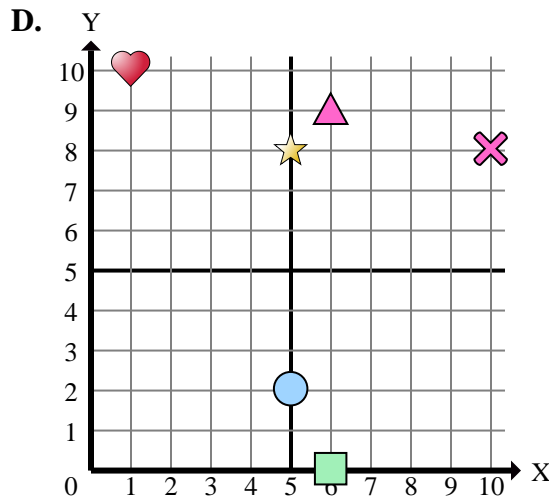
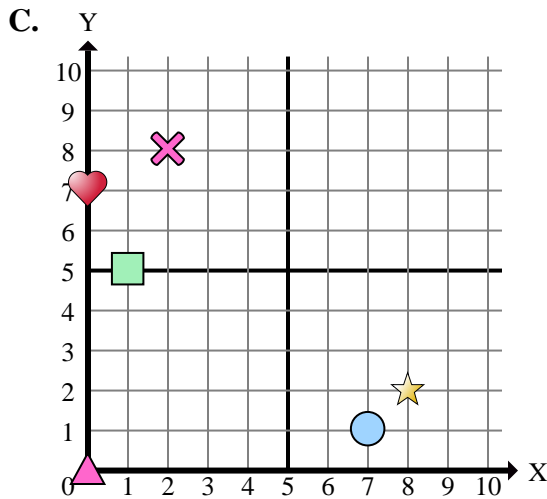
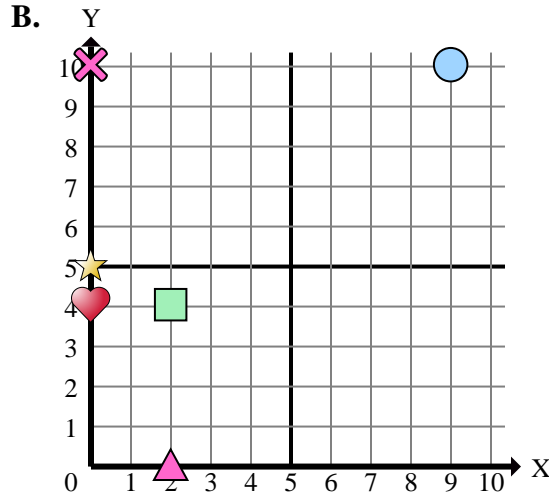
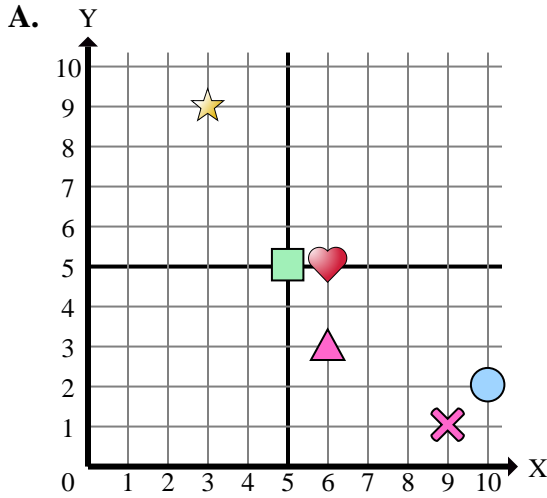
- 1) Welches Koordinatenkreuz hat eine Figur bei (0 , 5)?
- 2) Welches Koordinatenkreuz hat eine Figur bei (2 , 0)?
- 3) Welches Koordinatenkreuz hat eine Figur bei (5 , 5)?
- 4) Welches Koordinatenkreuz hat eine Figur bei (3 , 9)?
- 5) Welches Koordinatenkreuz hat eine Figur bei (0 , 7)?
- 6) Welches Koordinatenkreuz hat eine Figur bei (6 , 9)?
- 7) Welches Koordinatenkreuz hat eine Figur bei (6 , 5)?
- 8) Welches Koordinatenkreuz hat eine Figur bei (8 , 2)?
- 9) Welches Koordinatenkreuz hat eine Figur bei (5 , 8)?
- 10) Welches Koordinatenkreuz hat eine Figur bei (9 , 10)?
- 11) Welches Koordinatenkreuz hat eine Figur bei (0 , 0)?
- 12) Welches Koordinatenkreuz hat eine Figur bei (2 , 4)?
- 13) Welches Koordinatenkreuz hat eine Figur bei (0 , 10)?
- 14) Welches Koordinatenkreuz hat eine Figur bei (6 , 0)?
- 15) Welches Koordinatenkreuz hat eine Figur bei (10 , 8)?

**Antworten**

1. \_\_\_\_\_
2. \_\_\_\_\_
3. \_\_\_\_\_
4. \_\_\_\_\_
5. \_\_\_\_\_
6. \_\_\_\_\_
7. \_\_\_\_\_
8. \_\_\_\_\_
9. \_\_\_\_\_
10. \_\_\_\_\_
11. \_\_\_\_\_
12. \_\_\_\_\_
13. \_\_\_\_\_
14. \_\_\_\_\_
15. \_\_\_\_\_



Stelle fest, welches Koordinatenkreuz jede Frage beantwortet.



- 1) Welches Koordinatenkreuz hat eine Figur bei (0 , 5)?
- 2) Welches Koordinatenkreuz hat eine Figur bei (2 , 0)?
- 3) Welches Koordinatenkreuz hat eine Figur bei (5 , 5)?
- 4) Welches Koordinatenkreuz hat eine Figur bei (3 , 9)?
- 5) Welches Koordinatenkreuz hat eine Figur bei (0 , 7)?
- 6) Welches Koordinatenkreuz hat eine Figur bei (6 , 9)?
- 7) Welches Koordinatenkreuz hat eine Figur bei (6 , 5)?
- 8) Welches Koordinatenkreuz hat eine Figur bei (8 , 2)?
- 9) Welches Koordinatenkreuz hat eine Figur bei (5 , 8)?
- 10) Welches Koordinatenkreuz hat eine Figur bei (9 , 10)?
- 11) Welches Koordinatenkreuz hat eine Figur bei (0 , 0)?
- 12) Welches Koordinatenkreuz hat eine Figur bei (2 , 4)?
- 13) Welches Koordinatenkreuz hat eine Figur bei (0 , 10)?
- 14) Welches Koordinatenkreuz hat eine Figur bei (6 , 0)?
- 15) Welches Koordinatenkreuz hat eine Figur bei (10 , 8)?

**Antworten**

1. **B**
2. **B**
3. **A**
4. **A**
5. **C**
6. **D**
7. **A**
8. **C**
9. **D**
10. **B**
11. **C**
12. **B**
13. **B**
14. **D**
15. **D**