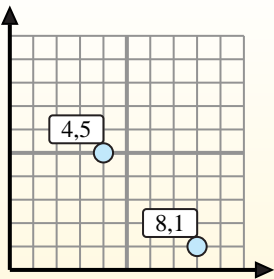


**Finde den Mittelpunkt von den Koordinatenpaaren.****Fórmula de punto medio**

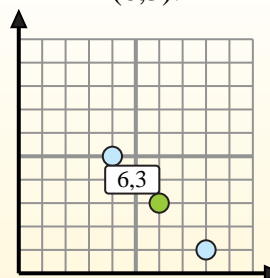
$$\frac{x_1 + x_2}{2}, \frac{y_1 + y_2}{2}$$

Para encontrar el punto medio de las coordenadas (4,5) y (8,1), sustituya los valores en la fórmula del punto medio.

$$\frac{4 + 8}{2}, \frac{5 + 1}{2}$$



El punto medio está en (6,3).

**Antworten**

1) (1.7) & (2.2)

2) (3.4) & (6.4)

3) (5.8) & (0.4)

4) (2.1) & (4.2)

5) (9.2) & (6.6)

6) (7.6) & (8.8)

7) (1.0) & (4.5)

8) (2.5) & (1.5)

9) (4.4) & (1.7)

10) (5.7) & (1.1)

11) (0.6) & (9.4)

12) (6.7) & (6.5)

1. _____

2. _____

3. _____

4. _____

5. _____

6. _____

7. _____

8. _____

9. _____

10. _____

11. _____

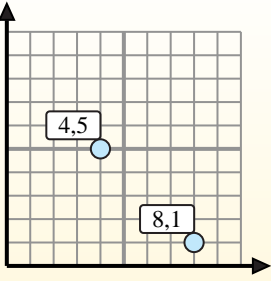
12. _____

**Finde den Mittelpunkt von den Koordinatenpaaren.****Fórmula de punto medio**

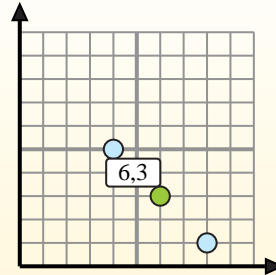
$$\frac{x_1 + x_2}{2}, \frac{y_1 + y_2}{2}$$

Para encontrar el punto medio de las coordenadas (4,5) y (8,1), sustituya los valores en la fórmula del punto medio.

$$\frac{4 + 8}{2}, \frac{5 + 1}{2}$$



El punto medio está en (6,3).

**Antworten**

1) (1.7) & (2.2) $\left(\frac{1+2}{2}, \frac{7+2}{2}\right) = (1,5 . 4,5)$

2) (3.4) & (6.4) $\left(\frac{3+6}{2}, \frac{4+4}{2}\right) = (4,5 . 4)$

3) (5.8) & (0.4) $\left(\frac{5+0}{2}, \frac{8+4}{2}\right) = (2,5 . 6)$

4) (2.1) & (4.2) $\left(\frac{2+4}{2}, \frac{1+2}{2}\right) = (3 . 1,5)$

5) (9.2) & (6.6) $\left(\frac{9+6}{2}, \frac{2+6}{2}\right) = (7,5 . 4)$

6) (7.6) & (8.8) $\left(\frac{7+8}{2}, \frac{6+8}{2}\right) = (7,5 . 7)$

7) (1.0) & (4.5) $\left(\frac{1+4}{2}, \frac{0+5}{2}\right) = (2,5 . 2,5)$

8) (2.5) & (1.5) $\left(\frac{2+1}{2}, \frac{5+5}{2}\right) = (1,5 . 5)$

9) (4.4) & (1.7) $\left(\frac{4+1}{2}, \frac{4+7}{2}\right) = (2,5 . 5,5)$

10) (5.7) & (1.1) $\left(\frac{5+1}{2}, \frac{7+1}{2}\right) = (3 . 4)$

11) (0.6) & (9.4) $\left(\frac{0+9}{2}, \frac{6+4}{2}\right) = (4,5 . 5)$

12) (6.7) & (6.5) $\left(\frac{6+6}{2}, \frac{7+5}{2}\right) = (6 . 6)$

1. (1,5 . 4,5)

2. (4,5 . 4)

3. (2,5 . 6)

4. (3 . 1,5)

5. (7,5 . 4)

6. (7,5 . 7)

7. (2,5 . 2,5)

8. (1,5 . 5)

9. (2,5 . 5,5)

10. (3 . 4)

11. (4,5 . 5)

12. (6 . 6)