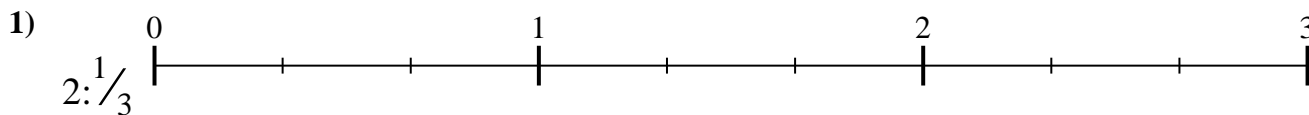




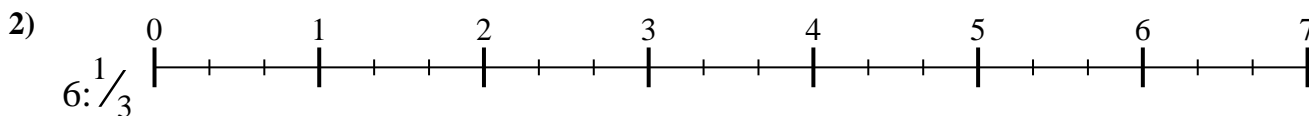
Benutze den Zahlenstrahl um jede Aufgabe zu lösen. Die erste Aufgabe ist bereits als Beispiel markiert.

Antworten



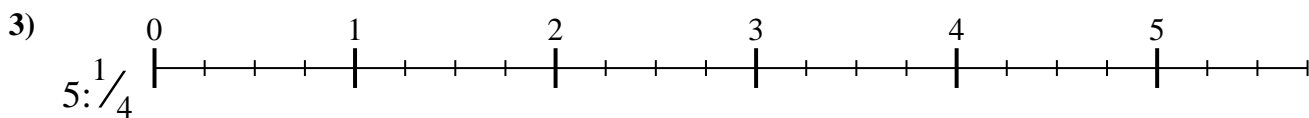
1. _____

2. _____



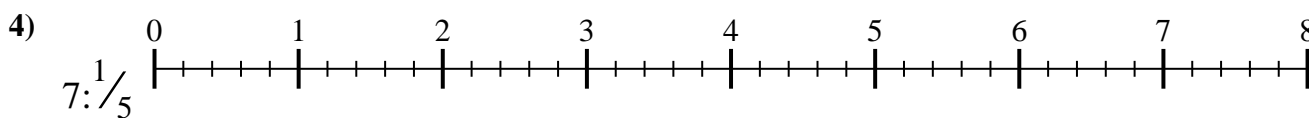
3. _____

4. _____



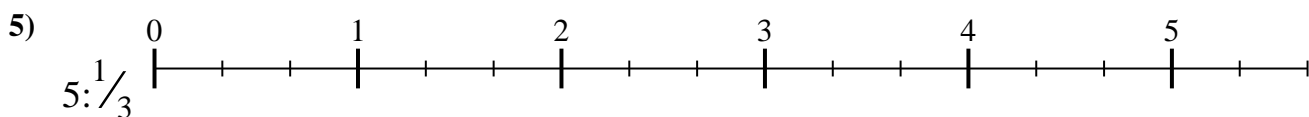
5. _____

6. _____

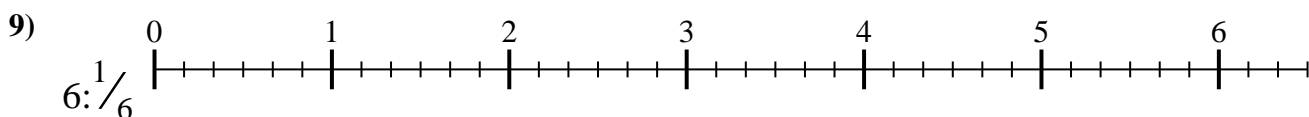
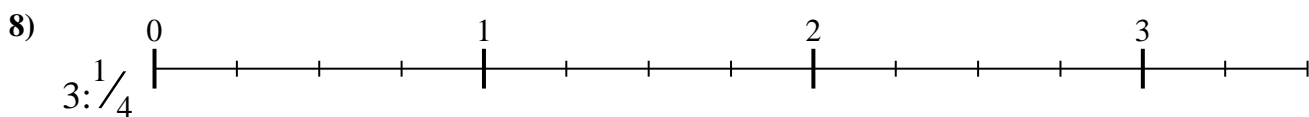
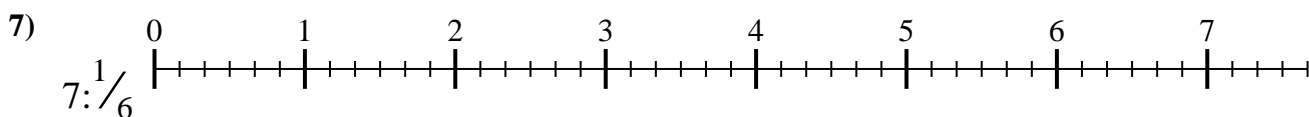
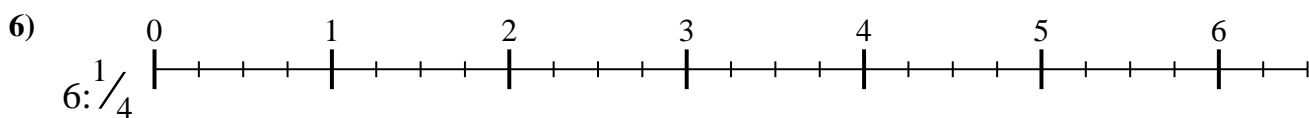


7. _____

8. _____



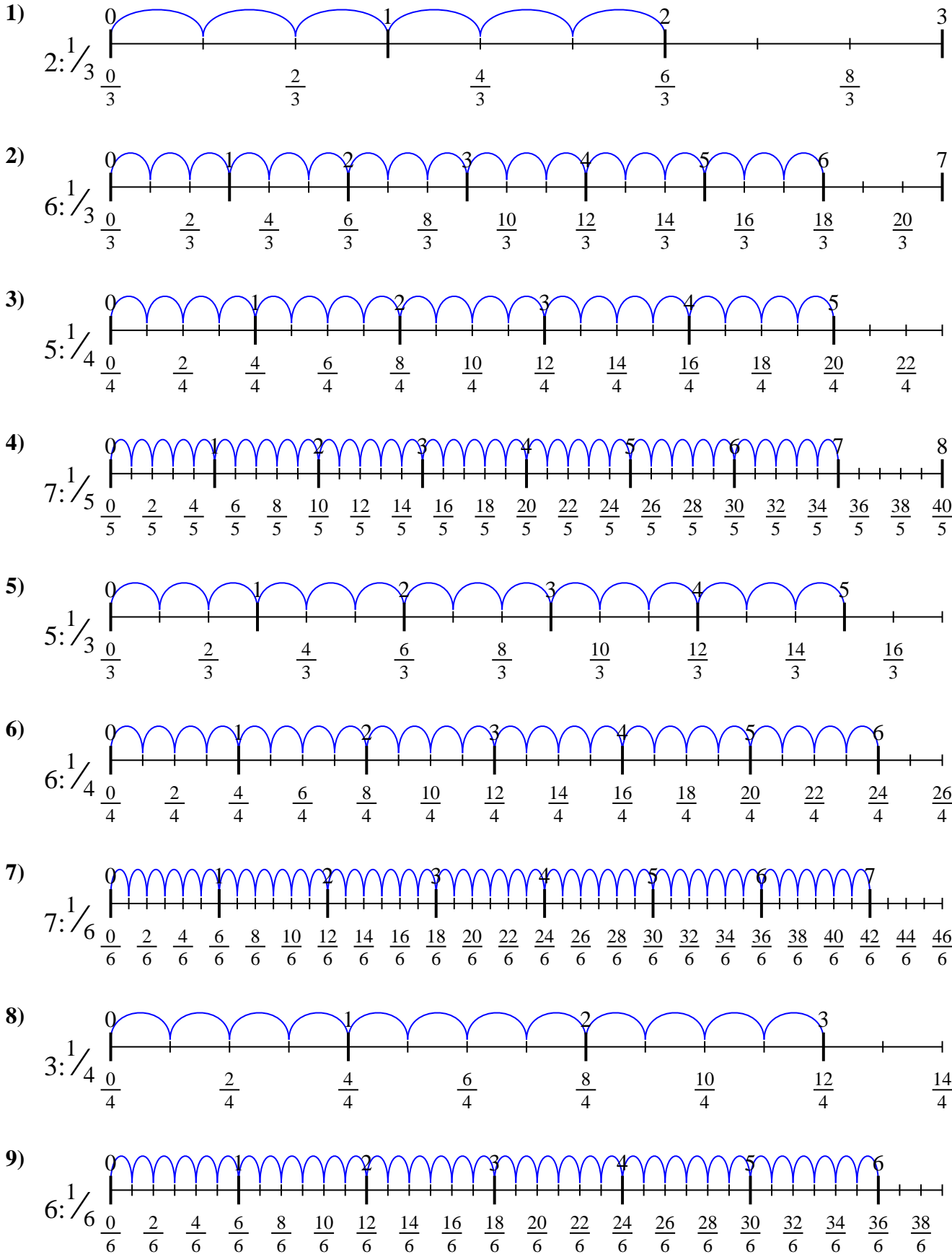
9. _____





Benutze den Zahlenstrahl um jede Aufgabe zu lösen. Die erste Aufgabe ist bereits als Beispiel markiert.

Antworten



1. $\frac{6}{1}$
2. $\frac{18}{1}$
3. $\frac{20}{1}$
4. $\frac{35}{1}$
5. $\frac{15}{1}$
6. $\frac{24}{1}$
7. $\frac{42}{1}$
8. $\frac{12}{1}$
9. $\frac{36}{1}$



Benutze den Zahlenstrahl um jede Aufgabe zu lösen. Die erste Aufgabe ist bereits als Beispiel markiert.

Antworten

$$\frac{6}{1}$$

$$\frac{36}{1}$$

$$\frac{42}{1}$$

$$\frac{12}{1}$$

$$\frac{20}{1}$$

$$\frac{35}{1}$$

$$\frac{18}{1}$$

$$\frac{15}{1}$$

$$\frac{24}{1}$$

1. _____

2. _____

3. _____

4. _____

5. _____

6. _____

7. _____

8. _____

9. _____

