




Benutze den Zahlenstrahl um jede Aufgabe zu lösen. Die erste Aufgabe ist bereits als Beispiel gelöst.

Antworten

1. _____

2. _____




3. _____

4. _____




5. _____

6. _____


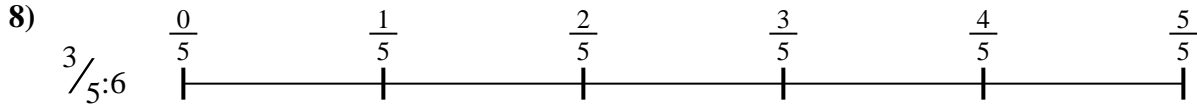

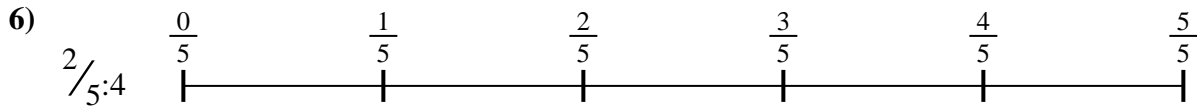


7. _____

8. _____



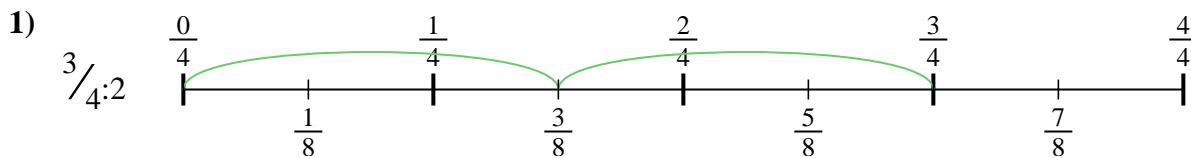
9. _____



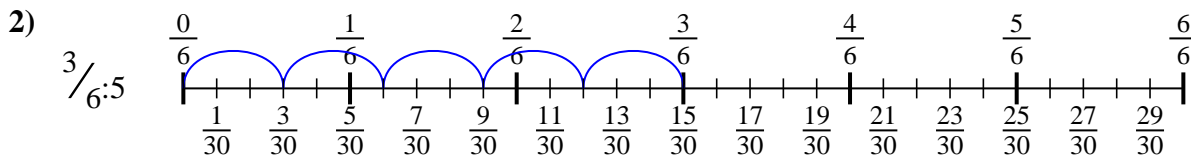


Benutze den Zahlenstrahl um jede Aufgabe zu lösen. Die erste Aufgabe ist bereits als Beispiel gelöst.

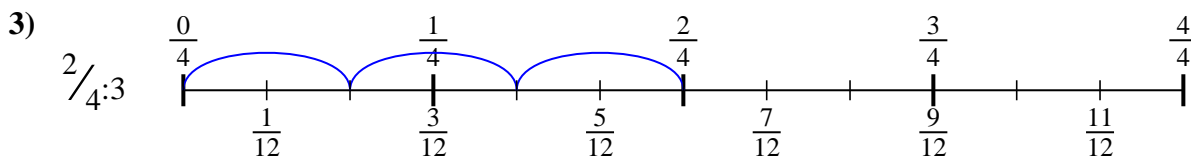
Antworten



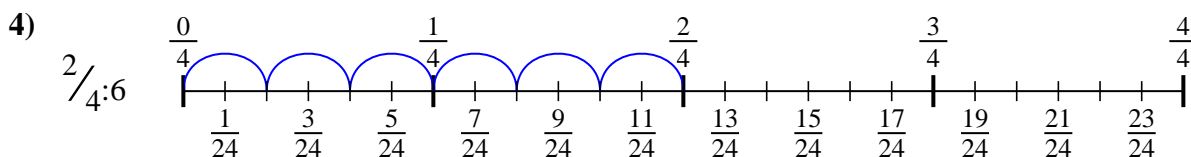
1. $\frac{3}{8}$



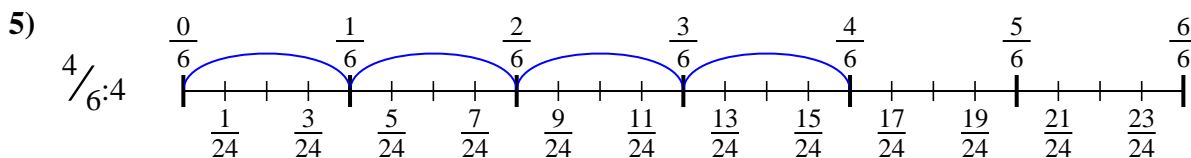
2. $\frac{3}{30}$



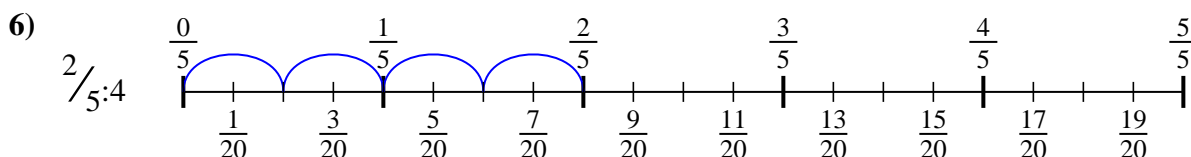
3. $\frac{2}{12}$



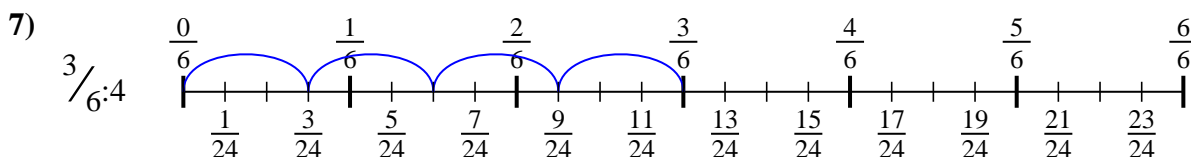
4. $\frac{2}{24}$



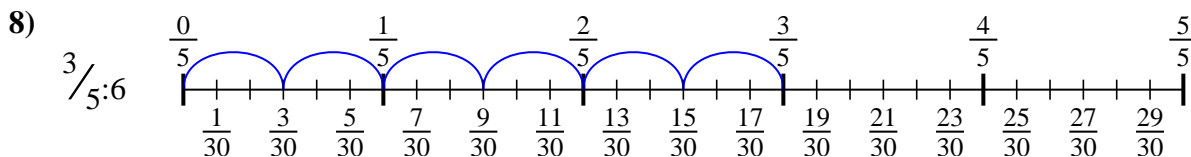
5. $\frac{4}{24}$



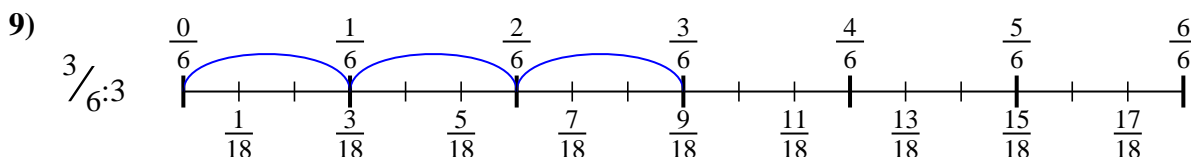
6. $\frac{2}{20}$



7. $\frac{3}{24}$



8. $\frac{3}{30}$



9. $\frac{3}{18}$



Benutze den Zahlenstrahl um jede Aufgabe zu lösen. Die erste Aufgabe ist bereits als Beispiel gelöst.

Antworten

$\frac{3}{24}$

$\frac{3}{30}$

$\frac{2}{20}$

$\frac{3}{30}$

$\frac{4}{24}$

$\frac{2}{12}$

$\frac{3}{8}$

$\frac{2}{24}$

$\frac{3}{18}$

1. _____

2. _____

3. _____

4. _____

5. _____

6. _____

7. _____

8. _____

9. _____

