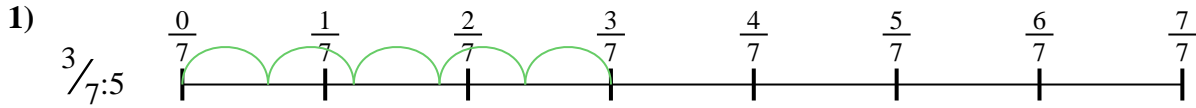





Benutze den Zahlenstrahl um jede Aufgabe zu lösen. Die erste Aufgabe ist bereits als Beispiel gelöst.

Antworten




1. \_\_\_\_\_

2. \_\_\_\_\_



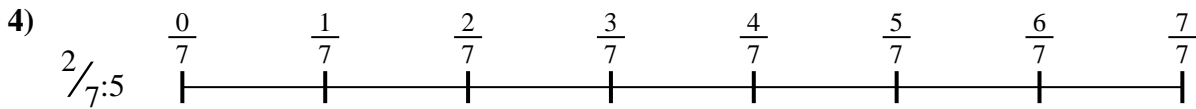
3. \_\_\_\_\_

4. \_\_\_\_\_



5. \_\_\_\_\_


6. \_\_\_\_\_



7. \_\_\_\_\_

8. \_\_\_\_\_

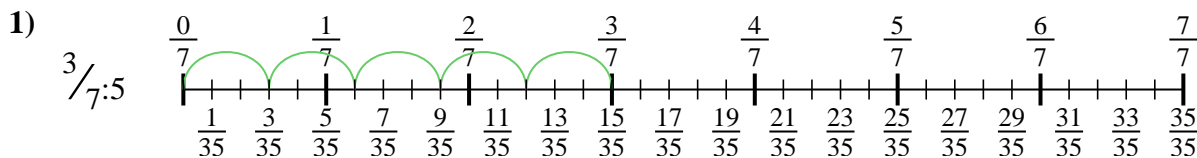
9. \_\_\_\_\_



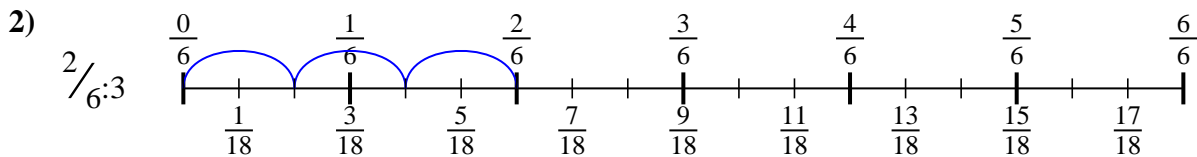


Benutze den Zahlenstrahl um jede Aufgabe zu lösen. Die erste Aufgabe ist bereits als Beispiel gelöst.

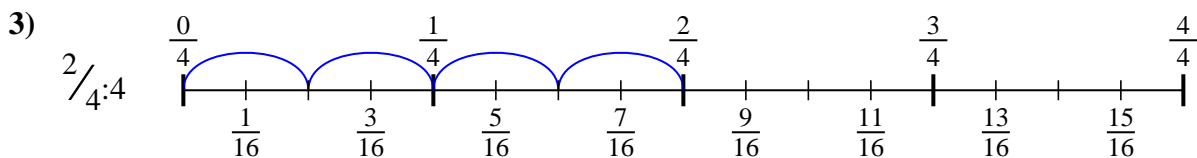
Antworten



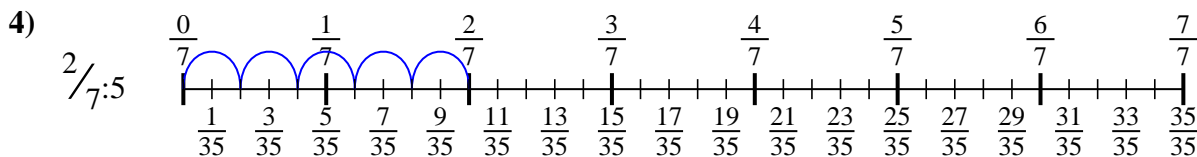
1.  $\frac{3}{35}$



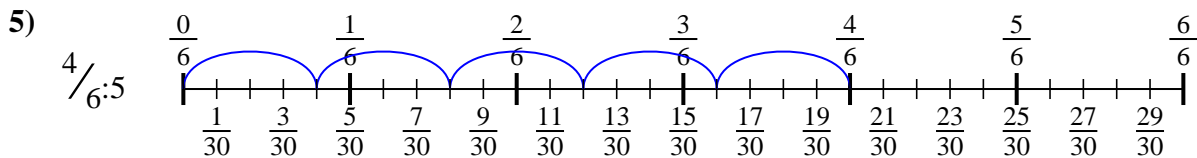
2.  $\frac{2}{18}$



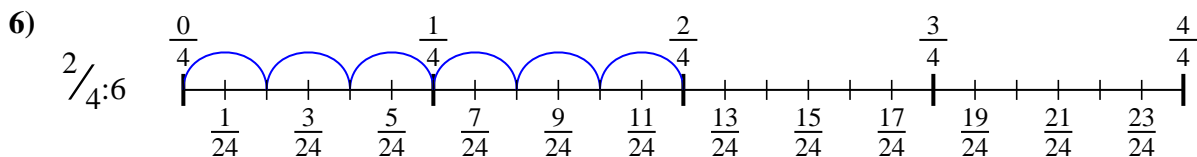
3.  $\frac{2}{16}$



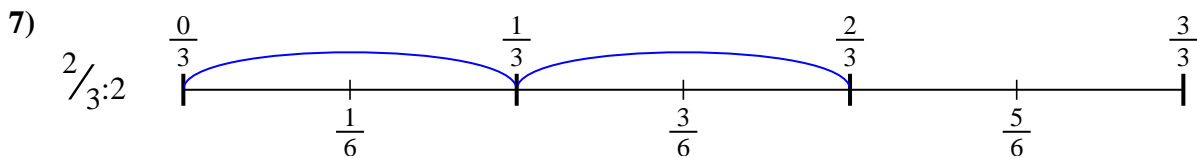
4.  $\frac{2}{35}$



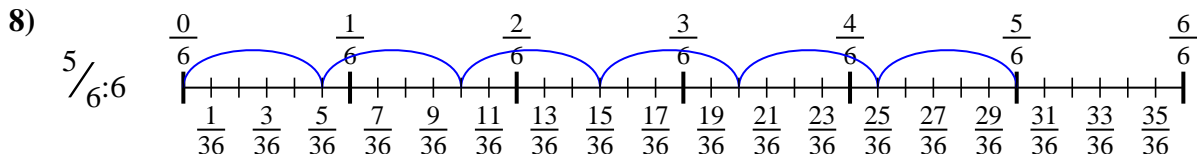
5.  $\frac{4}{30}$



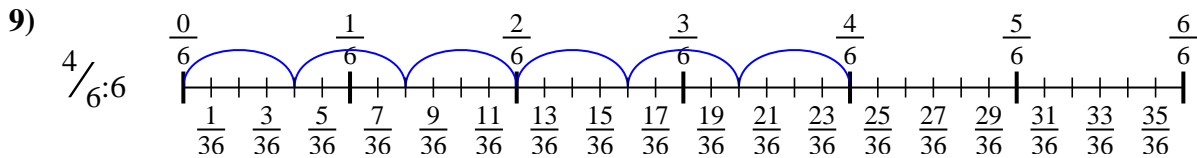
6.  $\frac{2}{24}$



7.  $\frac{2}{6}$



8.  $\frac{5}{36}$



9.  $\frac{4}{36}$



Benutze den Zahlenstrahl um jede Aufgabe zu lösen. Die erste Aufgabe ist bereits als Beispiel gelöst.

Antworten

$\frac{2}{18}$

$\frac{2}{24}$

$\frac{5}{36}$

$\frac{2}{16}$

$\frac{4}{36}$

$\frac{3}{35}$

$\frac{2}{35}$

$\frac{4}{30}$

$\frac{2}{6}$

1. \_\_\_\_\_

2. \_\_\_\_\_

3. \_\_\_\_\_

4. \_\_\_\_\_

5. \_\_\_\_\_

6. \_\_\_\_\_

7. \_\_\_\_\_

8. \_\_\_\_\_

9. \_\_\_\_\_

