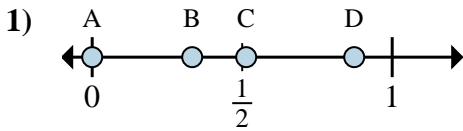
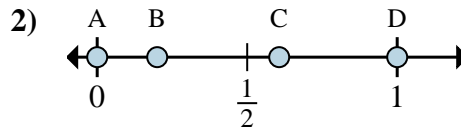




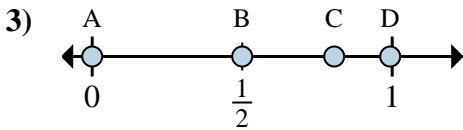
Stelle fest, welcher Buchstabe die richtige Lage auf dem Zahlenstrahl darstellt.

Antworten

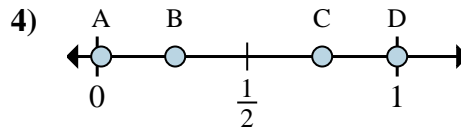
- a. Welcher Buchstabe zeigt die richtige Lage von $\frac{0}{6}$
- b. Welcher Buchstabe zeigt die richtige Lage von $\frac{2}{6}$



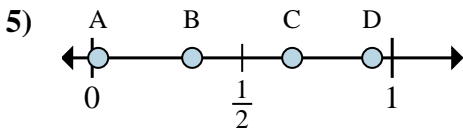
- a. Welcher Buchstabe zeigt die richtige Lage von $\frac{0}{3}$
- b. Welcher Buchstabe zeigt die richtige Lage von $\frac{3}{3}$



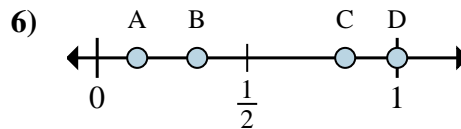
- a. Welcher Buchstabe zeigt die richtige Lage von $\frac{0}{4}$
- b. Welcher Buchstabe zeigt die richtige Lage von $\frac{2}{4}$



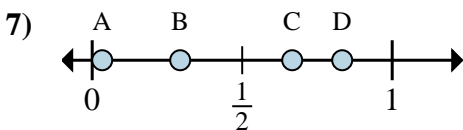
- a. Welcher Buchstabe zeigt die richtige Lage von $\frac{3}{4}$
- b. Welcher Buchstabe zeigt die richtige Lage von $\frac{4}{4}$



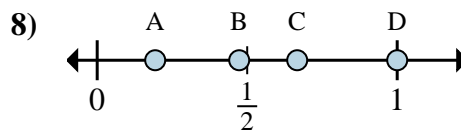
- a. Welcher Buchstabe zeigt die richtige Lage von $\frac{2}{3}$
- b. Welcher Buchstabe zeigt die richtige Lage von $\frac{1}{3}$



- a. Welcher Buchstabe zeigt die richtige Lage von $\frac{3}{3}$
- b. Welcher Buchstabe zeigt die richtige Lage von $\frac{1}{3}$



- a. Welcher Buchstabe zeigt die richtige Lage von $\frac{4}{6}$
- b. Welcher Buchstabe zeigt die richtige Lage von $\frac{5}{6}$



- a. Welcher Buchstabe zeigt die richtige Lage von $\frac{2}{3}$
- b. Welcher Buchstabe zeigt die richtige Lage von $\frac{3}{3}$

1. _____

2. _____

3. _____

4. _____

5. _____

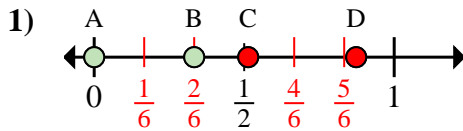
6. _____

7. _____

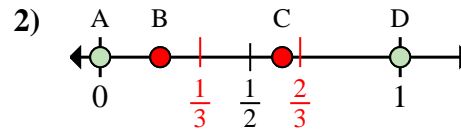
8. _____



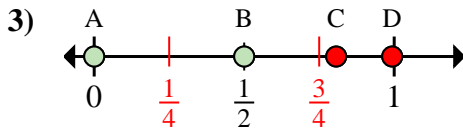
Stelle fest, welcher Buchstabe die richtige Lage auf dem Zahlenstrahl darstellt.

Antworten

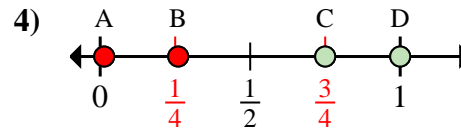
- a. Welcher Buchstabe zeigt die richtige Lage von $\frac{0}{6}$
- b. Welcher Buchstabe zeigt die richtige Lage von $\frac{2}{6}$



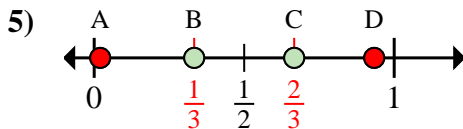
- a. Welcher Buchstabe zeigt die richtige Lage von $\frac{0}{3}$
- b. Welcher Buchstabe zeigt die richtige Lage von $\frac{3}{3}$



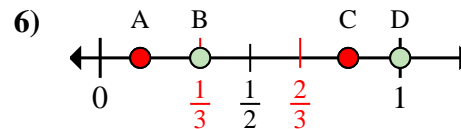
- a. Welcher Buchstabe zeigt die richtige Lage von $\frac{0}{4}$
- b. Welcher Buchstabe zeigt die richtige Lage von $\frac{2}{4}$



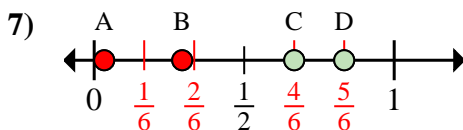
- a. Welcher Buchstabe zeigt die richtige Lage von $\frac{3}{4}$
- b. Welcher Buchstabe zeigt die richtige Lage von $\frac{4}{4}$



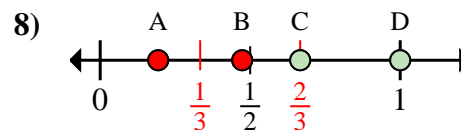
- a. Welcher Buchstabe zeigt die richtige Lage von $\frac{2}{3}$
- b. Welcher Buchstabe zeigt die richtige Lage von $\frac{1}{3}$



- a. Welcher Buchstabe zeigt die richtige Lage von $\frac{3}{3}$
- b. Welcher Buchstabe zeigt die richtige Lage von $\frac{1}{3}$



- a. Welcher Buchstabe zeigt die richtige Lage von $\frac{4}{6}$
- b. Welcher Buchstabe zeigt die richtige Lage von $\frac{5}{6}$



- a. Welcher Buchstabe zeigt die richtige Lage von $\frac{2}{3}$
- b. Welcher Buchstabe zeigt die richtige Lage von $\frac{3}{3}$

1. A B
2. A D
3. A B
4. C D
5. C B
6. D B
7. C D
8. C D