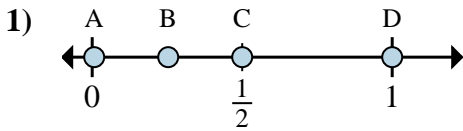
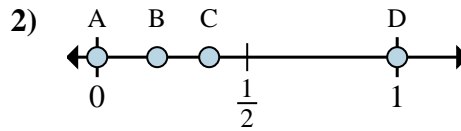




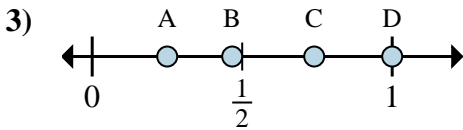
Stelle fest, welcher Buchstabe die richtige Lage auf dem Zahlenstrahl darstellt.

Antworten

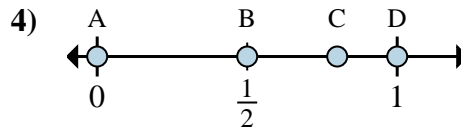
- a. Welcher Buchstabe zeigt die richtige Lage von $\frac{6}{6}$
- b. Welcher Buchstabe zeigt die richtige Lage von $\frac{3}{6}$



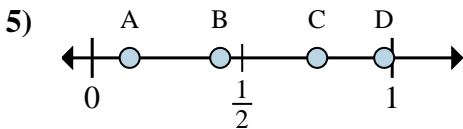
- a. Welcher Buchstabe zeigt die richtige Lage von $\frac{0}{2}$
- b. Welcher Buchstabe zeigt die richtige Lage von $\frac{2}{2}$



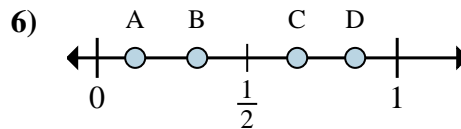
- a. Welcher Buchstabe zeigt die richtige Lage von $\frac{1}{4}$
- b. Welcher Buchstabe zeigt die richtige Lage von $\frac{4}{4}$



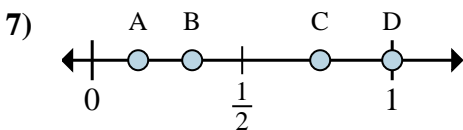
- a. Welcher Buchstabe zeigt die richtige Lage von $\frac{0}{3}$
- b. Welcher Buchstabe zeigt die richtige Lage von $\frac{3}{3}$



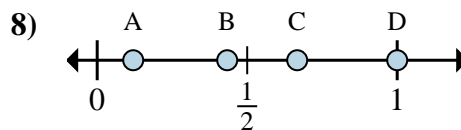
- a. Welcher Buchstabe zeigt die richtige Lage von $\frac{1}{8}$
- b. Welcher Buchstabe zeigt die richtige Lage von $\frac{6}{8}$



- a. Welcher Buchstabe zeigt die richtige Lage von $\frac{2}{3}$
- b. Welcher Buchstabe zeigt die richtige Lage von $\frac{1}{3}$



- a. Welcher Buchstabe zeigt die richtige Lage von $\frac{1}{3}$
- b. Welcher Buchstabe zeigt die richtige Lage von $\frac{3}{3}$



- a. Welcher Buchstabe zeigt die richtige Lage von $\frac{3}{3}$
- b. Welcher Buchstabe zeigt die richtige Lage von $\frac{2}{3}$

1. _____

2. _____

3. _____

4. _____

5. _____

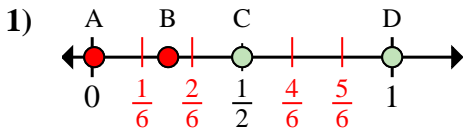
6. _____

7. _____

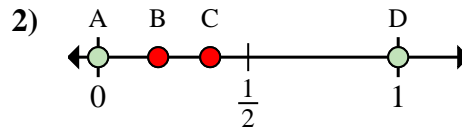
8. _____



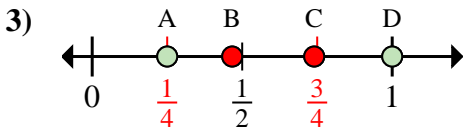
Stelle fest, welcher Buchstabe die richtige Lage auf dem Zahlenstrahl darstellt.

Antworten

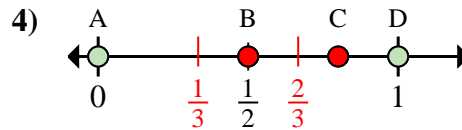
- a. Welcher Buchstabe zeigt die richtige Lage von $\frac{6}{6}$
- b. Welcher Buchstabe zeigt die richtige Lage von $\frac{3}{6}$



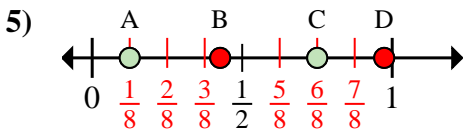
- a. Welcher Buchstabe zeigt die richtige Lage von $\frac{0}{2}$
- b. Welcher Buchstabe zeigt die richtige Lage von $\frac{2}{2}$



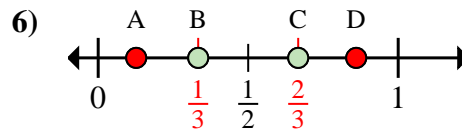
- a. Welcher Buchstabe zeigt die richtige Lage von $\frac{1}{4}$
- b. Welcher Buchstabe zeigt die richtige Lage von $\frac{4}{4}$



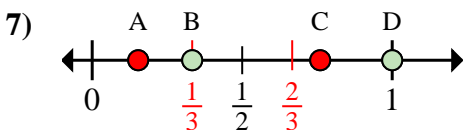
- a. Welcher Buchstabe zeigt die richtige Lage von $\frac{0}{3}$
- b. Welcher Buchstabe zeigt die richtige Lage von $\frac{3}{3}$



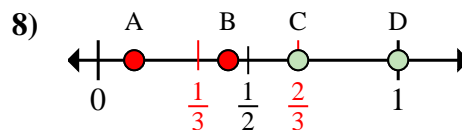
- a. Welcher Buchstabe zeigt die richtige Lage von $\frac{1}{8}$
- b. Welcher Buchstabe zeigt die richtige Lage von $\frac{6}{8}$



- a. Welcher Buchstabe zeigt die richtige Lage von $\frac{2}{3}$
- b. Welcher Buchstabe zeigt die richtige Lage von $\frac{1}{3}$



- a. Welcher Buchstabe zeigt die richtige Lage von $\frac{1}{3}$
- b. Welcher Buchstabe zeigt die richtige Lage von $\frac{3}{3}$



- a. Welcher Buchstabe zeigt die richtige Lage von $\frac{3}{3}$
- b. Welcher Buchstabe zeigt die richtige Lage von $\frac{2}{3}$

1. D C2. A D3. A D4. A D5. A C6. C B7. B D8. D C