


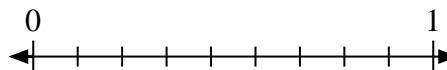


Löse jede Aufgabe.

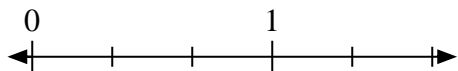
- 1) Schreiben Sie
- $\frac{1}{2}$
- als ganze Zahl.



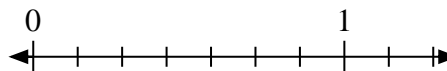
- 2) Schreiben Sie
- $\frac{4}{9}$
- als ganze Zahl.



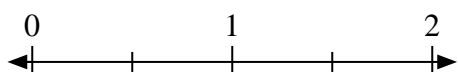
- 3) Schreiben Sie
- $\frac{2}{3}$
- als ganze Zahl.



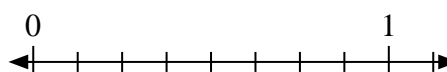
- 4) Schreiben Sie
- $\frac{7}{7}$
- als ganze Zahl.



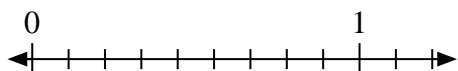
- 5) Schreiben Sie
- $\frac{0}{2}$
- als ganze Zahl.



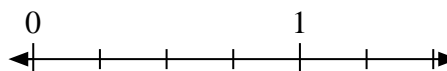
- 6) Schreiben Sie
- $\frac{0}{8}$
- als ganze Zahl.




- 7) Schreiben Sie
- $\frac{9}{9}$
- als ganze Zahl.



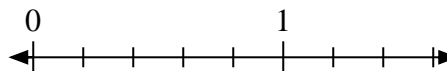
- 8) Schreiben Sie
- $\frac{0}{4}$
- als ganze Zahl.



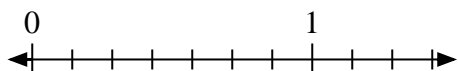
- 9) Schreiben Sie
- $\frac{3}{3}$
- als ganze Zahl.



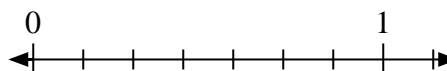
- 10) Schreiben Sie
- $\frac{2}{5}$
- als ganze Zahl.



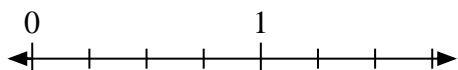
- 11) Schreiben Sie
- $\frac{4}{7}$
- als ganze Zahl.



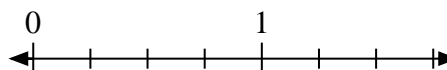
- 12) Schreiben Sie
- $\frac{3}{7}$
- als ganze Zahl.



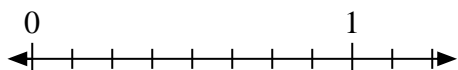
- 13) Schreiben Sie
- $\frac{2}{4}$
- als ganze Zahl.



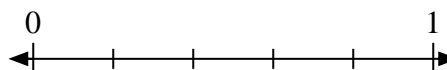
- 14) Schreiben Sie
- $\frac{4}{4}$
- als ganze Zahl.



- 15) Schreiben Sie
- $\frac{3}{8}$
- als ganze Zahl.




- 16) Schreiben Sie
- $\frac{5}{5}$
- als ganze Zahl.



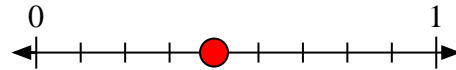


Löse jede Aufgabe.

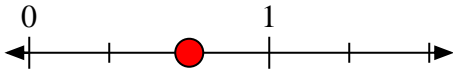
- 1) Schreiben Sie
- $\frac{1}{2}$
- als ganze Zahl.



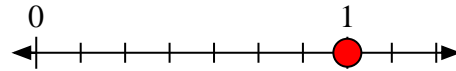
- 2) Schreiben Sie
- $\frac{4}{9}$
- als ganze Zahl.



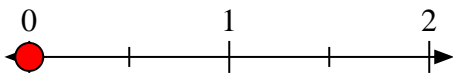
- 3) Schreiben Sie
- $\frac{2}{3}$
- als ganze Zahl.



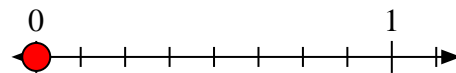
- 4) Schreiben Sie
- $\frac{7}{7}$
- als ganze Zahl.



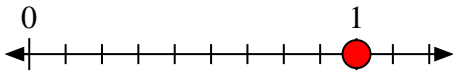
- 5) Schreiben Sie
- $\frac{0}{2}$
- als ganze Zahl.



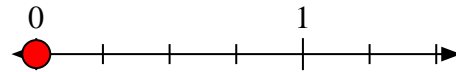
- 6) Schreiben Sie
- $\frac{0}{8}$
- als ganze Zahl.




- 7) Schreiben Sie
- $\frac{9}{9}$
- als ganze Zahl.



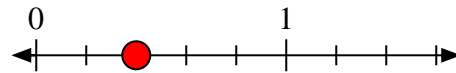
- 8) Schreiben Sie
- $\frac{0}{4}$
- als ganze Zahl.



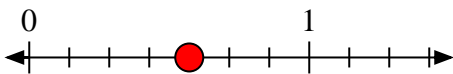
- 9) Schreiben Sie
- $\frac{3}{3}$
- als ganze Zahl.



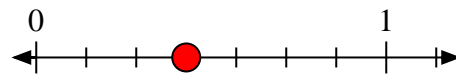
- 10) Schreiben Sie
- $\frac{2}{5}$
- als ganze Zahl.



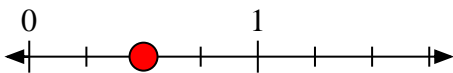
- 11) Schreiben Sie
- $\frac{4}{7}$
- als ganze Zahl.



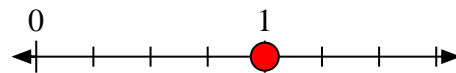
- 12) Schreiben Sie
- $\frac{3}{7}$
- als ganze Zahl.



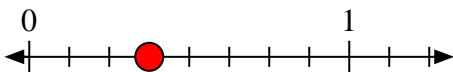
- 13) Schreiben Sie
- $\frac{2}{4}$
- als ganze Zahl.



- 14) Schreiben Sie
- $\frac{4}{4}$
- als ganze Zahl.



- 15) Schreiben Sie
- $\frac{3}{8}$
- als ganze Zahl.



- 16) Schreiben Sie
- $\frac{5}{5}$
- als ganze Zahl.

