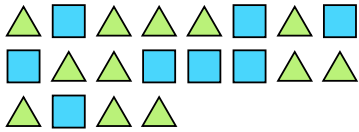




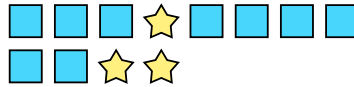
Löse jede Aufgabe.

Antworten

Bsp) Drücke die Dreiecke als ein Bruchteil der ganzen Reihe aus.



1) Drücke die Sterne als ein Bruchteil der ganzen Reihe aus.



Bsp. $\frac{12}{20}$

2) Drücke die moons als ein Bruchteil der ganzen Reihe aus.




3) Drücke die moons als ein Bruchteil der ganzen Reihe aus.




1. _____

2. _____

4) Drücke die Sterne als ein Bruchteil der ganzen Reihe aus.



5) Drücke die Dreiecke als ein Bruchteil der ganzen Reihe aus.



3. _____

4. _____

5. _____

6. _____

7. _____

8. _____

9. _____

6) Drücke die hearts als ein Bruchteil der ganzen Reihe aus.



7) Drücke die hearts als ein Bruchteil der ganzen Reihe aus.



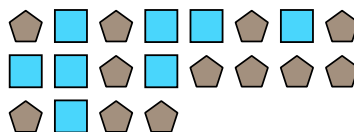
10. _____

11. _____

8) Drücke die hearts als ein Bruchteil der ganzen Reihe aus.



9) Drücke die Rechtecke als ein Bruchteil der ganzen Reihe aus.



10) Drücke die hearts als ein Bruchteil der ganzen Reihe aus.



11) Drücke die Rechtecke als ein Bruchteil der ganzen Reihe aus.

