


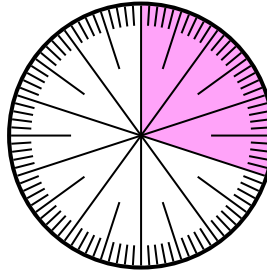


Löse jede Aufgabe.

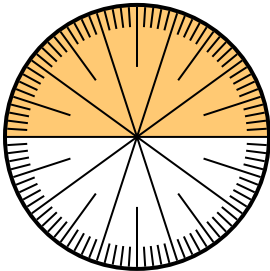
- 1) Drücken Sie den schattiert-Anteil als Dezimalzahl des Ganzen aus.



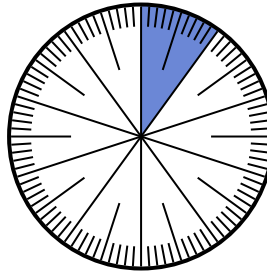
- 2) Drücken Sie den schattiert-Anteil als Bruchteil des Ganzen mit einem 100 als Nenner aus.



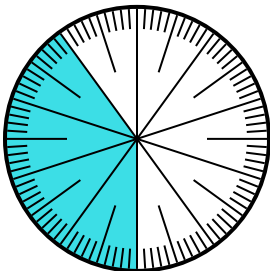
- 3) Drücken Sie den schattiert-Anteil als Bruchteil des Ganzen mit einem 100 als Nenner aus.



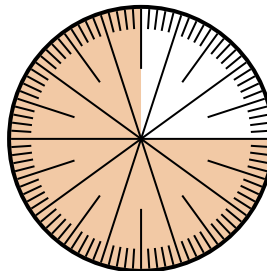
- 4) Drücken Sie den nicht beschattet-Anteil als Dezimalzahl des Ganzen aus.



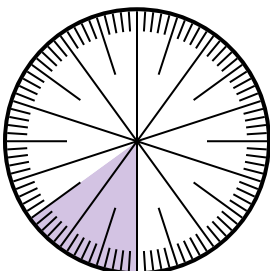
- 5) Drücken Sie den schattiert-Anteil als Dezimalzahl des Ganzen aus.



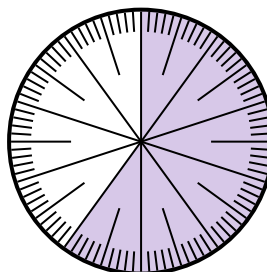
- 6) Drücken Sie den nicht beschattet-Anteil als Dezimalzahl des Ganzen aus.



- 7) Drücken Sie den nicht beschattet-Anteil als Dezimalzahl des Ganzen aus.



- 8) Drücken Sie den nicht beschattet-Anteil als Bruchteil des Ganzen mit einem 100 als Nenner aus.




Antworten

1. _____
 2. _____
 3. _____
 4. _____
 5. _____
 6. _____
 7. _____
 8. _____

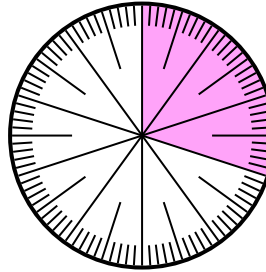


Löse jede Aufgabe.

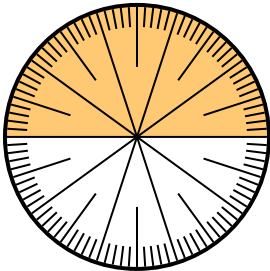
- 1) Drücken Sie den schattiert-Anteil als Dezimalzahl des Ganzen aus.



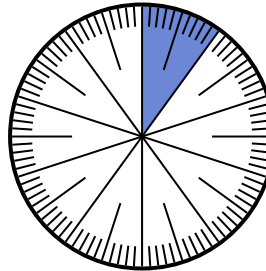
- 2) Drücken Sie den schattiert-Anteil als Bruchteil des Ganzen mit einem 100 als Nenner aus.



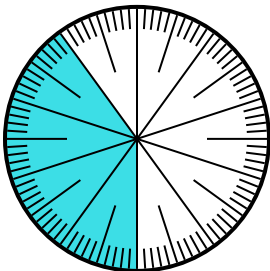
- 3) Drücken Sie den schattiert-Anteil als Bruchteil des Ganzen mit einem 100 als Nenner aus.



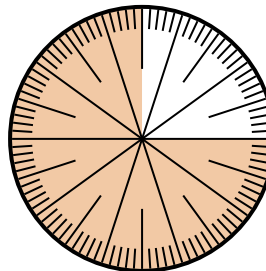
- 4) Drücken Sie den nicht beschattet-Anteil als Dezimalzahl des Ganzen aus.



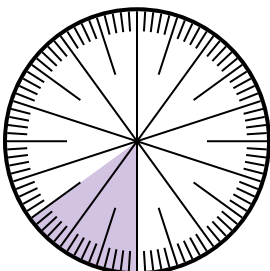
- 5) Drücken Sie den schattiert-Anteil als Dezimalzahl des Ganzen aus.



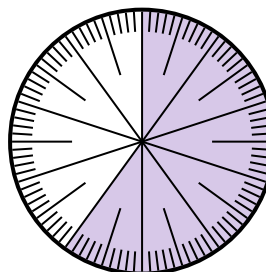
- 6) Drücken Sie den nicht beschattet-Anteil als Dezimalzahl des Ganzen aus.



- 7) Drücken Sie den nicht beschattet-Anteil als Dezimalzahl des Ganzen aus.



- 8) Drücken Sie den nicht beschattet-Anteil als Bruchteil des Ganzen mit einem 100 als Nenner aus.

**Antworten**1. 0,82. $\frac{30}{100}$ 3. $\frac{50}{100}$ 4. 0,95. 0,46. 0,257. 0,858. $\frac{40}{100}$