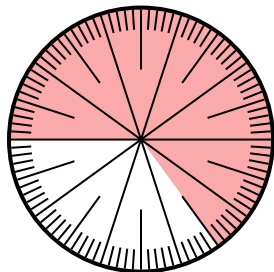


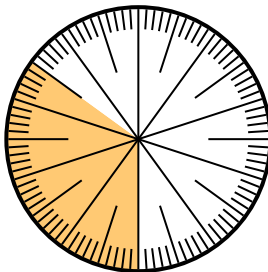


Löse jede Aufgabe.

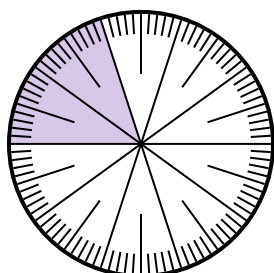
- 1) Drücken Sie den schattiert-Anteil als Bruchteil des Ganzen mit einem 100 als Nenner aus.



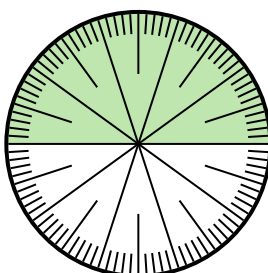
- 2) Drücken Sie den nicht beschattet-Anteil als Dezimalzahl des Ganzen aus.




- 3) Drücken Sie den nicht beschattet-Anteil als Bruchteil des Ganzen mit einem 10 als Nenner aus.



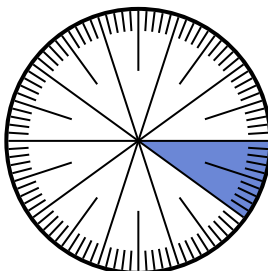
- 4) Drücken Sie den schattiert-Anteil als Bruchteil des Ganzen mit einem 100 als Nenner aus.



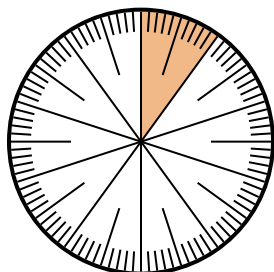
- 5) Drücken Sie den nicht beschattet-Anteil als Dezimalzahl des Ganzen aus.



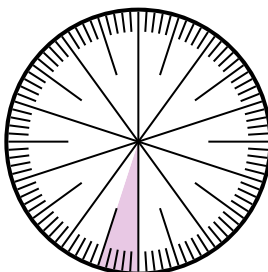
- 6) Drücken Sie den nicht beschattet-Anteil als Dezimalzahl des Ganzen aus.



- 7) Drücken Sie den schattiert-Anteil als Bruchteil des Ganzen mit einem 100 als Nenner aus.



- 8) Drücken Sie den schattiert-Anteil als Bruchteil des Ganzen mit einem 100 als Nenner aus.



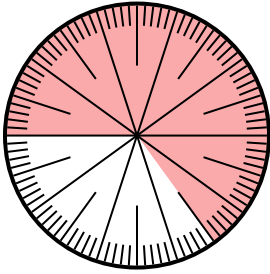
Antworten

1. _____
2. _____
3. _____
4. _____
5. _____
6. _____
7. _____
8. _____

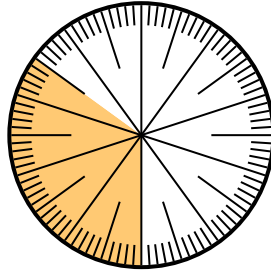


Löse jede Aufgabe.

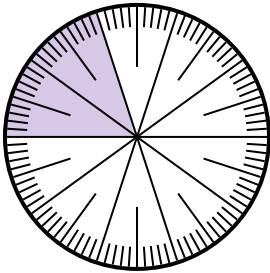
- 1) Drücken Sie den schattiert-Anteil als Bruchteil des Ganzen mit einem 100 als Nenner aus.



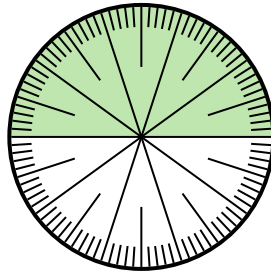
- 2) Drücken Sie den nicht beschattet-Anteil als Dezimalzahl des Ganzen aus.




- 3) Drücken Sie den nicht beschattet-Anteil als Bruchteil des Ganzen mit einem 10 als Nenner aus.



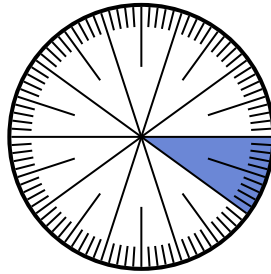
- 4) Drücken Sie den schattiert-Anteil als Bruchteil des Ganzen mit einem 100 als Nenner aus.



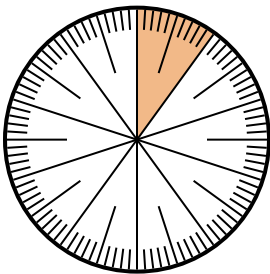
- 5) Drücken Sie den nicht beschattet-Anteil als Dezimalzahl des Ganzen aus.



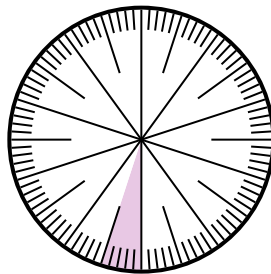
- 6) Drücken Sie den nicht beschattet-Anteil als Dezimalzahl des Ganzen aus.



- 7) Drücken Sie den schattiert-Anteil als Bruchteil des Ganzen mit einem 100 als Nenner aus.



- 8) Drücken Sie den schattiert-Anteil als Bruchteil des Ganzen mit einem 100 als Nenner aus.

**Antworten**

1. $\frac{65}{100}$

2. $0,65$

3. $\frac{8}{10}$

4. $\frac{50}{100}$

5. $0,1$

6. $0,9$

7. $\frac{10}{100}$

8. $\frac{5}{100}$